

## Chương 3

# Tích phân đường

### 3.1 Trường Vectơ

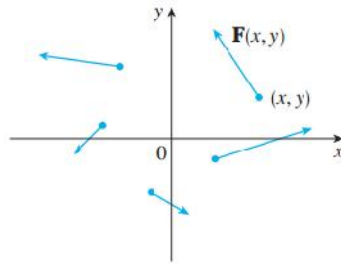
#### 3.1.1 Định nghĩa

**Định nghĩa 3.1.** Cho  $D \subset \mathbb{R}^2$ . Một **trường vectơ** trong  $\mathbb{R}^2$  là một hàm  $F$  gán cho mỗi điểm  $(x, y)$  trong  $D$  một vectơ hai chiều

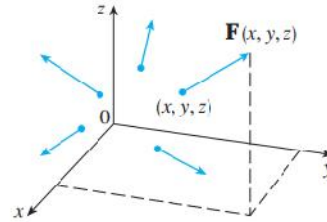
$$F(x, y) = P(x, y) \cdot i + Q(x, y) \cdot j = (P(x, y), Q(x, y))$$

**Định nghĩa 3.2.** Cho  $E \subset \mathbb{R}^3$ . Một **trường vectơ** trong  $\mathbb{R}^3$  là một hàm  $F$  gán cho mỗi điểm  $(x, y, z)$  trong  $E$  một vectơ ba chiều

$$F(x, y, z) = P(x, y, z) \cdot i + Q(x, y, z) \cdot j + R(x, y, z) \cdot k = (P(x, y, z), Q(x, y, z), R(x, y, z))$$



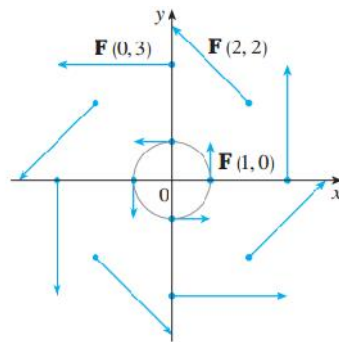
Vector field on  $\mathbb{R}^2$



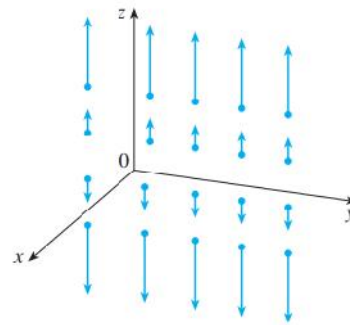
Vector field on  $\mathbb{R}^3$

**Ví dụ 3.1.** 1. Một trường vectơ trong  $\mathbb{R}^2$  được xác định bởi  $F(x, y) = -yi + xj$

2. Một trường vectơ trong  $\mathbb{R}^3$  được cho bởi phương trình  $F(x, y, z) = zk$



$F(x, y) = -y \mathbf{i} + x \mathbf{j}$



$F(x, y, z) = z \mathbf{k}$

▷ **Trường hấp dẫn.**

**Ví dụ 3.2.** Định luật hấp dẫn của Newton phát biểu rằng lực hấp dẫn giữa hai vật có khối lượng  $m$  và  $M$  là

$$|F| = \frac{m.M.G}{r^2}$$

trong đó  $r$  là khoảng cách giữa hai vật,  $G$  là hằng số hấp dẫn.

Giả sử

Vật  $M$  nằm tại gốc tọa độ.

Vật  $m$  có vectơ vị trí  $X = (x, y, z)$ .

Khi đó

- khoảng cách  $r = |X|$

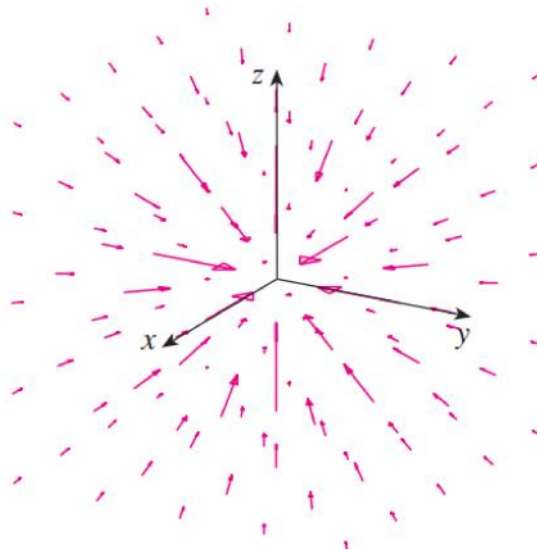
- lực hấp dẫn tác dụng lên vật  $m$  hướng tới gốc tọa độ, có vectơ đơn vị là  $\frac{X}{|X|}$ .

Vậy, lực hấp dẫn tác dụng lên vật  $m$  là

$$F(X) = -\frac{m.M.G}{|X|^3} \cdot X$$

Hay

$$F(x, y, z) = \frac{-m.M.G.x}{(x^2 + y^2 + z^2)^{3/2}} \cdot i + \frac{-m.M.G.y}{(x^2 + y^2 + z^2)^{3/2}} \cdot j + \frac{-m.M.G.z}{(x^2 + y^2 + z^2)^{3/2}} \cdot k$$



▷ **Trường lực từ.**

**Ví dụ 3.3.** Giả sử một điện tích  $Q$  nằm ở gốc tọa độ. Theo định luật Coulomb, lực từ  $F(X)$  tác dụng lên điện tích  $q$  nằm tại điểm  $(x, y, z)$  với vectơ vị trí  $X = (x, y, z)$  là

$$F(X) = \frac{\varepsilon \cdot q \cdot Q}{|X|^3} \cdot X$$

trong đó

$\varepsilon$  : hằng số.

$q, Q$  điện tích. Nếu  $q, Q$  cùng dấu  $F$  là lực đẩy, nếu  $q, Q$  trái dấu,  $F$  là lực hút.

Hay

$$F(x, y, z) = \frac{\varepsilon \cdot q \cdot Q \cdot x}{(x^2 + y^2 + z^2)^{3/2}} \cdot i + \frac{\varepsilon \cdot q \cdot Q \cdot y}{(x^2 + y^2 + z^2)^{3/2}} \cdot j + \frac{\varepsilon \cdot q \cdot Q \cdot z}{(x^2 + y^2 + z^2)^{3/2}} \cdot k$$

▷ **Trường Gradient.** Nếu  $f$  là hàm vô hướng hai biến, thì gradient của  $f$

$$\nabla f(x, y) = f_x(x, y) i + f_y(x, y) j$$

là một trường vectơ trong  $\mathbb{R}^2$ , gọi là trường vectơ Gradient.

Nếu  $f$  là hàm vô hướng ba biến, thì gradient của  $f$

$$\nabla f(x, y, z) = f_x(x, y, z) i + f_y(x, y, z) j + f_z(x, y, z) k$$

là một trường vectơ trong  $\mathbb{R}^3$ .

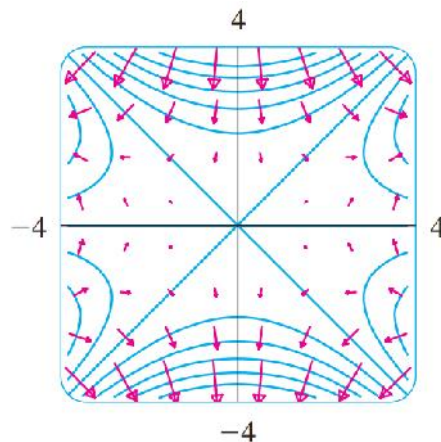
**Ví dụ 3.4.** Tìm trường vectơ gradient của  $f(x, y) = x^2y - y^3$ . Vẽ trường vectơ gradient và bản đồ đường mức của  $f$ .

*Giải*

Trường vectơ gradient của  $f$

$$\nabla f(x, y) = f_x(x, y) i + f_y(x, y) j = 2xyi + (x^2 - 3y^2) j$$

Hình vẽ



### 3.2 Đường trong mặt phẳng - không gian

Cho đường cong  $C : \begin{cases} x = x(t) \\ y = y(t) \end{cases}$ , đường cong  $C$  được gọi là

- *trơn*, nếu


$x(t), y(t)$  có đạo hàm liên tục, và

$x'(t), y'(t)$  không đồng thời triệt tiêu  $\forall t \in [a, b]$  (nghĩa là  $(x'(t))^2 + (y'(t))^2 \neq 0$ )

- *trơn từng khúc*, nếu nó gồm một số hữu hạn các đường trơn.

- *khép kín (hay đóng)*, nếu điểm đầu và điểm cuối của nó trùng nhau, nghĩa là  $x(a) = x(b), y(a) = y(b)$ .

- *không có điểm tự cắt (đường cong đơn)*, nếu với mọi  $t_1, t_2 \in [a, b], t_1 \neq t_2$  đều có  $(x(t_1), y(t_1)) \neq (x(t_2), y(t_2))$  trừ trường hợp  $t_1 = a, t_2 = b$ .



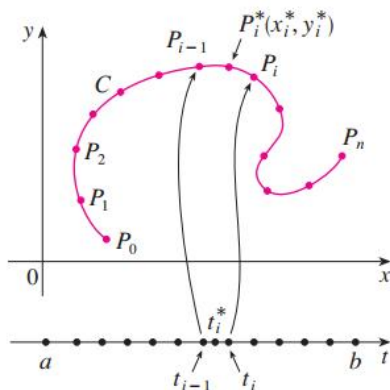
### 3.3 Tích phân đường loại I

#### 3.3.1 Định nghĩa

Cho  $C$  là một đường cong trơn trong  $\mathbb{R}^2$  có phương trình tham số

$$\begin{cases} x = x(t) \\ y = y(t) \end{cases}, \quad t \in [a, b].$$

và hàm  $f(x, y)$  liên tục trên  $[a, b]$ .



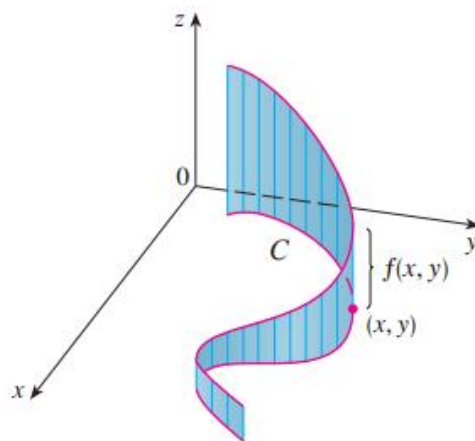
- Chia  $[a, b]$  thành  $n$  đoạn  $[t_{i-1}, t_i]$ .
- Với mỗi điểm  $t_i, i = \overline{0, n}$ , ta có điểm  $P_i = P(x(t_i), y(t_i))$ .
- Các điểm  $P_i$  chia đường cong  $C$  thành  $n$  cung nhỏ  $P_{i-1}P_i$ .
- Đặt  $\Delta_i$  là chiều dài cung  $P_{i-1}P_i$ .



- Ta chọn điểm bất kỳ  $P_i^* (x_i^*, y_i^*)$  trong cung  $P_{i-1}P_i$ .
- Khi đó, **tích phân đường của  $f$  dọc theo  $C$  là**

$$\int_C f(x, y) ds = \lim_{n \rightarrow \infty} \sum_{i=1}^n f(x_i^*, y_i^*) \Delta s_i \quad (3.1)$$

nếu giới hạn này tồn tại.



Chú ý: nếu  $C$  là đường cong kín, ta ký hiệu  $\oint_C f(x, y) ds$ .

### Tính chất 3.1. .

1.  $\int_C (f \pm g) ds = \int_C f ds \pm \int_C g ds$ .
2.  $\int_C c f(x, y) ds = c \int_C f(x, y) ds$ .
3. Nếu  $C = C_1 \cup C_2 \cup \dots \cup C_n$  thì  $\int_C f(x, y) ds = \int_{C_1} f(x, y) ds + \dots + \int_{C_n} f(x, y) ds$ .
4. Nếu  $f = 1$  thì  $\int_C ds$  là chiều dài của cung  $C$ .
5. Tích phân đường loại I không phụ thuộc vào chiều của đường cong.

### 3.3.2 Cách tính

#### A. Trong $\mathbb{R}^2$

- Nếu  $C$  có dạng  $\begin{cases} x = x(t) \\ y = y(t) \end{cases}$ ,  $t \in [a, b]$ , ta có

$$\int_C f(x, y) ds = \int_a^b f(x(t), y(t)) \cdot \sqrt{[x'(t)]^2 + [y'(t)]^2} dt.$$

- Nếu  $C$  có dạng  $y = y(x)$ ,  $x \in [a, b]$ , ta có

$$\int_C f(x, y) ds = \int_a^b f(x, y(x)) \cdot \sqrt{1 + [y'(x)]^2} dx.$$

- Nếu  $C$  có dạng  $x = x(y)$ ,  $y \in [a, b]$ , ta có

$$\int_C f(x, y) ds = \int_a^b f(x(y), y) \cdot \sqrt{1 + [x'(y)]^2} dy.$$

### B. Trong $\mathbb{R}^3$

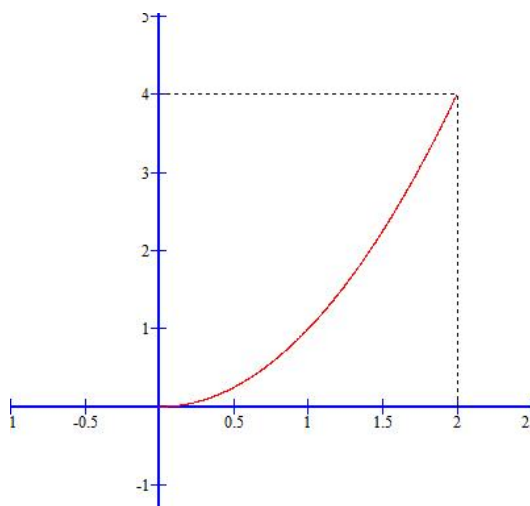
$C$  có dạng  $\begin{cases} x = x(t) \\ y = y(t) \\ z = z(t) \end{cases}$ ,  $t \in [a, b]$ , ta có

$$\int_C f(x, y, z) ds = \int_a^b f(x(t), y(t), z(t)) \cdot \sqrt{[x'(t)]^2 + [y'(t)]^2 + [z'(t)]^2} dt.$$

**Ví dụ 3.5.** Tính  $\int_C xy ds$ , trong đó  $C$  có phương trình

$$\begin{cases} x = t \\ y = t^2 \end{cases}, \quad t \in [0, 2]$$

*Giải*



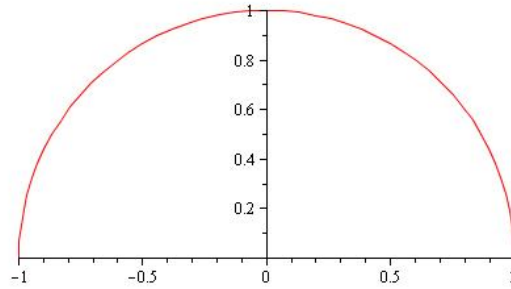
Ta có  $\begin{cases} x'(t) = 1 \\ y'(t) = 2t \end{cases}$

Suy ra

$$\int_C xy ds = \int_0^2 t \cdot t^2 \sqrt{1^2 + (2t)^2} dt = \frac{1}{120} (391\sqrt{17} + 1).$$

**Ví dụ 3.6.** Tính  $\int_C (2 + x^2 y) ds$ , trong đó  $C$  là nửa trên của đường tròn  $x^2 + y^2 = 1$ .

*Giải*



Đặt  $\begin{cases} x = \cos t \\ y = \sin t \end{cases}, 0 \leq t \leq \pi.$

Ta có  $\begin{cases} x'(t) = -\sin t \\ y'(t) = \cos t \end{cases}$

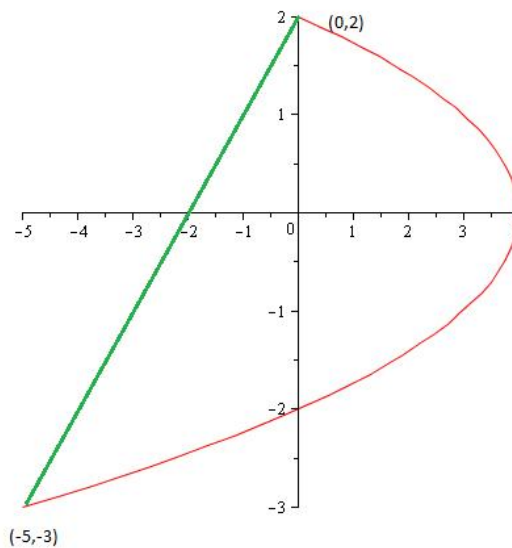
Suy ra

$$\begin{aligned} \int_C (2 + x^2 y) ds &= \int_0^\pi (2 + \cos^2 t \cdot \sin t) \sqrt{(-\sin t)^2 + (\cos t)^2} dt \\ &= \int_0^\pi (2 + \cos^2 t \cdot \sin t) dt \\ &= 2\pi + \frac{2}{3}. \end{aligned}$$

**Ví dụ 3.7.** Tính  $\int_C y ds$ , trong đó

1.  $C$  là đường thẳng từ điểm  $(-5, -3)$  tới  $(0, 2)$ .
2.  $C$  là parabol  $x = 4 - y^2$  từ điểm  $(-5, -3)$  tới  $(0, 2)$ .

*Giải*



Nhắc lại: Ta có phương trình đường thẳng đi từ  $A(x_A, y_A)$  tới  $B(x_B, y_B)$  là

$$\begin{cases} x = (1-t)x_A + tx_B \\ y = (1-t)y_A + ty_B \end{cases}, \quad 0 \leq t \leq 1.$$

1. Ta có  $C : \begin{cases} x = 5t - 5 \\ y = 5t - 3 \end{cases}, \quad 0 \leq t \leq 1. \Rightarrow \begin{cases} x' = 5 \\ y' = 5 \end{cases}.$

Suy ra

$$\int_C y ds = \int_0^1 (5t - 3) \sqrt{(5)^2 + (5)^2} dt = \sqrt{50} \int_0^1 (5t - 3) dt = -\frac{\sqrt{50}}{2}.$$

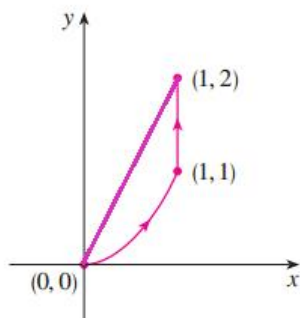
2. Ta có  $C : x = 4 - y^2, -3 \leq y \leq 2 \Rightarrow x' = -2y^2.$

Suy ra

$$\int_C y ds = \int_{-3}^2 y \sqrt{(-2y)^2 + (1)^2} dy = \frac{1}{12} (17\sqrt{17} - 37\sqrt{37}).$$

**Ví dụ 3.8.** Tính  $\int_C 2x ds$ , trong đó  $C$  gồm cung  $C_1 : y = x^2$  từ  $(0, 0)$  đến  $(1, 1)$ , nối tiếp bởi  $C_2$  là đường thẳng  $(1, 1)$  đến  $(1, 2)$ , và  $C_3$  là đường thẳng từ  $(1, 2)$  đến  $(0, 0)$ .

*Giải*



**Ví dụ 3.9.** Tính  $\int_C xyz ds$ , trong đó  $C$  là một đoạn của đường xoắn ốc

$$\begin{cases} x = a \cos t \\ y = a \sin t \\ z = bt \end{cases}, \quad t \in [0, 2\pi].$$

*Giải*

Ta có  $\begin{cases} x' = -a \sin t \\ y' = a \cos t \\ z' = b \end{cases}$

Suy ra

$$\begin{aligned}
\int_C xyz ds &= \int_0^{2\pi} (a \cos t \cdot a \sin t \cdot bt) \sqrt{(-a \sin t)^2 + (a \cos t)^2 + b^2} dt \\
&= a^2 b \sqrt{a^2 + b^2} \int_0^{2\pi} (t \cdot \sin t \cdot \cos t) dt \\
&= -\frac{a^2 b \sqrt{a^2 + b^2}}{2} \pi.
\end{aligned}$$

**Ví dụ 3.10.** Tính  $\int_C x^2 ds$ , trong đó  $C$  là đường tròn  $\begin{cases} x^2 + y^2 + z^2 = 1 \\ x + z = 0 \end{cases}$

*Giải*

Nhắc lại:

- Giao của hai đường là 1 điểm.
- Giao của hai mặt là một đường.

Ta thấy trong ví dụ trên, đề bài cho  $C$  dưới dạng giao của hai mặt, ta làm như sau

Ta có  $\begin{cases} x^2 + y^2 + z^2 = 1 \\ x + z = 0 \end{cases}$

Suy ra hình chiếu của  $C$  lên mặt Oxy là

$$\begin{aligned}
x^2 + y^2 + (-x)^2 &= 1 \\
x^2 + \frac{y^2}{2} &= \frac{1}{2}
\end{aligned}$$

Đặt  $\begin{cases} x = \frac{\cos t}{\sqrt{2}} \\ y = \sqrt{2} \frac{1}{\sqrt{2}} \sin t \end{cases}, t \in [0, 2\pi] (*)$

Từ  $x + z = 0 \Rightarrow z = -x = -\frac{\cos t}{\sqrt{2}}$

Vậy  $C : \begin{cases} x = \frac{\cos t}{\sqrt{2}} \\ y = \sqrt{2} \frac{1}{\sqrt{2}} \sin t \\ z = -\frac{\cos t}{\sqrt{2}} \end{cases}, t \in [0, 2\pi]$ . Suy ra  $\begin{cases} x' = -\frac{\sin t}{\sqrt{2}} \\ y' = \cos t \\ z' = \frac{\sin t}{\sqrt{2}} \end{cases}$ .

Vậy

$$\begin{aligned}
\int_C x^2 ds &= \int_0^{2\pi} \frac{1}{2} \cos^2 t \sqrt{\left(-\frac{\sin t}{\sqrt{2}}\right)^2 + (\cos t)^2 + \left(\frac{\sin t}{\sqrt{2}}\right)^2} dt \\
&= \int_0^{2\pi} \frac{1}{2} \cos^2 t dt \\
&= \frac{\pi}{2}.
\end{aligned}$$

### 3.3.3 Một số ứng dụng

**Khối lượng đường:**  $M = \int_C \rho(x, y, z) ds$ , trong đó  $\rho(x, y, z)$  là hàm mật độ.

**Tọa độ trọng tâm:**  $\bar{x} = \frac{M_{yz}}{M}; \quad \bar{y} = \frac{M_{xz}}{M}; \quad \bar{z} = \frac{M_{xy}}{M}.$

**Moment tĩnh so với mặt tọa độ:**

$$M_{yz} = \int_C x \rho ds; \quad M_{xz} = \int_C y \rho ds; \quad M_{xy} = \int_C z \rho ds.$$

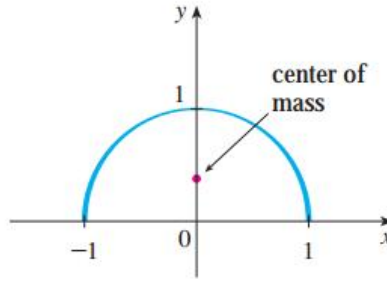
**Moment quán tính so với trục tọa độ và đường thẳng L**

$$I_x = \int_C (y^2 + z^2) \rho ds; \quad I_y = \int_C (x^2 + z^2) \rho ds;$$

$$I_z = \int_C (x^2 + y^2) \rho ds; \quad I_L = \int_C r^2 \rho ds.$$

trong đó  $r(x, y, z)$  = khoảng cách từ điểm  $(x, y, z)$  đến đường thẳng  $L$ .

**Ví dụ 3.11.** Một sợi dây kim loại có dạng nửa đường tròn  $x^2 + y^2 = 1, y \geq 0$ , và càng về gần chân càng dày hơn đỉnh của nó. Tìm khối tâm của sợi dây nếu mật độ tại điểm  $(x, y, z)$  là  $\rho(x, y, z) = k(1 - y)$ ,  $k = \text{const.}$



## 3.4 Tích phân đường loại II

### 3.4.1 Định nghĩa

**Ký hiệu**

$\int_C f(x, y) dx + g(x, y) dy$  với  $C$  là đường cong trong  $\mathbb{R}^2$ ,

$\int_C f(x, y, z) dx + g(x, y, z) dy + h(x, y, z) dz$  với  $C$  là đường cong trong  $\mathbb{R}^3$ .

**Định nghĩa**

Trong định nghĩa tích phân đường loại I, nếu ta thay  $\Delta_i s$  bởi  $\Delta_i x = x_i - x_{i-1}$  và  $\Delta_i y = y_i - y_{i-1}$  thì ta có **tích phân đường loại II** của  $f$  trên  $C$  tương ứng với  $x$  và  $y$  như sau

$$\begin{aligned}\int_C f(x, y) dx &= \lim_{n \rightarrow \infty} \sum_{i=1}^n f(x_i^*, y_i^*) \Delta x_i \\ \int_C g(x, y) dy &= \lim_{n \rightarrow \infty} \sum_{i=1}^n g(x_i^*, y_i^*) \Delta y_i \\ \int_C f(x, y) dx + g(x, y) dy &= \lim_{n \rightarrow \infty} \sum_{i=1}^n [f(x_i^*, y_i^*) \Delta x_i + g(x_i^*, y_i^*) \Delta y_i]\end{aligned}$$

Chú ý:

Trong tích phân đường loại I,  $\Delta_i s$  luôn dương.

Trong tích phân đường loại II,  $\Delta_i x$  và  $\Delta_i y$  có thể âm, dương phụ thuộc vào cách chọn điểm đầu  $\rightarrow$  cuối của đường đi.

**Tính chất 3.2.**

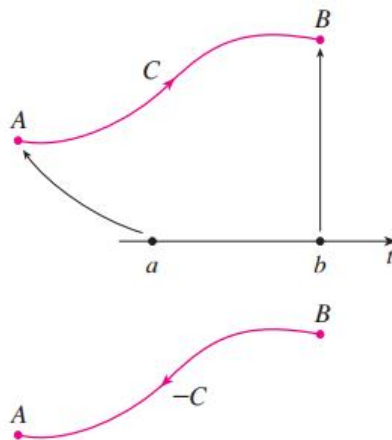
$$1. \int_C \alpha f(x, y) dx + \beta g(x, y) dy = \alpha \int_C f(x, y) dx + \beta \int_C g(x, y) dy, \alpha, \beta \text{ là hằng số.}$$

2. Nếu  $C = C_1 \cup C_2$ , thì

$$\int_C f(x, y) dx + g(x, y) dy = \int_{C_1} f(x, y) dx + g(x, y) dy + \int_{C_2} f(x, y) dx + g(x, y) dy$$

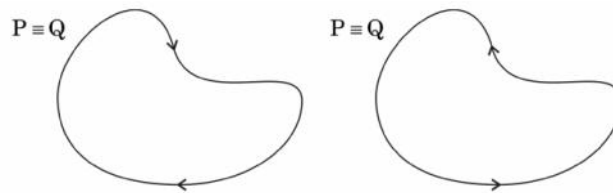
3. Tích phân đường loại II phụ thuộc chiều của đường lấy tích phân

$$\int_{C=AB} f(x, y) dx + g(x, y) dy = - \int_{C^-=BA} f(x, y) dx + g(x, y) dy.$$



Chú ý:

- Nếu  $C$  là đường cong kín, ta quy ước **chiều dương** của  $C$  là chiều sao cho miền  $\Omega$  giới hạn bởi  $C$  luôn nằm bên tay trái

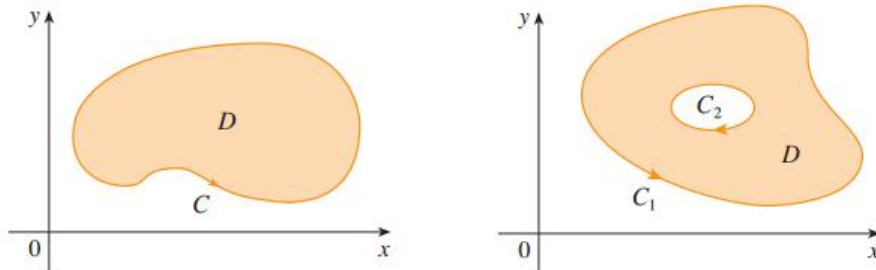


- Miền đơn liên là miền không có lỗ thủng



**Định lý 3.3. (Định lý Green.)** Cho  $C$  là đường cong đóng, định hướng, trơn từng khúc trên mặt phẳng và  $D$  là miền giới hạn bởi  $C$ . Nếu  $f, g$  có đạo hàm liên tục trên miền mở chứa  $D$  thì

$$\int_C f(x, y) dx + g(x, y) dy = \iint_D \left( \frac{\partial g}{\partial x} - \frac{\partial f}{\partial y} \right) dxdy.$$



Chú ý:

1. Định lý Green cho ta mối quan hệ giữa tích phân trên đường cong kín và tích phân hai lớp.

2. Nếu  $\Omega$  là miền đa liên, ta có

$$\oint_{C=C_1 \cup C_2} f dx + g dy = \oint_{C_1} f dx + g dy + \oint_{C_2} f dx + g dy = \iint_D \left( \frac{\partial g}{\partial x} - \frac{\partial f}{\partial y} \right) dxdy$$

3. Khi sử dụng định lý Green ta cần kiểm tra từng điều kiện của định lý để tránh đi đến kết quả sai...

### 3.4.2 Cách tính tích phân đường loại II trong $\mathbb{R}^2$

**A.  $C$  đã biết (đã cho hoặc tham số được)**

1. Nếu  $C : \begin{cases} x = x(t) \\ y = y(t) \end{cases}, \quad t \in [a, b]$ , thì



$$\int_C f(x, y) dx + g(x, y) dy = \int_a^b \left[ f(x(t), y(t)) x'(t) + g(x(t), y(t)) y'(t) \right] dt.$$

2. Nếu  $C : y(x)$ ,  $x \in [a, b]$ , thì

$$\int_C f(x, y) dx + g(x, y) dy = \int_a^b \left[ f(x, y(x)) + g(x, y(x)) y'(x) \right] dx$$

**Ví dụ 3.12.** Tính  $\int_C xy dx + x^2 dy$ , trong đó

1.  $C$  là đoạn thẳng từ  $(0, 0)$  tới  $(1, 1)$ .

2.  $C$  là parabol  $y = x^2$  từ  $(0, 0)$  tới  $(1, 1)$ .

*Giải*

1. Cách 1:  $C : \begin{cases} x = t \\ y = t \end{cases}, t \in [0, 1] \Rightarrow \begin{cases} x' = 1 \\ y' = 1 \end{cases}$ .

Suy ra

$$\int_C xy dx + x^2 dy = \int_0^1 (t \cdot t \cdot 1 + t^2 \cdot 1) dt = \int_0^1 2t^2 dt = \frac{2}{3}.$$

Cách 2:  $C : y = x, x \in [0, 1]$ , dành cho SV.

2. Cách 1:  $C : y = x^2, x \in [0, 1] \Rightarrow y' = 2x$ .

Suy ra

$$\int_C xy dx + x^2 dy = \int_0^1 (x \cdot x^2 + x^2 \cdot 2x) dx = \int_0^1 3x^3 dx = \frac{3}{4}.$$

Cách 2:  $C$  là phương trình tham số, dành cho SV.

**Ví dụ 3.13.** Tính  $\int_C (x^2 - y^2) dx + x dy$ , trong đó  $C$  : cung tròn  $x^2 + y^2 = 4$  nối từ  $(0, 2)$  tới

$(2, 0)$  nằm phía trên trục  $Ox$ .

*Giải*

Ta có  $C : \begin{cases} x = 2 \cos t \\ y = 2 \sin t \end{cases}, t \in \left[0, \frac{\pi}{2}\right] \Rightarrow \begin{cases} x' = -2 \sin t \\ y' = 2 \cos t \end{cases}$

Suy ra

$$\begin{aligned} \int_{C^-} (x^2 - y^2) dx + x dy &= \int_0^{\frac{\pi}{2}} ((4 \cos^2 t - 4 \sin^2 t) (-2 \sin t) + 2 \cos t \cdot 2 \cos t) dt \\ &= \int_0^{\frac{\pi}{2}} (8 \sin^3 t - 8 \sin t \cos^2 t + 4 \cos^2 t) dt = \frac{8}{3} + \pi. \end{aligned}$$

$$\text{Vậy } \int_C (x^2 - y^2) dx + x dy = -\frac{8}{3} - \pi.$$

**Ví dụ 3.14.** Tính

$$I = \int_C (xy + x + y) dx + (xy + x - y) dy$$

trong đó  $C$  là elip  $\frac{x^2}{a^2} + \frac{y^2}{b^2} = 1$  lấy theo chiều dương.

*Giải*

*Cách 1:* Ta thấy  $C$  là đường cong kín, và  $\begin{cases} f(x, y) = xy + x + y \\ g(x, y) = xy + x - y \end{cases} \Rightarrow \begin{cases} \frac{\partial f}{\partial y} = x + 1 \\ \frac{\partial g}{\partial x} = y + 1 \end{cases}$

là các hàm liên tục trên Elip.

Áp dụng công thức Green ta có

$$\begin{aligned} I &= \int_C (xy + x + y)dx + (xy + x - y)dy \\ &= \int_D [y + 1 - (x + 1)] dxdy \\ &= \int_D [y - x] dxdy \end{aligned}$$

trong đó  $D = \left\{ (x, y) \mid \frac{x^2}{a^2} + \frac{y^2}{b^2} \leq 1 \right\}$ .

Tiếp tục tính toán ta được  $I = \int_D [y - x] dxdy = 0 !!!$

*Cách 2: tính trực tiếp*

Đặt  $\begin{cases} x = a \cos t, \\ y = a \sin t, \end{cases} \quad t \in [0, 2\pi] \Rightarrow \begin{cases} x' = -a \sin t, \\ y' = a \cos t. \end{cases}$

Ta có

$$\begin{aligned} I &= \int_C (xy + x + y)dx + (xy + x - y)dy \\ &= \int_0^{2\pi} [(a \cos t \cdot b \sin t + a \cos t + b \sin t)(-a \sin t) + (a \cos t \cdot b \sin t + a \cos t - b \sin t)(b \cos t)] dt \\ &= \int_0^{2\pi} [-a^2 b \sin^2 t \cos t - (a^2 + b^2) \sin t \cos t + ab(\cos^2 t - \sin^2 t) + ab^2 \cos^2 t \sin t] dt \\ &= \dots = 0. \end{aligned}$$

**Ví dụ 3.15.** Tính  $I = \oint_C \frac{(x+y)}{x^2+y^2} dx - \frac{(x-y)}{x^2+y^2} dy$ , trong đó  $C$  là đường tròn  $x^2 + y^2 = a^2$  lấy theo chiều dương.

*Giải*

Ta thấy  $f(x, y) = \frac{(x+y)}{x^2+y^2}$ ;  $g(x, y) = -\frac{(x-y)}{x^2+y^2}$  và các đạo hàm riêng cấp 1 của chúng không liên tục tại điểm  $O(0, 0)$  nên ta không dùng công thức Green được.

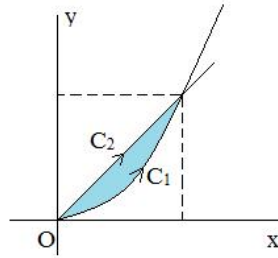
Đặt  $\begin{cases} x = a \cos t, \\ y = a \sin t, \end{cases} \quad t \in [0, 2\pi] \Rightarrow \begin{cases} x' = -a \sin t, \\ y' = a \cos t. \end{cases}$

Ta có

$$\begin{aligned}
 I &= \int_C \frac{x+y}{x^2+y^2} dx - \frac{x-y}{x^2+y^2} dy \\
 &= \int_0^{2\pi} \frac{(a \cos t + a \sin t)(-a \sin t) - (a \cos t - a \sin t) a \cos t}{a^2 \cos^2 t + a^2 \sin^2 t} dt \\
 &= \int_0^{2\pi} \frac{-(a^2 \sin^2 t + a^2 \cos^2 t)}{a^2 \cos^2 t + a^2 \sin^2 t} dt \\
 &= - \int_0^{2\pi} dt \\
 &= -2\pi.
 \end{aligned}$$

**Ví dụ 3.16.** Tính  $I = \int_C xdy - ydx$ , biết  $C$  là biên của miền giới hạn bởi các đường  $y = x, y = x^2$  theo chiều dương.

*Giải*



Gọi  $C_1 : y = x^2, x \in [0, 1]$ , và  $C_2 : y = x, x \in [0, 1]$ . Ta có  $C = C_1 \cup C_2^-$ .

Từ  $y = x^2 \Rightarrow y' = 2x$ , suy ra

$$\int_{C_1} xdy - ydx = \int_0^1 (x \cdot 2x - x^2) dx = \int_0^1 x^2 dx = \frac{1}{3}. (*)$$

Từ  $y = x \Rightarrow y' = 1$ , suy ra

$$\begin{aligned}
 \int_{C_2^-} xdy - ydx &= - \int_{C_2} xdy - ydx = - \int_0^1 (x \cdot 1 - x^2) dx = - \int_0^1 (x - x^2) dx = \\
 &= -\frac{1}{6}. (**)
 \end{aligned}$$

Từ (\*) và (\*\*), suy ra

$$\int_C xdy - ydx = \int_{C_1} xdy - ydx + \int_{C_2^-} xdy - ydx = \frac{1}{3} - \frac{1}{6} = \frac{1}{6}.$$

**B.  $C$  chưa biết**

**Định lý 3.4.** Giả sử các hàm số  $f, g$  có đạo hàm riêng cấp 1 liên tục trong miền  $D$ . Dạng

$f dx + g dy$  được gọi là dạng vi phân toàn phần nếu

$$\frac{\partial f}{\partial y} = \frac{\partial g}{\partial x}, \forall (x, y) \in D.$$

**Định nghĩa 3.3.** Hàm  $F(x, y)$  được gọi là hàm thế của  $(f, g)$  nếu

$$\nabla F = (f, g),$$

với  $\nabla F = \left( \frac{\partial F}{\partial x}, \frac{\partial F}{\partial y} \right).$

**Định lý 3.5.** Cho các hàm  $f, g$  có đạo hàm riêng liên tục trên một miền mở, đơn liên  $D$ , hai điểm  $A, B \in D$ , và  $C$  là đường cong nối  $A, B$ . Khi đó bốn mệnh đề sau tương đương

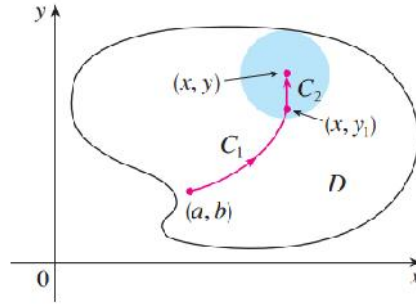
i.  $\int_C f(x, y) dx + g(x, y) dy$  không phụ thuộc vào cách chọn đường cong  $C$

ii. Tồn tại hàm thế  $F$  của  $(f, g)$  khả vi liên tục trên  $D$ , hơn nữa

$$\int_{C=AB} f(x, y) dx + g(x, y) dy = F(B) - F(A)$$

iii.  $\frac{\partial f}{\partial y} = \frac{\partial g}{\partial x}, \forall (x, y) \in D.$

iv.  $\oint_C f(x, y) dx + g(x, y) dy = 0.$



**Ví dụ 3.17.** Cho  $(f, g) = \left( 4x^3y^3 + \frac{1}{x}, 3x^4y^2 - \frac{1}{y} \right)$  xác định trên miền  $x, y > 0$

1. Kiểm tra điều kiện  $\frac{\partial f}{\partial y} = \frac{\partial g}{\partial x},$

2. Tính hàm thế  $F$  của  $(f, g),$

3. Tính  $\int_C f(x, y) dx + g(x, y) dy$  với  $C$  là đường cong bất kì nối  $(1, 1)$  với  $(2, 4)$  trong

miền  $x, y > 0.$

*Giải*

1. Ta có

$$\left. \begin{aligned} f &= 4x^3y^3 + \frac{1}{x} \Rightarrow \frac{\partial f}{\partial y} = 12x^3y^2 \\ g &= 3x^4y^2 - \frac{1}{y} \Rightarrow \frac{\partial g}{\partial x} = 12x^3y^2 \end{aligned} \right\} \Rightarrow \frac{\partial f}{\partial y} = \frac{\partial g}{\partial x}.$$

Vậy tồn tại hàm thế  $F(x, y)$  của  $(f, g)$  khả vi liên tục.

2. Tìm hàm thế  $F(x, y)$ , ta có

$$\begin{cases} \frac{\partial F}{\partial x} = f, \\ \frac{\partial F}{\partial y} = g. \end{cases} \Leftrightarrow \begin{cases} \frac{\partial F}{\partial x} = 4x^3y^3 + \frac{1}{x}, & (*) \\ \frac{\partial F}{\partial y} = 3x^4y^2 - \frac{1}{y}. & (**) \end{cases}$$

Từ  $(*)$ , suy ra

$$F(x, y) = \int (4x^3y^3 + \frac{1}{x})dx = x^4y^3 + \ln(x) + C(y).$$

Lấy đạo hàm  $F(x, y)$  theo  $y$ , ta được

$$\frac{\partial F}{\partial y} = 3x^4y^2 + C'(y).$$

Kết hợp với  $(**)$ , ta được

$$\begin{aligned} 3x^4y^2 + C'(y) &= 3x^4y^2 - \frac{1}{y} \\ \Leftrightarrow C'(y) &= -\frac{1}{y} \\ \Leftrightarrow C(y) &= -\ln(y) + C_1. \end{aligned}$$

Suy ra

$$F(x, y) = x^4y^3 + \ln(x) - \ln(y) + C_1.$$

3. Do  $\int_C f(x, y)dx + g(x, y)dy$  không phụ thuộc vào đường đi, ta có

$$\int_C f(x, y)dx + g(x, y)dy = F(2, 4) - F(1, 1) = 1023 - \ln(2).$$

**Ví dụ 3.18.** Tính tích phân  $\int_C (e^x + y)dx + (x + 2y)dy$ , trong đó  $C$  là đường cong bất kỳ khả vi từng khúc nối  $(0, 1)$  và  $(2, 4)$ .

**Giải**

Ta có

$$\left. \begin{aligned} f = e^x + y &\Rightarrow \frac{\partial f}{\partial y} = 1 \\ g = x + 2y &\Rightarrow \frac{\partial g}{\partial x} = 1 \end{aligned} \right\} \Rightarrow \frac{\partial f}{\partial y} = \frac{\partial g}{\partial x}.$$

Vậy tồn tại hàm thế  $F(x, y)$  của  $(f, g)$  khả vi liên tục, tìm hàm thế  $F(x, y)$ , ta có

$$\begin{cases} \frac{\partial F}{\partial x} = f, \\ \frac{\partial F}{\partial y} = g. \end{cases} \Leftrightarrow \begin{cases} \frac{\partial F}{\partial x} = e^x + y, & (*) \\ \frac{\partial F}{\partial y} = x + 2y. & (**) \end{cases}$$

Từ  $(*)$ , suy ra

$$F(x, y) = \int (e^x + y)dx = e^x + xy + C(y).$$

Lấy đạo hàm  $F(x, y)$  theo  $y$ , ta được

$$\frac{\partial F}{\partial y} = x + C'(y).$$

Kết hợp với (\*\*), ta được

$$\begin{aligned} x + C'(y) &= x + 2y \\ \Leftrightarrow C'(y) &= 2y \\ \Leftrightarrow C(y) &= y^2 + C_1. \end{aligned}$$

Suy ra

$$F(x, y) = e^x + xy + y^2 + C_1$$

Vậy

$$\int_C f(x, y) dx + g(x, y) dy = F(2, 4) - F(0, 1) = e^2 + 22.$$

**Ví dụ 3.19.** Tính  $I = \int_C \frac{xdy - ydx}{x^2 + y^2}$ , với

- $C$  là đường tròn tâm  $(O, r)$  có chiều ngược chiều kim đồng hồ.
- $C$  là chu tuyến kín, tròn bao quanh gốc  $O$  có chiều dương.
- $C$  là chu tuyến kín, tròn không bao quanh gốc  $O$  có chiều dương.

Nhận xét: Ta thấy

•  $f(x, y) = \frac{-y}{x^2 + y^2}; g(x, y) = \frac{x}{x^2 + y^2}$  và các đạo hàm riêng cấp 1 của chúng không liên tục tại điểm  $O(0, 0)$ ,

- $C$  trong câu a là đường cong kín, đã biết, bao quanh miền chứa  $O \Rightarrow$  tham số  $C$ .
- $C$  trong câu b là đường cong kín, chưa biết, bao quanh miền chứa  $O \Rightarrow$  khoét lỗ.

**Giải**

a. Đặt  $\begin{cases} x = r \cos t, \\ y = r \sin t, \end{cases} \quad t \in [0, 2\pi] \Rightarrow \begin{cases} x' = -r \sin t, \\ y' = r \cos t. \end{cases}$

Ta có

$$\begin{aligned} I &= \int_C \frac{xdy - ydx}{x^2 + y^2} \\ &= \int_0^{2\pi} \frac{r \cos t \cdot r \cos t + r \sin t \cdot r \sin t}{r^2 \cos^2 t + r^2 \sin^2 t} dt \\ &= \int_0^{2\pi} dt \\ &= 2\pi. \end{aligned}$$

b. Lấy  $C_r$  là đường tròn  $(O, r)$  với  $r$  đủ nhỏ sao cho  $C_r$  nằm trong miền trong của  $C$ .  $C_r$  có chiều cùng chiều kim đồng hồ.

Gọi  $D$  là miền giới hạn bởi  $C$  và  $C_r$ . Ta thấy  $f, g, C, C_r$  thỏa định lý Green, ta có

$$\begin{aligned} \int_{C \cup C_r} \frac{xdy - ydx}{x^2 + y^2} &= \int_D \left( \frac{\partial f}{\partial y} - \frac{\partial g}{\partial x} \right) dxdy = 0 \\ \Rightarrow \int_C \frac{xdy - ydx}{x^2 + y^2} + \int_{C_r} \frac{xdy - ydx}{x^2 + y^2} &= 0 \\ \Leftrightarrow \int_C \frac{xdy - ydx}{x^2 + y^2} &= - \int_{C_r} \frac{xdy - ydx}{x^2 + y^2} = \int_{C_r^-} \frac{xdy - ydx}{x^2 + y^2} = 2, \end{aligned}$$

trong đó  $\int_{C_r^-} \frac{xdy - ydx}{x^2 + y^2}$  tính ở câu a.

c. Ta thấy miền trong của  $C$  không chứa  $O$ , nên áp dụng Đl Green ta được

$$\int_C \frac{xdy - ydx}{x^2 + y^2} = \int_D \left( \frac{\partial f}{\partial y} - \frac{\partial g}{\partial x} \right) dxdy = 0.$$

### 3.4.3 Cách tính tích phân đường loại II trong $\mathbb{R}^3$

Cho  $C : \begin{cases} x = x(t) \\ y = y(t) \\ z = z(t) \end{cases}, \quad t \in [a, b]$ . Ta có

$$\begin{aligned} \int_C f(x, y, z) dx + g(x, y, z) dy + h(x, y, z) dz &= \\ \int_a^b \left[ f(x(t), y(t), z(t)) x'(t) + g(x(t), y(t), z(t)) y'(t) + h(x(t), y(t), z(t)) z'(t) \right] dt. \end{aligned}$$

**Ví dụ 3.20.** Cho  $A(3, -6, 0)$  và  $B(-2, 4, 5)$ . Tính  $\int_C xy^2 dx + yz^2 dy - zx^2 dz$  với

a.  $C$  là đoạn thẳng  $OB$ .

b.  $C$  là cung tròn  $AB$  trong không gian cho bởi phương trình

$$\begin{cases} x^2 + y^2 + z^2 = 45 \\ 2x + y = 0 \end{cases}$$

Cung tròn  $AB$  là một phần đường tròn giao tuyến của mặt cầu tâm  $O$  bán kính  $\sqrt{45}$  và mặt phẳng  $y = -2x$ .

*Giải*

a. Ta có

$$C : \begin{cases} x = -2t \\ y = 4t \\ z = 5t \end{cases} \Rightarrow \begin{cases} x = -2dt \\ y = 4dt \\ z = 5dt \end{cases}$$

Suy ra

$$\begin{aligned}
\int_C xy^2 dx + yz^2 dy - zx^2 dz &= \int_C xy^2 dx + \int_C yz^2 dy - \int_C zx^2 dz \\
&= \int_0^1 (-2t) (4t)^2 (-2) dt + \int_0^1 (4t) (5t)^2 4 dt - \int_0^1 (5t) (-2t)^2 5 dt \\
&= 91.
\end{aligned}$$

b. Chú ý: hình chiếu của  $C$  xuống mặt  $Oxy$  là đoạn thẳng nối  $(3, -6)$  và  $(-2, 4)$ .

Đặt  $x = t$ ,  $t : 3 \rightarrow -2$ , ta có  $\begin{cases} y = -2x = -2t \\ z = \sqrt{45 - x^2 - y^2} = \sqrt{45 - 5t^2} \end{cases}$

Suy ra  $\begin{cases} dx = dt \\ dy = -2dt \\ dz = \frac{-5t}{2\sqrt{45 - 5t^2}} dt \end{cases}$

Vậy

$$\begin{aligned}
\int_C xy^2 dx + yz^2 dy - zx^2 dz &= \int_C xy^2 dx + \int_C yz^2 dy - \int_C zx^2 dz \\
&= \int_3^{-2} 4t^3 dt + \int_3^{-2} 4t (45 - t^2) dt - \int_3^{-2} 5t^3 dt \\
&= -271, 25.
\end{aligned}$$

**Ví dụ 3.21.** Tính  $\int_C ydx + z^2 dy + x^2 dz$ , trong đó  $C$  là đường tròn

$$\begin{cases} x^2 + y^2 + z^2 = 4 \\ z = \sqrt{3} \end{cases}$$

có hướng ngược chiều kim đồng hồ nếu nhìn từ điểm  $(0, 0, 2)$ .

### 3.4.4 Ứng dụng

**Định lý 3.6.** Cho  $F(x, y, z) = (f(x, y, z), g(x, y, z), h(x, y, z))$  là một trường vecto liên tục và xác định trên đường cong

$$C : \begin{cases} x = x(t) \\ y = y(t) \\ z = z(t) \end{cases}, \quad t \in [a, b].$$

Khi đó, tích phân đường của  $F(x, y, z)$  dọc theo đường cong  $C$  là

$$\int_C f(x, y, z) dx + g(x, y, z) dy + h(x, y, z) dz$$

*Định lý tương tự trong trường hợp 2 chiều.*

**Ví dụ 3.22.** Tìm công sinh ra bởi trường lực  $F(x, y) = x^2 i - xyj$  khi di chuyển một hạt dọc theo một phần tư đường tròn  $r(t) = \cos t \cdot i + \sin t \cdot j$ ,  $0 \leq t \leq \frac{\pi}{2}$ .

*Giải*

Ta có



$$F(x, y) = (x^2, -xy)$$

$$C : \begin{cases} x = \cos t \\ y = \sin t \end{cases} ; 0 \leq t \leq \frac{\pi}{2} \Rightarrow \begin{cases} x' = -\sin t \\ y' = \cos t \end{cases}$$

Công của lực  $F$

$$\begin{aligned} \int_C x^2 dx - xy dy &= \int_0^{\frac{\pi}{2}} [\cos^2 t (-\sin t) - \cos t \cdot \sin t \cdot \cos t] dt \\ &= \int_0^{\frac{\pi}{2}} [-2\cos^2 t \cdot \sin t] dt \\ &= -\frac{2}{3} \end{aligned}$$

**Ví dụ 3.23.** Trong không gian cho hệ trục tọa độ  $Oxyz$  và điện tích  $Q > 0$  đặt tại  $O$ . Một điện tích điểm  $q > 0$  di chuyển dọc theo đường cong  $\gamma$  xác định bởi phương trình  $\gamma(t) = (1, t, t^2)$ ,  $t \in \mathbb{R}$  từ điểm  $M(1, 1, 1)$  tới điểm  $N(1, 2, 4)$

Tính công của lực điện trường.

*Giải*

Ta có

$$\begin{aligned} F(x, y, z) &= \frac{\varepsilon \cdot q \cdot Q \cdot x}{(x^2 + y^2 + z^2)^{3/2}} \cdot i + \frac{\varepsilon \cdot q \cdot Q \cdot y}{(x^2 + y^2 + z^2)^{3/2}} \cdot j + \frac{\varepsilon \cdot q \cdot Q \cdot z}{(x^2 + y^2 + z^2)^{3/2}} \cdot k \\ \gamma : \begin{cases} x = 1 \\ y = t \\ z = t^2 \end{cases} ; 1 \leq t \leq 2 &\Rightarrow \begin{cases} x' = 0 \\ y' = 1 \\ z' = 2t \end{cases} \end{aligned}$$

Công của lực điện trường  $F$  khi  $q$  di chuyển từ điểm  $M$  đến  $N$  là

$$\begin{aligned} &\int_C \frac{\varepsilon \cdot q \cdot Q \cdot x}{(x^2 + y^2 + z^2)^{3/2}} dx + \frac{\varepsilon \cdot q \cdot Q \cdot y}{(x^2 + y^2 + z^2)^{3/2}} \cdot dy + \frac{\varepsilon \cdot q \cdot Q \cdot z}{(x^2 + y^2 + z^2)^{3/2}} \cdot dz \\ &= \varepsilon \cdot q \cdot Q \int_1^2 \left[ \frac{1}{(1 + t^2 + t^4)^{3/2}} \cdot 0 + \frac{t}{(1 + t^2 + t^4)^{3/2}} \cdot 1 + \frac{t^2}{(1 + t^2 + t^4)^{3/2}} \cdot 2t \right] dt \\ &= \varepsilon \cdot q \cdot Q \int_1^2 \frac{t + t^3}{(1 + t^2 + t^4)^{3/2}} dt \\ &= \varepsilon \cdot q \cdot Q \left( \frac{1}{\sqrt{3}} - \frac{1}{\sqrt{21}} \right). \end{aligned}$$

## Tích phân đường loại I

**Bài tập 3.1.** Tính các tích phân đường sau

- a.  $\int_C y^3 ds$ ,  $C : x = t^3, y = t, 0 \leq t \leq 2$
- b.  $\int_C xy ds$ ,  $C : x = t^2, y = 2t, 0 \leq t \leq 1$
- c.  $\int_C (x - y) ds$ ,  $C$  là đoạn thẳng nối hai điểm  $(0, 0)$  và  $(4, 3)$
- d.  $\int_C x \sin y ds$ ,  $C$  là đoạn thẳng nối hai điểm  $(0, 3)$  và  $(4, 6)$
- e.  $\int_C xy ds$ ,  $C$  là biên của hình chữ nhật ABCD  $A(0, 0), B(4, 0), C(4, 2), D(0, 2)$
- f.  $\int_C (x^2 + y^2) ds$ ,  $C$  là biên của hình tam giác OAB với  $O(0, 0), B(1, 1), C(-1, 1)$
- g.  $\int_C xy^4 ds$ ,  $C$  là nửa bên phải của đường tròn  $x^2 + y^2 = 16$
- h.  $\int_C xy ds$ ,  $C$  là cung đường elip  $\frac{x^2}{a^2} + \frac{y^2}{b^2} = 1$  nằm trong góc phần tư thứ nhất
- i.  $\int_C \sqrt{x^2 + y^2} ds$ ,  $C$  là nửa vòng tròn  $x^2 + y^2 = 2x, x \geq 1$
- j.  $\int_C x^3 ds$ ,  $C$  là cung  $y = \frac{x^2}{2}, 0 \leq x \leq \sqrt{3}$
- k.  $\int_C xyz ds$ ,  $C : x = 2 \sin t, y = t, z = -2 \cos t, 0 \leq t \leq \pi$
- l.  $\int_C (2x + 9z) ds$ ,  $C : x = t, y = t^2, z = t^3, 0 \leq t \leq 1$
- m.  $\int_C xyz^2 ds$ ,  $C$  là đường thẳng nối hai điểm  $(-1, 5, 0)$  và  $(1, 6, 4)$
- n.  $\int_C x e^{yz} ds$ ,  $C$  là đường thẳng nối hai điểm  $(0, 0, 0)$  và  $(1, 2, 3)$
- o.  $\int_C (x^2 + y^2 + z^2) ds$ ,  $C$  là đường xoắn ốc  $x = a \cos t, y = a \sin t, z = bt, 0 \leq t \leq 2\pi$ ,  
 $a, b, c$  là các hằng số dương
- p.  $\int_C x^2 ds$ ,  $C$  là giao tuyến của hai mặt  $x^2 + y^2 = z^2, y^2 = ax$  từ điểm  $(0, 0, 0)$  tới điểm  $(a, a, a\sqrt{2}), a \geq 0$
- q.  $\int_C xyz ds$ ,  $C$  là giao tuyến của hai mặt  $x^2 + y^2 + z^2 = R^2, x^2 + y^2 = \frac{R^2}{4}$  lấy phần

$$x \leq 0, y \leq 0, z \leq 0$$

**Bài tập 3.2. Tính**

$$1. \int_C xyz ds, \text{ với } C : x = 2\sin t, y = t, z = -2\cos t, 0 \leq t \leq \pi$$

$$2. \int_C xyz^2 ds, \text{ với } C \text{ là đoạn thẳng từ } (-1, 5, 0) \text{ đến } (1, 6, 4).$$

$$3. \int_C xe^{yx} ds, \text{ với } C \text{ là đoạn thẳng từ } (0, 0, 0) \text{ đến } (1, 2, 3).$$

$$4. \int_C x^2 + y^2 + z^2 ds, \text{ với } C : x = t, y = \cos 2t, z = \sin t, 0 \leq t \leq 2\pi$$

5. Tích phân của hàm  $f(x, y, z) = x + \sqrt{y} - z^2$  trên đường cong  $C_i$  từ điểm  $(0, 0, 0)$  tới  $(1, 1, 1)$  biết

$$C_1 : r(t) = t\mathbf{k}, \quad 0 \leq t \leq 1;$$

$$C_2 : r(t) = t\mathbf{j} + \mathbf{k}, \quad 0 \leq t \leq 1$$

$$C_3 : r(t) = t\mathbf{i} + \mathbf{j} + \mathbf{k}, \quad 0 \leq t \leq 1$$

**Bài tập 3.3. a.** Tính độ dài đường xoắn ốc hình nón  $x = ae^t \cos t, y = ae^t \sin t, z = ae^t$  từ điểm  $O(0, 0, 0)$  tới điểm  $A(a, 0, a)$

b. Tính khối lượng của dây có phương trình  $y = \frac{a}{2} (e^{\frac{x}{a}} + e^{-\frac{x}{a}}), 0 \leq x \leq a$  biết  $\rho(x, y) = \frac{1}{y}$

**Tích phân đường loại II****Bài tập 3.4. Tính tích phân**

$$a. \int_C (x^2 y^3 - \sqrt{x}) dy, C \text{ là đường } y = \sqrt{x} \text{ từ điểm } (1, 1) \text{ tới } (4, 2)$$

$$b. \int_C x e^y dx, C \text{ là đường } x = e^y \text{ từ điểm } (1, 0) \text{ tới } (e, 1)$$

$$c. \int_C xy dx + (x - y) dy, C \text{ gồm đường thẳng từ } (0, 0) \text{ tới } (2, 0) \text{ và từ } (2, 0) \text{ tới } (3, 2)$$

$$d. \int_C \sin x dx + \cos y dy, C \text{ gồm nửa trên của đường tròn } x^2 + y^2 = 1 \text{ từ } (1, 0) \text{ tới } (-1, 0)$$

và đường thẳng từ  $(-1, 0)$  tới  $(-2, 3)$

$$e. \int_C -y dx + x dy, C : y^2 = 4x \text{ từ } (1, 2) \text{ tới } (0, 0)$$

$$f. \int_C (x^2 - y^2) dx + x dy, C \text{ là vòng tròn } x^2 + y^2 = 4 \text{ từ } (0, 2) \text{ tới } (2, 0)$$

**Bài tập 3.5. Tính**

$$a. \int_C z dx + x dy + y dz, C : x = t^2, y = t^3, z = t^2, 0 \leq t \leq 1$$

b.  $\int_C (x + yz) dx + 2x dy + xyz dz$ ,  $C$  gồm đường thẳng từ  $(1, 0, 1)$  tới  $(2, 3, 1)$  và từ  $(2, 3, 1)$  tới  $(2, 5, 2)$

c.  $\int_C x^2 dx + y^2 dy + z^2 dz$ ,  $C$  gồm đường thẳng từ  $(0, 0, 0)$  tới  $(1, 2, -1)$  và từ  $(1, 2, -1)$  tới  $(3, 2, 0)$

### Bài tập 3.6. Tính các tích phân sau

a.  $\int_C (x^3 - y^2) dx + 2xy^2 dy$ ,  $C$  là đường ngược chiều kim đồng hồ xung quanh hình vuông tạo bởi  $x = 0, y = 0, x = 2, y = 2$

b.  $\int_C x^2 y^2 dx + x^3 y dy$ ,  $C$  là đường ngược chiều kim đồng hồ xung quanh hình vuông tạo bởi  $x = 0, y = 0, x = 1, y = 1$

c.  $\int_C -x dy + y dx$ ,  $C$  là tam giác với ba đỉnh  $(0, 0)$ ,  $(0, a)$ ,  $(b, 0)$  theo chiều ngược chiều kim đồng hồ

d.  $\int_C xy^2 dx$ ,  $C : x^2 + y^2 = a^2$  thuận chiều kim đồng hồ

e.  $\int_C x dy$ ,  $C: \frac{x^2}{a^2} + \frac{y^2}{b^2} = 1$  thuận chiều kim đồng hồ

f.  $\int_C x^2 y^2 dx + xy^2 dy$ ,  $C$  là đường ngược chiều kim đồng hồ xung quanh đường cong

kín tạo bởi  $x = 1$  và parabol  $y^2 = x$

g.  $\int_C y dx$ ,  $C$  là nửa trên của đường tròn  $x^2 + y^2 = 1$  từ  $(1, 0)$  tới  $(-1, 0)$

h.  $\int_C (e^x \sin y - y) dx + (e^x \cos y - 1) dy$ ,  $C$  là nửa dưới đường tròn  $x^2 + y^2 = x$  từ  $(1, 0)$  tới  $(0, 0)$

### Bài tập 3.7. Tính

a.  $\oint_C ydx + xdy$ ,  $C$  là biên của miền  $\Omega = \{(x, y) | 0 \leq x \leq 1, 0 \leq y \leq 2\}$

b.  $\oint_C e^x \cos y dx + e^x \sin y dy$ ,  $C$  là biên của miền tam giác  $\Omega$  có đỉnh  $(0, 0), (0, 1), (1, 1)$

c.  $\oint_C y dx$ ,  $C$  là biên của miền  $\Omega$  là hình tròn nằm trong góc phần tư thứ nhất có bán kính

bảng 1

**Bài tập 3.8.** Cho  $(f, g)$ , kiểm tra điều kiện để  $fdx + gdy$  là dạng vi phân đúng và tìm hàm thế  $F$  trong trường hợp vi phân đúng

a.  $(2xy, x^2 + 1)$       b.  $(4x^3 - ye^{xy}, \tan y - xe^{xy})$

c.  $(4x^2 - 4y^2, -8xy - \ln y)$

d.  $(2x \cos y, x^2 \sin y)$

e.  $(x - y \cos x, -\sin x)$

f.  $(e^{x^2 y}, e^{x^2 y})$

g.  $(\frac{1}{x^2} + y^2, 2xy)$

h.  $(x^2 + y^2 + 1, -xy - y)$

i.  $(-\frac{1}{x^3} + 4x^3 y, \sin y + \sqrt{y} + x^4)$

**Bài tập 3.9.** Trong các bài tập sau, chứng minh tích phân không phụ thuộc vào đường cong và tính tích phân

a.  $\int_C (e^x + y) dx + (x + 2y) dy$ ,  $C$  là đường cong bất kỳ khả vi từng khúc nối  $(0, 1)$  đến  $(2, 4)$

b.  $\int_C (2xy^2 + 1) dx + 2x^2 y dy$ ,  $C$  là đường cong bất kỳ khả vi từng khúc nối  $(-1, 2)$  đến  $(2, 3)$

c.  $\int_C (y + 2xe^y) dx + (x + x^2 e^y) dy$ ,  $C$  là đường cong bất kỳ khả vi nối  $(1, 0)$  đến  $(2, \ln 2)$

d.  $\int_C 2xy dx + (x^2 + 1) dy$ ,  $C$  là đường cong bất kỳ khả vi nối  $(0, 1)$  đến  $(2, 3)$

e.  $\int_C (4x^2 - 4y^2) dx + (\ln y - 8xy) dy$ ,  $C$  là đường cong bất kỳ khả vi nối  $(-1, 1)$  đến  $(4, e)$  trong miền  $y > 0$

f.  $\int_C (x \cos(x + y) + \sin(x + y)) dx + x \cos(x + y) dy$ ,  $C$  là đường cong bất kỳ khả vi nối  $(0, 0)$  đến  $(\frac{\pi}{6}, \frac{\pi}{3})$

## Chương 4

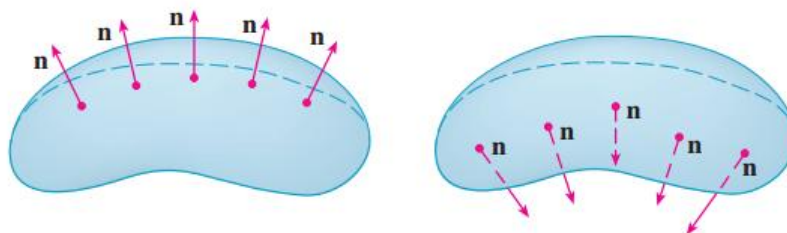
# Tích phân mặt

### 4.1 Mặt

1. Phương trình tham số mặt  $S$  có dạng 
$$\begin{cases} x = x(s, t) \\ y = y(s, t) \\ z = z(s, t) \end{cases} \quad (s, t) \in D \subset \mathbb{R}^2.$$
2. Phương trình  $S$  dạng:  $z = z(x, y), (x, y) \in D_{xy}.$

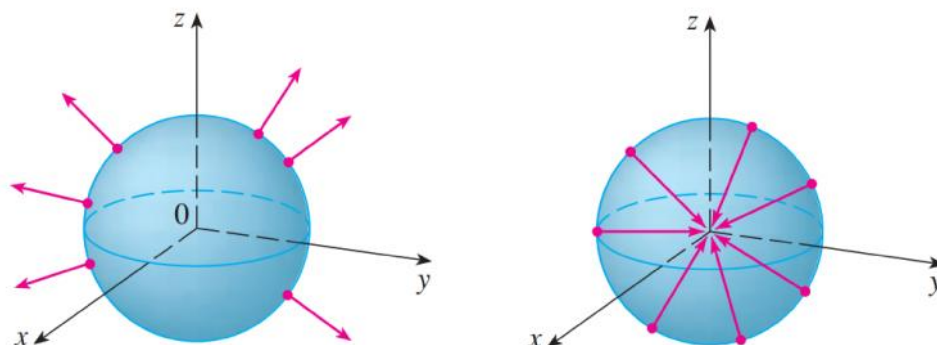
#### Mặt hai phía định hướng

▷ Mặt không kín



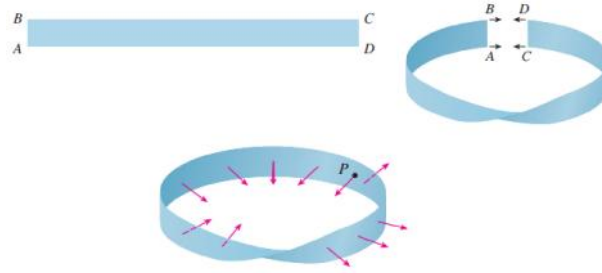
Hình 4.1: a. Mặt không kín, phía trên b. Mặt không kín, phía dưới

▷ Mặt kín



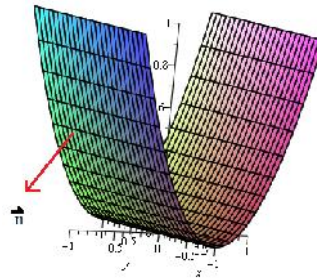
Hình 4.2: a. Mặt kín, phía ngoài b. Mặt kín, phía trong

## ▷ Dải Mobius



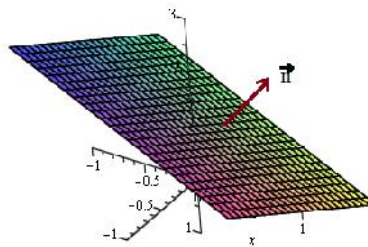
Hình 4.3: Dải Mobius

**Ví dụ 4.1.** Mặt parabol  $z = x^2$



Hình 4.4: Mặt không kín, hướng xuống

Mặt phẳng  $x + y + z = 1$



Hình 4.5: Mặt không kín, hướng lên

## 4.2 Tích phân mặt loại I

### 4.2.1 Ký hiệu

$$\iint_S f(x, y, z) d\sigma, \text{ với } S \text{ là mặt trong } \mathbb{R}^3.$$

### 4.2.2 Cách tính

- Nếu  $S$  có dạng  $\begin{cases} x = x(s, t), \\ y = y(s, t), \\ z = z(s, t), \end{cases} \quad (s, t) \in D \subset \mathbb{R}^2.$

Tính

$$d\sigma = \sqrt{EG - F^2} d\mathbf{s}dt,$$

trong đó

$$\begin{aligned} E &= (x_s)^2 + (y_s)^2 + (z_s)^2, \\ G &= (x_t)^2 + (y_t)^2 + (z_t)^2, \\ F &= x_s x_t + y_s y_t + z_s z_t. \end{aligned}$$

Suy ra

$$\iint_S f(x, y, z) d\sigma = \iint_D f(x(s, t), y(s, t), z(s, t)) \sqrt{EG - F^2} d\mathbf{s}dt.$$

- Nếu  $S$  có dạng  $z = z(x, y), (x, y) \in D_{xy}$ . Tính

$$d\sigma = \sqrt{1 + (z_x)^2 + (z_y)^2} d\mathbf{x}d\mathbf{y}$$

Suy ra

$$\iint_S f(x, y, z) d\sigma = \iint_{D_{xy}} f(x, y, z(x, y)) \sqrt{1 + (z_x)^2 + (z_y)^2} d\mathbf{x}d\mathbf{y}.$$

- Nếu  $S$  có dạng  $y = y(x, z), (x, z) \in D_{xz}$ . Tính

$$d\sigma = \sqrt{1 + (y_x)^2 + (y_z)^2} d\mathbf{x}d\mathbf{z}.$$

Suy ra

$$\iint_S f(x, y, z) d\sigma = \iint_{D_{xz}} f(x, y(x, z), z) \sqrt{1 + (y_x)^2 + (y_z)^2} d\mathbf{x}d\mathbf{z}.$$

- Nếu  $S$  có dạng  $x = x(y, z), (y, z) \in D_{yz}$ . Tính

$$d\sigma = \sqrt{1 + (x_y)^2 + (x_z)^2} d\mathbf{y}d\mathbf{z}.$$

Suy ra

$$\iint_S f(x, y, z) d\sigma = \iint_{D_{yz}} f(x(y, z), y, z) \sqrt{1 + (x_y)^2 + (x_z)^2} d\mathbf{y}d\mathbf{z}.$$

**Ví dụ 4.2.** Tính  $\iint_S (x + z) d\sigma$  trong đó  $S$  là phần mặt phẳng  $x + y + z = 1$  trong góc phần tám thứ nhất.

*Giải*

Tham số  $S$ :  $z = 1 - x - y, \quad (x, y) \in D_{xy} = \{(x, y) | 0 \leq x \leq 1, 0 \leq y \leq 1 - x\}.$

Ta có

$$z_x = -1, \quad z_y = -1,$$



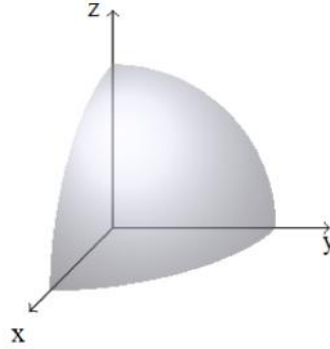
$$d\sigma = \sqrt{1 + (-1)^2 + (-1)^2} dxdy = \sqrt{3} dxdy.$$

Suy ra

$$\begin{aligned} \iint_S (x+z) d\sigma &= \iint_{D_{xy}} (x+1-x-y) \sqrt{3} dxdy \\ &= \int_0^1 \int_0^{1-y} (1-y) dy dx \\ &= \frac{1}{3}. \end{aligned}$$

**Ví dụ 4.3.** Tính  $I = \iint_S \frac{x}{\sqrt{x^2 + y^2}} d\sigma$ , trong đó  $S$  là mặt cầu  $x^2 + y^2 + z^2 = R^2$  nằm trong góc phần tám thứ nhất.

*Giải*



**Cách 1:**  $(S) : \begin{cases} x = R \sin \theta \cos \varphi, \\ y = R \sin \theta \sin \varphi, \\ z = R \cos \theta, \end{cases} \quad (\theta, \varphi) \in D = \left\{ (\theta, \varphi) \mid 0 \leq \theta \leq \frac{\pi}{2}, 0 \leq \varphi \leq \frac{\pi}{2} \right\}.$

Ta có

$$\begin{aligned} x_\theta &= R \cos \theta \cos \varphi, & x_\varphi &= -R \cos \theta \sin \varphi, \\ y_\theta &= R \cos \theta \sin \varphi, & y_\varphi &= R \sin \theta \cos \varphi, \\ z_\theta &= -R \sin \theta, & z_\varphi &= 0. \\ E &= (x_\theta)^2 + (y_\theta)^2 + (z_\theta)^2 = R^2, \\ G &= (x_\varphi)^2 + (y_\varphi)^2 + (z_\varphi)^2 = R^2 \sin^2 \theta, \\ F &= x_\theta x_\varphi + y_\theta y_\varphi + z_\theta z_\varphi = 0. \end{aligned}$$

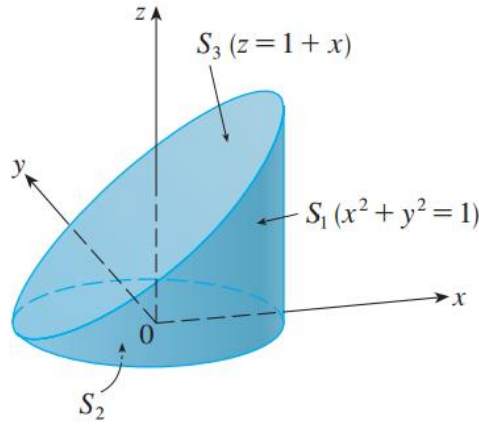
$$d\sigma = \sqrt{EG - F^2} d\theta d\varphi = \sqrt{R^4 \sin^2 \theta} d\theta d\varphi = |R^2 \sin \theta| d\theta d\varphi = R^2 \sin \theta d\theta d\varphi.$$

Suy ra

$$\begin{aligned} I &= \iint_D \frac{R \sin \theta \cos \varphi}{\sqrt{(R \sin \theta \cos \varphi)^2 + (R \sin \theta \sin \varphi)^2}} R^2 \sin \theta d\theta d\varphi \\ &= \int_0^{\frac{\pi}{2}} \int_0^{\frac{\pi}{2}} R^2 \sin \theta \cos \varphi d\theta d\varphi \\ &= R^2. \end{aligned}$$

**Cách 2:**  $(S) : z = \sqrt{R^2 - x^2 - y^2}$ ..., dành cho SV.

**Ví dụ 4.4.** Tính  $\iint_S z d\sigma$ , trong đó  $S$  là biên của hình khối giới hạn bởi mặt trụ  $x^2 + y^2 = 1$ , mặt phẳng  $z = 0$  và mặt phẳng  $z = 1 + x$ .



*Giải*

Ta có:  $S = S_1 \cup S_2 \cup S_3$ , trong đó

- $S_2 : z = 0, (x, y) \in D = \{(x, y) | x^2 + y^2 \leq 1\}$ .

Suy ra

$$\iint_{S_2} z ds = \iint_{S_2} 0 ds = 0$$

- $S_3 : z = 1 + x, (x, y) \in D = \{(x, y) | x^2 + y^2 \leq 1\}$

Suy ra

$$\begin{aligned} I &= \iint_{S_3} z ds = \iint_{D_{xy}} (1 + x) \sqrt{1 + (z_x)^2 + (z_y)^2} dx dy \\ &= \iint_{D_{xy}} (1 + x) \sqrt{1 + 1^2 + 0^2} dx dy. \end{aligned}$$

Chuyển sang tọa độ cực, đặt  $\begin{cases} x = r \cos \varphi \\ y = r \sin \varphi \end{cases}$  ta được

$$z = 1 + x = 1 + r \cos \varphi; \text{ trong đó } D_{r\varphi} = \{(r, \varphi) | 0 \leq r \leq 1, 0 \leq \varphi \leq 2\pi\}$$

Suy ra

$$I = \int_0^1 \int_0^{2\pi} (1 + r \cos \varphi) r dr d\varphi = \sqrt{2}\pi.$$

- $S_1 : \begin{cases} x = \cos \varphi \\ y = \sin \varphi \\ z = z \end{cases}$ , trong đó  $D = \{(\varphi, z) | 0 \leq \varphi \leq 2\pi; 0 \leq z \leq 1 + \cos \varphi\}$ .

$$E = (x_\varphi)^2 + (y_\varphi)^2 + (z_\varphi)^2 = 1,$$

$$G = (x_z)^2 + (y_z)^2 + (z_z)^2 = 1,$$

$$F = x_\varphi x_z + y_\varphi y_z + z_\varphi z_z = 0.$$

$$\Rightarrow d\sigma = \sqrt{EG - F^2} d\varphi dz = d\varphi dz$$

Suy ra

$$\iint_{S_1} z d\sigma = \iint_D z d\varphi dz = \int_0^{2\pi} \int_0^{1+\cos\varphi} z dz d\varphi = \frac{3}{2}\pi.$$

Vậy  $\iint_S z d\sigma = \frac{3}{2}\pi + \sqrt{2}\pi.$

### 4.3 Tích phân mặt loại II

#### 4.3.1 Ký hiệu

$$\iint_S f(x, y, z) dydz + g(x, y, z) dx dz + h(x, y, z) dx dy, \text{ với } S \text{ là một mặt trong } \mathbb{R}^3.$$

**Tính chất 4.1.** Cho mặt  $S$ , gọi  $S^+$  là mặt  $S$  với hướng đã chọn trước,  $S^-$  là mặt  $S$  với hướng ngược lại, khi đó ta có

$$\iint_{S^-} f dydz + g dz dx + h dx dy = - \iint_{S^+} f dydz + g dz dx + h dx dy.$$

#### 4.3.2 Cách tính

##### A. $S$ không kín:

Cách 1: đưa về tích phân mặt loại 1 (c1)

Cách 2: đưa về tích phân bội 2 (c2)

Đặt  $\vec{F} = (f, g, h).$

▷ Nếu  $S$  có dạng  $z = z(x, y)$ , ta có

$$\iint_S f dydz + g dx dz + h dx dy \stackrel{c1}{=} \iint_S \vec{F} \cdot \vec{N} d\sigma \stackrel{c2}{=} \iint_{D_{xy}} \vec{F} \cdot \vec{n}_s dx dy,$$

trong đó

- $\vec{n} = \pm (-z_x, -z_y, 1),$
- $\vec{N} = \frac{\vec{n}}{|\vec{n}|}$ : pháp vectơ đơn vị,
- $\vec{n}_s$  được chọn từ  $\vec{n}$  dựa vào phía của mặt  $S$ . (trên, dưới).

▷ Nếu  $S$  có dạng  $y = y(x, z)$ , ta có

$$\iint_S f dydz + g dx dz + h dx dy \stackrel{c1}{=} \iint_S \vec{F} \cdot \vec{N} d\sigma \stackrel{c2}{=} \iint_{D_{xz}} \vec{F} \cdot \vec{n}_s dx dz,$$

trong đó

- $\vec{n} = \pm (-y_x, 1, -y_z),$
- $\vec{N} = \frac{\vec{n}}{|\vec{n}|}$ : pháp vectơ đơn vị,
- $\vec{n}_s$  được chọn từ  $\vec{n}$  dựa vào phía của mặt  $S$ . (trái, phải).

▷ Nếu  $S$  có dạng  $x = x(y, z)$ , ta có

$$\iint_S f dydz + g dx dz + h dx dy \stackrel{c1}{=} \iint_S \vec{F} \cdot \vec{N} d\sigma \stackrel{c2}{=} \iint_{D_{yz}} \vec{F} \cdot \vec{n}_s dydz,$$

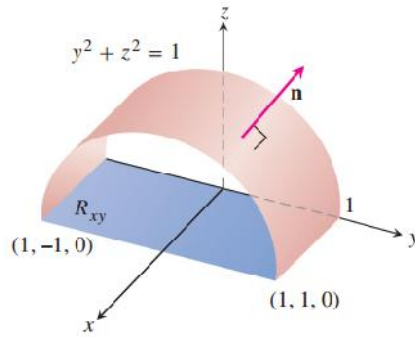
trong đó

- $\vec{n} = \pm (1, -x_y, -x_z)$ ,
- $\vec{N} = \frac{\vec{n}}{|\vec{n}|}$ : pháp vectơ đơn vị,
- $\vec{n}_s$  được chọn từ  $\vec{n}$  dựa vào phía của mặt  $S$ . (trước, sau).

Nhắc lại: cho  $\vec{a} = (a_1, a_2, a_3)$ ;  $\vec{b} = (b_1, b_2, b_3)$ , khi đó  $\begin{cases} |\vec{a}| = \sqrt{a_1^2 + a_2^2 + a_3^2} \\ \vec{a} \cdot \vec{b} = a_1 b_1 + a_2 b_2 + a_3 b_3 \end{cases}$

**Ví dụ 4.5.** Tính  $I = \int_S yz dz dx + z^2 dx dy$ , với  $S$  là phía trên của mặt  $y^2 + z^2 = 1, z \geq 0$ , giới hạn bởi hai mặt  $x = 0, x = 1$ .

*Giải*



Tham số mặt ( $S$ ):  $z = \sqrt{1 - y^2}$ ,  $(x, y) \in D = [0, 1] \times [-1, 1]$ . Ta có

$$z_x = 0, z_y = \frac{-y}{\sqrt{1 - y^2}} \Rightarrow \vec{n} = \pm \left( 0, \frac{y}{\sqrt{1 - y^2}}, 1 \right)$$

Do  $S$  là phía phần phía trên nên chọn  $\vec{n}_S = \left( 0, \frac{y}{\sqrt{1 - y^2}}, 1 \right)$ .

Ta lại có  $\vec{F} = (0, yz, z^2)$ , suy ra

$$\vec{F} \cdot \vec{n}_S = (0, yz, z^2) \cdot \left( 0, \frac{y}{\sqrt{1 - y^2}}, 1 \right) = 1.$$

Vậy

$$I = \iint_S yz dz dx + z^2 dx dy = \iint_D \vec{F} \cdot \vec{n}_S dx dy = \int_0^1 \int_{-1}^1 1 dy dx = 2.$$

**Ví dụ 4.6.** Tính  $I = \int_S y dz dx$ , với  $S$  là phía dưới của mặt phẳng  $x + y + z = 1$  nằm trong góc phần tám thứ nhất.

**Giải**

Tham số mặt  $(S) : z = 1 - x - y, \quad (x, y) \in D = \{(x, y) | 0 \leq x \leq 1, 0 \leq y \leq 1 - x\}$ . Ta có

$$z_x = -1, z_y = -1 \Rightarrow \vec{n} = \pm(1, 1, 1).$$

Do  $S$  là phía phần phía dưới nên chọn  $\vec{n}_S = (-1, -1, -1)$ .

Ta lại có  $\vec{F} = (0, y, 0)$ , suy ra

$$\vec{F} \cdot \vec{n}_S = (0, y, 0) \cdot (-1, -1, -1) = -y.$$

Vậy

$$I = \int_S y dz dx = \int_D (-y) dx dy = - \int_0^1 \int_0^{1-x} y dy dx = -\frac{1}{6}.$$

**B.  $S$  kín:** ta tách  $S$  thành các mặt không kín, hoặc dùng định lý sau

**Định lý 4.2. (Định lý Divergence) Nếu**

1.  $\Omega$  là khối đơn, và  $S$  là biên của  $\Omega$ ,
2.  $S$  định hướng dương (hướng ra ngoài),
3. các hàm  $f, g, h$  liên tục và tất cả các đạo hàm riêng cấp 1 của chúng cũng liên tục trên miền  $\Omega \cup S$ ,

thì ta có

$$\oint_S f dy dz + g dx dz + h dx dy = \iiint_{\Omega} \left( \frac{\partial f}{\partial x} + \frac{\partial g}{\partial y} + \frac{\partial h}{\partial z} \right) dx dy dz.$$

**Ví dụ 4.7.** Tính  $I = \int_S y dz dx$ , với  $S$  là phía trong của mặt kín tứ diện giới hạn bởi các mặt  $x + y + z = 1, x = 0, y = 0, z = 0$ .

**Giải**

**Cách 1:** dùng định lý Divergence. Gọi  $S^-$  là mặt  $S$  phía ngoài. Ta có

- $f = 0, g = y, h = 0$ ,
- $\Omega = \{(x, y, z) | 0 \leq x \leq 1, 0 \leq y \leq 1 - x, 0 \leq z \leq 1 - x - y\}$ .

Áp dụng định lý Divergence ta có

$$\iint_{S^-} y dz dx = \iiint_{\Omega} 1 dx dy dz = \int_0^1 \int_0^{1-x} \int_0^{1-x-y} 1 dz dy dx = \frac{1}{6}$$

Suy ra  $I = -\frac{1}{6}$ .

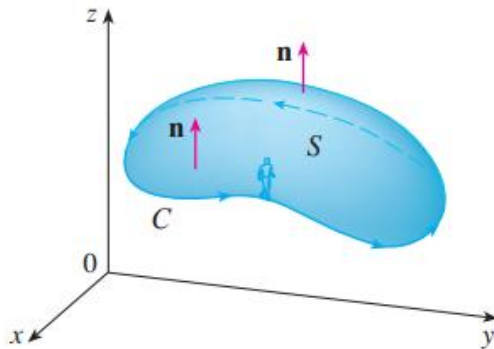
**Cách 2:** tách  $S$  thành 4 mặt. Dành cho SV.

### 4.3.3 Tích tích phân đường loại II trong không gian bằng định lý Stokes

**Định lý 4.3. (Định lý Stokes)** Nếu các hàm  $f, g, h$  liên tục và tất cả các đạo hàm riêng cấp 1 của chúng cũng liên tục trên mặt  $S$  thì

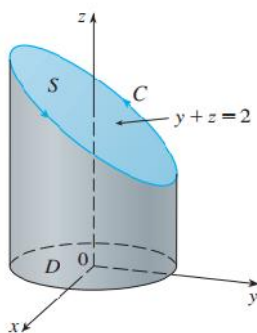
$$\oint_C f dx + g dy + h dz = \iint_S \left( \frac{\partial h}{\partial y} - \frac{\partial g}{\partial z} \right) dy dz + \left( \frac{\partial f}{\partial z} - \frac{\partial h}{\partial x} \right) dx dz + \left( \frac{\partial g}{\partial x} - \frac{\partial f}{\partial y} \right) dx dy$$

trong đó  $C$  là biên của  $S$  và chiều lấy tích phân trên  $C$  được chọn sao cho một người đứng trên mặt cong  $S$  bị pháp tuyến dương  $\vec{n}$  xuyên từ chân đến đầu, nhìn thấy chiều trên  $C$  ngược chiều kim đồng hồ.



**Ví dụ 4.8.** Tính  $I = \oint_C -y^2 dx + x dy + z^2 dz$ , với  $C$  là giao tuyến của mặt  $y + z = 2$  và  $x^2 + y^2 = 1$  có chiều ngược chiều kim đồng hồ khi nhìn từ trên xuống.

*Giải*



Ta có

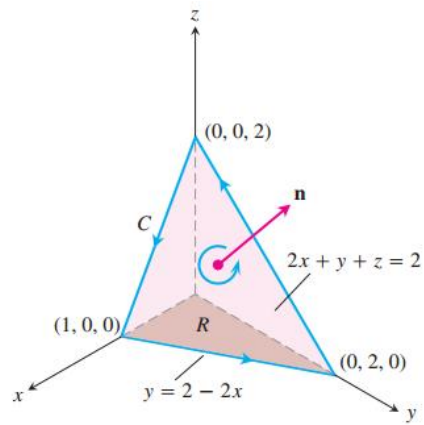
- $S : z = 2 - y, \quad (x, y) \in D = \{(x, y) \mid x^2 + y^2 \leq 1\},$
- $\frac{\partial h}{\partial y} - \frac{\partial g}{\partial z} = 0; \frac{\partial f}{\partial z} - \frac{\partial h}{\partial x} = 0; \frac{\partial g}{\partial x} - \frac{\partial f}{\partial y} = 1 + 2y.$

Áp dụng định lý Stokes, ta có

$$I = \oint_C -y^2 dx + x dy + z^2 dz = \iint_S (1 + 2y) dx dy.$$

**Ví dụ 4.9.** Tính  $I = \oint_C xz dx + xy dy + 3xz dz$ , trong đó  $C$  là biên của mặt phẳng  $2x + y + z =$

2 nằm trong góc phần tám thứ nhất, có chiều ngược chiều kim đồng hồ nếu nhìn từ trên xuống.



## Tích phân mặt loại I

**Bài tập 4.1.** Tính các tích phân mặt sau đây

1.  $\iint_S yz d\sigma$ , trong đó  $S : x = u^2, \quad y = u \sin v, \quad z = u \cos v; \quad 0 \leq u \leq 1, 0 \leq v \leq \frac{\pi}{2}$
2.  $\iint_S (x^2 + y^2) d\sigma$ ,  $S$  là mặt cầu đơn vị  $x^2 + y^2 + z^2 = 9$
3.  $\iint_S z d\sigma$ ,  $S$  là mặt parabolic  $z = 2 - x^2 - y^2$  trong miền  $z \geq 0$
4.  $\iint_S (x^2 + y^2 + (z - 2)^2) d\sigma$ ,  $S$  là mặt  $x^2 + y^2 + z^2 = 4, z \geq 1$
5.  $\iint_S xy d\sigma$ ,  $S$  là tam giác giới hạn bởi các đỉnh  $(1, 0, 0); (0, 2, 0); (0, 0, 2)$
6.  $\iint_S x^2 z^2 d\sigma$ ,  $S$  là phần mặt nón  $z^2 = x^2 + y^2$  nằm giữa các mặt  $z = 1, z = 3$
7.  $\iint_S x^2 y z d\sigma$ ,  $S$  là phần mặt phẳng  $z = 1 + 2x + 3y$  nằm trên hình chữ nhật  $[0, 3] \times [0, 2]$ .
8.  $\iint_S y d\sigma$ ,  $S$  là phần mặt  $z = \frac{2}{3} (x^{3/2} + y^{3/2})$ ,  $0 \leq x \leq 1, 0 \leq y \leq 1$ .
9.  $\iint_S z d\sigma$ ,  $S$  là mặt  $x = y + 2z^2$ ,  $0 \leq y \leq 1, 0 \leq z \leq 1$ .
10.  $\iint_S xz d\sigma$ ,  $S$  là biên của miền được bao quanh bởi mặt trụ  $y^2 + z^2 = 9$  và các mặt  $x = 0, x + y = 5$ .
11.  $\iint_S (z + x^2 y) d\sigma$ ,  $S$  là phần mặt trụ  $y^2 + z^2 = 1$  và nằm giữa các mặt  $x = 0, x = 3$  trong góc phần tám thứ nhất.
12.  $\iint_S (x^2 + y^2 + z^2) d\sigma$ ,  $S$  là phần mặt trụ  $y^2 + z^2 = 9$  và nằm giữa các mặt  $z = 0, z = 2$ , cùng với các mặt đĩa tròn trên đỉnh và đáy.

## Tích phân mặt loại II

**Bài tập 4.2.** Tính các tích phân sau

1.  $\iint_S x dy dz + y dx dz + z dx dy$ ,  $S$  là phía trên của mặt phẳng  $x + 2z - 1$  nằm giữa hai mặt phẳng  $y = 0, y = 2$  và thuộc góc phần tám thứ nhất
2.  $\iint_S z dx dy$ ,  $S$  là phía ngoài của mặt cầu  $x^2 + y^2 + z^2 = 1, x \geq 0$
3.  $\iint_S y dz dx$ ,  $S$  là phần dưới của mặt phẳng  $x + y + z = 3$  thuộc góc phần tám thứ nhất.
4.  $\iint_S x dy dz + y^2 dx dz + dx dy$ ,  $S$  là phía ngoài của mặt xung quanh của khối trụ  $x^2 + y^2 \leq 2x, 0 \leq z \leq 1$
5.  $\iint_S xy dy dz + yz dx dz + xz dx dy$ ,  $S$  là phần mặt phẳng Parabol  $z = 4 - x^2 - y^2$  nằm phía trên hình vuông  $0 \leq x \leq 1, 0 \leq y \leq 1$ .
6.  $\iint_S -x dy dz - y dx dz + z^3 dx dy$ ,  $S$  là phần mặt nón  $z = \sqrt{x^2 + y^2}$  giữa các mặt phẳng  $z = 1, z = 3$  với định hướng xuống.



7.  $\iint_S xydz - zdx dz + ydxdy$ ,  $S$  là phần mặt cầu  $x^2 + y^2 + z^2 = 4$  nằm trong góc phần tám thứ nhất, với định hướng tới gốc tọa độ.

8.  $\iint_S xzdydz + xdx dz + ydxdy$ ,  $S$  là nửa cầu  $x^2 + y^2 + z^2 = 25$ ,  $y \geq 0$ , định hướng theo hướng trục Oy.

9.  $\iint_S ydxdz - zdx dy$ ,  $S$  chứa mặt Parabol  $y = x^2 + z^2$ ,  $0 \leq y \leq 1$  và đĩa  $x^2 + z^2 \leq 1$ ,  $y = 1$ .

10.  $\iint_S yxdydz + 4x^2dx dz + yzdx dy$ ,  $S$  là mặt  $z = xe^y$ ,  $0 \leq x \leq 1, 0 \leq y \leq 1$

11.  $\iint_S xdydz + ydxdz + 5dx dy$ ,  $S$  là biên của miền được bao quanh bởi mặt trụ  $x^2 + z^2 = 1$  và các mặt  $y = 0$  và  $x + y = 2$

#### Bài tập 4.3. Tính

1.  $\iint_S x^2 dydz - 2xydx dz + 3xzdx dy$ ,  $S$  là phía trong của mặt cầu  $x^2 + y^2 + z^2 = 4$

2.  $\iint_S zdx dy$ ,  $S$  là phía ngoài của mặt ellipsoid  $\frac{x^2}{9} + \frac{y^2}{4} + \frac{z^2}{4} = 1$

3.  $\iint_S x^2 dydz + y^2 dx dz + z^2 dx dy$ ,  $S$  là sáu mặt phía ngoài của hình hộp chữ nhật  $[0, 1] \times [0, 2] \times [0, 3]$

4.  $\iint_S xydydz + (y^2 + e^{xz})dx dz + \cos(xy)dydz$ ,  $S$  là phía ngoài của mặt giới giới hạn bởi mặt  $z = 1 - x^2$ ,  $z = 0$ ,  $y = 0$ ,  $y + z = 2$

5.  $\iint_S xye^z dydz + xy^2 z^3 dx dz - ye^z dydz$ ,  $S$  là mặt của hộp được bao quanh bởi mặt phẳng tọa độ và mặt phẳng  $x = 3, y = 2, z = 1$ .

6.  $\iint_S x^2 yz dydz + xy^2 z dx dz + xyz^2 dydz$ ,  $S$  là mặt hộp được bao quanh bởi các mặt phẳng  $x = 0, x = a, y = 0, y = b, z = c$  trong đó  $a, b, c$  là hằng số dương.

7.  $\iint_S 3xy^2 dydz + xe^z dx dz + z^3 dydz$ ,  $S$  là mặt hình khối bị chặn bởi mặt trụ  $y^2 + z^2 = 1$  và các mặt phẳng  $x = -1, x = 2$ .

8.  $\iint_S (x^3 + y^3) dydz + (y^3 + z^3) dx dz + (z^3 + x^3) dydz$ ,  $S$  là mặt cầu có tâm tại gốc tọa và bán kính 2.

9.  $\iint_S zdydz + ydxdz + zxdydz$ ,  $S$  là bề mặt của khối tứ diện được bao quanh bởi các mặt phẳng tọa độ và mặt phẳng  $\frac{x}{a} + \frac{y}{b} + \frac{z}{c} = 1$ , trong đó  $a, b, c$  dương.

10.  $\iint_S (\cos z + xy^2) dydz + xe^{-z} dx dz + (\sin y + x^2 z) dydz$ ,  $S$  là mặt khối bị chặn bởi mặt Parabol  $z = x^2 + y^2$  và  $z = 4$

11.  $\iint_S x^4 dydz - x^3 z^2 dx dz + 4xy^2 z dydz$ ,  $S$  là mặt của khối bị chặn bởi mặt trụ  $x^2 + y^2 = 1$  và mặt phẳng  $z = x + 2, z = 0$ .

#### Bài tập 4.4. Tính

1.  $\int_C x^2 z dy dz + xy^2 dx dz + z^2 dx dy$ ,  $C$  là đường giao tuyến của mặt  $x + y + z = 1$  và  $x^2 + y^2 = 9$  có hướng ngược chiều kim đồng hồ nếu nhìn từ phía trên xuống
2.  $\int_C x^2 y dy dz + \frac{1}{3} x^3 dx dz + xy dx dy$ ,  $C$  là giao tuyến của  $z = y^2 - x^2$  và  $x^2 + y^2 = 1$  có hướng ngược chiều kim đồng hồ nếu nhìn từ phía trên xuống

## Chương 5

# Phương trình vi phân và hệ phương trình vi phân

### 5.1 Khái niệm cơ bản

#### 5.1.1 Định nghĩa

**Định nghĩa 5.1.** Phương trình vi phân là phương trình liên hệ giữa biến độc lập, hàm số phải tìm và các đạo hàm của nó. *Cấp cao nhất* của đạo hàm có mặt trong phương trình được gọi là *cấp* của phương trình vi phân.

#### Ví dụ 5.1.

1.  $y' + \frac{1}{x} = 0$ ,  $\frac{dy}{dx} = 3x + 2$  là phương trình vi phân cấp 1.
2.  $y'' = 3xy - \frac{1}{x^2}$ ,  $\frac{d^2y}{dx^2} - 5xy \frac{dy}{dx} = x^2$  là phương trình vi phân cấp 2.
3.  $(y''')^2 + (y'')^4 + y' = 7x$  là phương trình vi phân cấp 3.
4.  $\frac{dz}{dx} + \frac{dz}{dy} = x^2 + 2y$  là phương trình vi phân cấp 1.
5.  $\frac{\partial^2 z}{\partial x^2} = x^3 + 1$  là phương trình vi phân cấp 2.

Phương trình vi phân được gọi là *phương trình vi phân đạo hàm riêng* (partial differential equation - PDE) nếu **hàm cần tìm** phụ thuộc vào hai hay nhiều biến.

Phương trình vi phân được gọi là *phương trình vi phân thường* (ordinary differential equation - ODE) nếu **hàm cần tìm** chỉ phụ thuộc vào một biến duy nhất.

Phương trình vi phân thường có dạng

$$F(x, y, y', \dots, y^{(n)}) = 0 \quad (5.1)$$

trong đó  $x$  là biến độc lập,  $y$  là **hàm cần tìm**,  $y', \dots, y^{(n)}$  là đạo hàm các cấp của  $y$ , biểu thức  $F(x, y, y', \dots, y^{(n)})$  thực sự chứa  $y^{(n)}$ .

**Ví dụ 5.2.** Trong ví dụ 5.1, các phương trình 1,2,3 là phương trình vi phân thường, các phương trình 4,5 là phương trình vi phân đạo hàm riêng.

### 5.1.2 Nghiệm của phương trình vi phân

**Định nghĩa 5.2.** Nghiệm của phương trình vi phân 5.1 trên khoảng  $I \subset \mathbb{R}$ , là hàm  $y = y(x)$  thỏa phương trình 5.1 tại mọi điểm  $x \in I$ .

*Nghiệm riêng* của phương trình vi phân là một trong các nghiệm của nó.

*Nghiệm tổng quát* của phương trình vi phân là tập hợp tất cả các nghiệm của nó.

**Ví dụ 5.3.** Chứng minh phương trình  $\frac{dy}{dx} = \frac{x^2}{y^2}$  có nghiệm tổng quát là  $y = \sqrt[3]{x^3 + C}$ , trong đó  $C$  là hằng số.

## 5.2 Phương trình vi phân cấp 1

**Định nghĩa 5.3.** Phương trình vi phân cấp 1 là phương trình có dạng

$$F(x, y, y') = 0 \quad (5.2)$$

trong đó  $x$  là biến độc lập,  $y$  là hàm cần tìm,  $y' = \frac{dy}{dx}$ .

Thường người ta cho phương trình vi phân cấp 1 đã giải ra đối với  $y'$

$$y' = f(x, y)$$

hoặc dạng

$$P(x, y) dx + Q(x, y) dy = 0.$$

**Định nghĩa 5.4.** Bài toán Cauchy là bài toán tìm nghiệm riêng của phương trình

$$y' = f(x, y)$$

với điều kiện đầu

$$y(x_0) = y_0.$$

**Định lý 5.1.** Nghiệm của bài toán Cauchy tồn tại và duy nhất nếu hàm  $f(x, y)$  và đạo hàm riêng  $\frac{\partial f}{\partial y}$  liên tục trên một tập mở  $D \in \mathbb{R}^2$  chứa điểm  $(x_0, y_0)$ .

**Định nghĩa 5.5.** Nghiệm tổng quát của phương trình 5.2 là biểu thức  $y = f(x, C)$ , trong đó  $C$  là hằng số tùy ý sao cho với mỗi hằng số  $C$ , hàm số  $y = f(x, C)$  là một nghiệm (riêng) của phương trình 5.2.

Nghiệm tổng quát của phương trình 5.2 viết dưới dạng hàm ẩn  $F(x, y) = C$  được gọi là tích phân tổng quát.

Một số nghiệm của phương trình 5.2 mà tại mỗi điểm của nó, tính duy nhất nghiệm của bài toán Cauchy bị phá vỡ, được gọi là nghiệm kì dị.

**Ví dụ 5.4.** Bài toán Cauchy

$$\begin{cases} \frac{dy}{dx} = \frac{x^2}{y^2} \\ y(0) = 2 \end{cases}$$

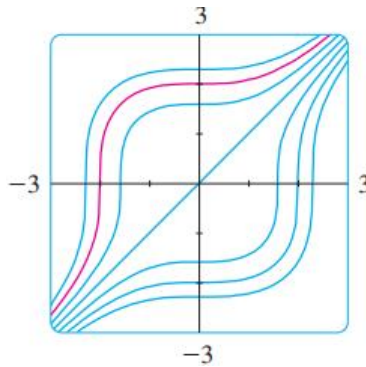
có nghiệm  $y = \sqrt[3]{x^3 + 8}$ .

**Đường cong tích phân**

Đồ thị của mỗi nghiệm  $y = y(x)$  của phương trình vi phân đã cho, vẽ trên mặt phẳng  $Oxy$  gọi là đường cong tích phân của phương trình này.

Như vậy, nghiệm tổng quát  $y = y(x)$  trên mặt phẳng  $Oxy$  tương ứng với một họ các đường cong tích phân phụ thuộc vào một tham số là hằng số  $C$  bất kỳ. Nghiệm riêng thỏa mãn điều kiện bao đầu  $y(x_0) = y_0$  tương ứng với đường cong tích phân đi qua điểm  $(x_0, y_0)$  cho trước của họ đó.

**Ví dụ 5.5.** Phương trình vi phân  $\frac{dy}{dx} = \frac{x^2}{y^2}$  có nghiệm tổng quát là  $y = \sqrt[3]{x^3 + C}$ . Với  $C = 8$ , ta có nghiệm riêng của nó là  $y = \sqrt[3]{x^3 + 8}$ .

**5.3 Một số dạng phương trình vi phân cấp 1****5.3.1 Phương trình vi phân tách biến**

Phương trình sau đây được gọi là *phương trình tách biến*

$$g(y)y' = f(x). \quad (5.3)$$

Ta có thể viết dưới các dạng sau:

$$g(y) \frac{dy}{dx} = f(x); \quad g(y)dy = f(x)dx; \quad g(y)dy + f(x)dx = 0$$

*Cách giải:* Nếu phương trình có dạng 5.3 lấy tích phân hai vế theo biến  $x$ , ta được

$$\begin{aligned} \int g(y)y'dx &= \int f(x)dx \\ \int g(y)dy &= \int f(x)dx \\ G(y) &= F(x) + C \end{aligned}$$

trong đó:  $G(y)$  là nguyên hàm của  $y$ ,  $F(x)$  là nguyên hàm của  $f$ ,  $C$  là hằng số.

Nếu phương trình dạng  $g(y)dy = f(x)dx$ , lấy tích phân hai vế ta được

$$\int g(y)dy = \int f(x)dx.$$

**Ví dụ 5.6.** Giải các phương trình vi phân sau

1.  $y' = x - 2x^3$
2.  $y^2 dy = x dx$
3.  $y' - x(y^2 - 1) = 0$
4.  $e^x dx - y dy = 0, y(0) = 1$

*Giải*

1. Lấy tích phân 2 vế phương trình  $y' = x - 2x^3$  theo biến  $x$ , ta được

$$\begin{aligned}\int y' dx &= \int (x - 2x^3) dx \\ \int dy &= \int (x - 2x^3) dx \\ y &= \frac{x^2}{2} - \frac{x^4}{2} + C\end{aligned}$$

2. Lấy tích phân 2 vế phương trình  $y^2 dy = x dx$ , ta được

$$\begin{aligned}\int y^2 dy &= \int x dx \\ \frac{y^3}{3} &= \frac{x^2}{2} + C\end{aligned}$$

3. Dành cho sinh viên.
4. Dành cho sinh viên.

**Ví dụ 5.7. Thay bằng ví dụ ứng dụng khác**

Trong 1 phản ứng hóa học tại nhiệt độ cố định, nồng độ chất  $[A]$  phụ thuộc thời gian theo phương trình vi phân

$$\frac{d[A]}{dt} = -2k[A]^2.$$

Chứng minh rằng

$$\frac{1}{[A]} - \frac{1}{[A]_0} = 2kt$$

biết rằng khi tại thời điểm ban đầu  $t = 0$  thì  $[A] = [A]_0$ .

### 5.3.2 Phương trình đẳng cấp

Phương trình vi phân

$$y' = f(x, y)$$

được gọi là *đẳng cấp* nếu hàm  $f(x, y)$  có thể viết được dưới dạng

$$f(x, y) = \varphi\left(\frac{y}{x}\right)$$

nghĩa là

$$y' = \varphi\left(\frac{y}{x}\right) \quad (5.4)$$

Nhắc lại: hàm  $f(x, y)$  được gọi là hàm đẳng cấp bậc  $m$  nếu  $f(\lambda x, \lambda y) = \lambda^m f(x, y)$ .

Cách giải:

Đặt  $u = \frac{y}{x}$ , ta có  $y = ux$ ,  $y' = u'x + u$ .

Khi đó, phương trình (5.4) trở thành

$$\begin{aligned} xu' + u &= \varphi(u) \\ xu' &= \varphi(u) - u \\ \frac{1}{\varphi(u) - u} u' &= \frac{1}{x} \end{aligned}$$

Lấy tích phân hai vế, ta được

$$\int \frac{du}{\varphi(u) - u} = \ln|x| + C$$

**Ví dụ 5.8.** Giải các phương trình vi phân sau

1.  $y' = \frac{xy - y^2}{x^2 - 2xy}$  trên miền  $x > 0$ .
2.  $y' = \left(\frac{y}{x}\right)^2 + \frac{y}{x} + 4$ ,  $y(1) = 2$

*Giải*

1. Chia cả tử và mẫu về phải của phương trình  $y' = \frac{xy - y^2}{x^2 - 2xy}$  cho  $x^2$ , ta được

$$y' = \frac{\frac{y}{x} - \left(\frac{y}{x}\right)^2}{1 - 2\frac{y}{x}}$$

Đặt  $u = \frac{y}{x}$ , ta có  $y = ux$ ,  $y' = u'x + u$ .

Khi đó, phương trình trở thành

$$\begin{aligned} xu' + u &= \frac{u - u^2}{1 - 2u} \\ xu' &= \frac{u - u^2}{1 - 2u} - u \\ xu' &= \frac{u^2}{1 - 2u} \end{aligned}$$

Trường hợp  $u = 0 \Rightarrow y = 0$  là nghiệm.

Trường hợp  $u \neq 0$ , ta có

$$\frac{1 - 2u}{u^2} u' = \frac{1}{x}$$

Lấy tích phân hai vế, ta được

$$\begin{aligned} \int \frac{1 - 2u}{u^2} du &= \int \frac{1}{x} dx \\ -\frac{1}{u} - 2 \ln|u| &= \ln x + C \\ -\frac{\frac{y}{x}}{y} - 2 \ln\left|\frac{y}{x}\right| &= \ln x + C \end{aligned}$$

$$\ln x + \ln \frac{y^2}{x^2} + \ln K = -\frac{x}{y}; (K = e^C)$$

$$\ln \left( K \frac{y^2}{x} \right) = -\frac{x}{y}$$

Lấy  $e$  mũ hai vế, ta được

$$K \frac{y^2}{x} = e^{-\frac{x}{y}}$$

$$e^{\frac{x}{y}} \frac{y^2}{x} = D,$$

trong đó  $D = K^{-1}$  là hằng số.

2. Dành cho sinh viên.

### 5.3.3 Phương trình vi phân tuyến tính cấp 1

Phương trình vi phân

$$y' + p(x)y = q(x) \quad (5.5)$$

được gọi là *phương trình vi phân tuyến tính*.

Nếu  $q(x) = 0$ , phương trình 5.5 gọi là phương trình vi phân tuyến tính thuần nhất.

Nếu  $q(x) \neq 0$ , phương trình 5.5 gọi là phương trình vi phân tuyến tính không thuần nhất.

**Định lý 5.2.** Xét phương trình vi phân tuyến tính cấp 1 thuần nhất

$$y' + p(x)y = 0$$

trong đó  $p(x)$  là hàm liên tục trên khoảng  $I \subset \mathbb{R}$ .

Khi đó nghiệm tổng quát của phương trình vi phân trên khoảng  $I$  là

$$y = Ce^{-\int p(x)dx}$$

với  $C$  là hằng số tùy ý.

#### Chứng minh

Nhân 2 vế của phương trình  $y' + p(x)y = 0$  cho  $e^{\int p(x)dx}$ , ta được

$$\left( ye^{\int p(x)dx} \right)' = 0$$

$$ye^{\int p(x)dx} = C$$

$$y = Ce^{-\int p(x)dx},$$

trong đó  $C$  là hằng số tùy ý.

**Định lý 5.3.** Xét phương trình vi phân tuyến tính cấp 1 không thuần nhất

$$y' + p(x)y = q(x)$$



trong đó  $p(x), q(x)$  là các hàm liên tục trên khoảng  $I \subset \mathbb{R}$ .

Khi đó nghiệm tổng quát của phương trình vi phân trên khoảng  $I$  là

$$y = e^{-\int p(x)dx} \left( \int e^{\int p(x)dx} q(x)dx + C \right)$$

trong đó  $C$  là hằng số tùy ý.

### Chứng minh

Nhân 2 vế của phương trình  $y' + p(x)y = q(x)$  cho  $e^{\int p(x)dx}$ , ta được

$$\begin{aligned} \left( y e^{\int p(x)dx} \right)' &= q(x) e^{\int p(x)dx} \\ y e^{\int p(x)dx} &= \int e^{\int p(x)dx} q(x)dx + C \\ y &= e^{-\int p(x)dx} \left( \int e^{\int p(x)dx} q(x)dx + C \right), \end{aligned}$$

với  $C$  là hằng số tùy ý.

**Ví dụ 5.9.** Giải các phương trình vi phân sau

$$1. y' + 3x^2y = 0 \qquad 2. y' - \frac{2}{x}y = 0$$

*Giải*

1. Xét  $y' + 3x^2y = 0$ , ta có  $p(x) = 3x^2$ .

Suy ra  $\int p(x)dx = \int 3x^2dx = x^3 + C$ .

Nhân 2 vế của  $y' + 3x^2y = 0$  cho  $e^{x^3}$ , ta được

$$\begin{aligned} y' e^{x^3} + 3x^2 e^{x^3} y &= 0 \\ \left( y e^{x^3} \right)' &= 0 \\ y &= e^{-x^3} \cdot \int 0dx = D e^{-x^3}. \end{aligned}$$

trong đó  $D$  là hằng số.

2. Dành cho sinh viên.

**Ví dụ 5.10.** Giải các phương trình vi phân sau

$$1. y' - y = \sin x \qquad 2. y' - \frac{3}{x^2}y = \frac{1}{x^2} \qquad 3. y' + 2xy = 2x^3, y(0) = 1$$

*Giải*

1. Ta có  $p(x) = -1$ ,  $q(x) = \sin x$ .

Suy ra  $\int p(x)dx = \int -1dx = -x + C$ .

Nhân 2 vế của  $y' - y = \sin x$  cho  $e^{-x}$  ta được

$$\begin{aligned} y' e^{-x} - e^{-x} y &= \sin x \cdot e^{-x} \\ \left( y e^{-x} \right)' &= \sin x \cdot e^{-x} \end{aligned}$$

$$\begin{aligned}
ye^{-x} &= \int \sin x \cdot e^{-x} dx \\
y &= e^x \int \sin x \cdot e^{-x} dx \\
y &= e^x \cdot \left( -\frac{1}{2} e^{-x} (\cos x + \sin x) + C \right) \\
y &= -\frac{1}{2} (\cos x + \sin x) + Ce^x
\end{aligned}$$

2. Dành cho sinh viên.

3. Dành cho sinh viên.

## 5.4 Phương trình vi phân cấp 2

### 5.4.1 Phương trình vi phân cấp 2 giảm cấp được

#### A. Phương trình không chứa $y$ và $y'$

$$F(x, y'') = 0 \text{ hay } y'' = f(x)$$

*Cách giải:* Lấy tích phân 2 vế của phương trình theo biến  $x$  hai lần.

#### B. Phương trình không chứa $y$

$$F(x, y', y'') = 0 \text{ hay } y'' = f(x, y')$$

*Cách giải:* đặt  $p(x) = y'$ , chuyển về phương trình vi phân bậc nhất.

#### C. Phương trình không chứa $x$

$$F(y, y', y'') = 0 \text{ hay } y'' = f(y, y')$$

*Cách giải:*

- Đặt  $y' = p(y) \Rightarrow y'' = p \cdot \frac{dp}{dy}$ .

Thay  $y', y''$  vào phương trình ban đầu, ta có phương trình vi phân cấp 1.

Giải phương trình vi phân cấp 1 trên, ta có nghiệm  $p(y) = \varphi(y, C_1)$ .

Do  $y' = p(x)$ , ta có phương trình

$$y' = \varphi(y, C_1) \quad (*)$$

trong đó  $y(x)$  là hàm cần tìm. Giải phương trình (\*) ta được nghiệm của phương trình ban đầu.

**Ví dụ 5.11.** Một tàu hỏa đang chạy trên quãng đường nằm ngang với vận tốc 72 km/h. Dùng một lực hãm bằng 0,2 trọng lượng tàu để dừng lại. Hỏi tàu sẽ dừng lại sau thời gian bao lâu, và trong thời gian ấy, tàu đã đi được một quãng đường là bao nhiêu.

*Giải*

Theo định luật Newton:  $F = mT$ , ta có phương trình chuyển động của tàu là

$$m \frac{d^2 s}{dt^2} = -0,2mg$$

trong đó  $s$  là quãng đường đi được trong thời gian  $t$ ,  $m$  là khối lượng tàu,  $g$  là gia tốc trọng trường, lực  $F = -0,2mg$  mang dấu trừ vì là lực cản.

Đây là phương trình vi phân cấp 2 không chứa  $s$  và  $s'$

$$\frac{d^2 s}{dt^2} = -0,2g$$

**Ví dụ 5.12.** Tìm nghiệm riêng của phương trình

$$\begin{cases} y \cdot y'' = (y')^2 - (y')^3 \\ y(1) = 1 \\ y'(1) = -1 \end{cases}$$

*Giải*

Đặt  $y' = p(x) \Rightarrow y'' = p \cdot \frac{dp}{dy}$ .

Thay  $y', y''$  vào phương trình đã cho, ta có

$$y \cdot p \cdot \frac{dp}{dy} = p^2 - p^3 \quad (1)$$

Suy ra

$$p \left[ y \cdot \frac{dp}{dy} - p + p^2 \right] = 0$$

Trường hợp 1:  $p = 0 \Rightarrow y' = 0 \Rightarrow y = C$  là nghiệm của phương trình 1.

Trường hợp 3:  $p \neq 0$ , ta có

$$y \cdot \frac{dp}{dy} - p + p^2 = 0$$

### 5.4.2 Phương trình vi phân tuyến tính cấp 2

Phương trình vi phân tuyến tính cấp 2 hệ số hằng có dạng

$$ay'' + by' + cy = f(x), \quad (5.6)$$

trong đó  $f(x)$  là hàm liên tục trên khoảng  $I$

Nếu  $f(x) = 0$ , ta nói 5.6 là phương trình vi phân tuyến tính thuần nhất.

Nếu  $f(x) \neq 0$ , ta nói 5.6 là phương trình vi phân tuyến tính không thuần nhất.

**A. Giải phương trình vi phân tuyến tính cấp 2 thuần nhất hệ số hằng**

$$ay'' + by' + cy = 0, \quad (5.7)$$

*Cách giải:*

**B1:** giải phương trình đặc trưng  $ak^2 + bk + c = 0$  (\*),  $k$  là ẩn.

**B2:** Xét các trường hợp

TH1: PT (\*) có 2 nghiệm phân biệt  $k_1, k_2$ ,

$$\Rightarrow y = C_1 e^{k_1 x} + C_2 e^{k_2 x}$$

TH2: PT (\*) có 2 nghiệm kép  $k_0$ ,

$$\Rightarrow y = e^{k_0 x} (C_1 x + C_2)$$

TH3: PT (\*) có nghiệm phức liên hợp  $\alpha \pm i\beta$ ,

$$\Rightarrow y = e^{\alpha x} (C_1 \cos \beta x + C_2 \sin \beta x)$$

**Ví dụ 5.13.** Giải các phương trình vi phân sau

1.  $y'' + 4y' + 3y = 0$

2.  $y'' - 10y' + 25y = 0, y(0) = 1, y'(0) = 5.$

3.  $y'' + 2y' + 4y = 0$

**B. Giải phương trình vi phân tuyến tính cấp 2 không thuần nhất hệ số hằng**

$$ay'' + by' + cy = f(x), \quad (5.8)$$

*Cách giải*

**Cách 1: Phương pháp biến thiên hệ số Lorange**

**Bước 1:** giải ptvp thuần nhất  $ay'' + by' + cy = 0$

$\Rightarrow$  nghiệm tổng quát của phương trình thuần nhất có dạng:  $y_0 = C_1 y_1 + C_2 y_2$

**Bước 2:** tìm nghiệm riêng của phương trình 5.8 dạng  $y_p = C_1(x)y_1 + C_2(x)y_2$ , trong đó  $C_1(x), C_2(x)$  thỏa

$$\begin{cases} C_1' y_1 + C_2' y_2 = 0, \\ C_1' y_1' + C_2' y_2' = f(x). \end{cases}$$

Giải hệ trên (ẩn  $C_1, C_2$ ), ta được nghiệm duy nhất

$$C_1' = \varphi_1(x); \quad C_2' = \varphi_2(x).$$

Lấy tích phân 2 vế, ta được

$$\begin{aligned} C_1(x) &= \int \varphi_1(x) dx + K_1, \\ C_2(x) &= \int \varphi_2(x) dx + K_2. \end{aligned}$$

Đặt  $\Phi_1(x) = \int \varphi_1(x) dx, \Phi_2(x) = \int \varphi_2(x) dx$ , chọn  $K_1 = K_2 = 0$ , ta được

$$y_p = \Phi_1(x)y_1 + \Phi_2(x)y_2$$

**Bước 3:** vậy, nghiệm tổng quát của phương trình là

$$y = y_0 + y_p$$

**Ví dụ 5.14.** Tìm nghiệm của các phương trình sau

1.  $y'' - 2y' + y = \frac{e^x}{x}$ .
2.  $y'' + 6y' + 9y = e^{-3x} \cos x$ .

*Giải.*

1. Xét phương trình  $y'' - 2y' + y = 0$ .

Phương trình đặc trưng  $k^2 - 2k + 1 = 0$ , suy ra  $k_0 = 1$ .

Vậy nghiệm phương tổng quát của trình thuần nhất là

$$y_0 = (xC_1 + C_2)e^x$$

Tìm nghiệm riêng của phương trình  $y'' - 2y' + y = \frac{e^x}{x}$  dưới dạng

$$y_0 = (xC_1(x) + C_2(x))e^x$$

trong đó  $C_1(x)$ ,  $C_2(x)$  thỏa hệ

$$\begin{cases} C_1'xe^x + C_2'e^x = 0 \\ C_1'(e^x + xe^x) + C_2'e^x = \frac{e^x}{x} \end{cases}$$

Giải hệ trên, ta được

$$\begin{cases} C_1' = \frac{1}{x} \\ C_2' = -1 \end{cases}$$

Suy ra

$$\begin{cases} C_1 = \ln x + k_1 \\ C_2' = -x + k_2 \end{cases}$$

Chọn  $k_1 = k_2 = 0$ , ta được

$$y_p = xe^x \ln x - xe^x$$

Vậy, nghiệm tổng quát của pt ban đầu là

$$y = C_1xe^x + C_2e^x + xe^x \ln x - xe^x$$

trong đó  $C_1, C_2$  là hằng số.

2. Dành cho SV.

### B. Phương pháp hệ số bất định

**Bước 1:** Tìm nghiệm tổng quát  $y_0$  của phương trình thuần nhất  $ay'' + by' + c = 0$ .

**Bước 2:** Xét phương trình đặc trưng  $ak^2 + bk + c = 0$

**Trường hợp 1:**  $f(x) = e^{\lambda x} \cdot P_n(x)$ ,  $\lambda \in \mathbb{R}$  và  $P_n(x)$  đa thức bậc  $n$ .

Trường hợp	Dạng nghiệm riêng $y_p$
$\lambda$ không trùng với nghiệm của PT đặc trưng	$y_p = e^{\lambda x} \cdot Q_n(x)$
$\lambda$ trùng với một nghiệm của PT đặc trưng	$y_p = x \cdot e^{\lambda x} \cdot Q_n(x)$
$\lambda$ trùng với nghiệm kép của PT đặc trưng	$y_p = x^2 \cdot e^{\lambda x} \cdot Q_n(x)$

trong đó  $Q_n(x) = A_n x^n + A_{n-1} x^{n-1} + \dots + A_1 x + A_0$  là đa thức cùng bậc với  $P_n(x)$

**Trường hợp 2:**  $f(x) = e^{\lambda x} \cdot [P_n(x) \cos \gamma x + Q_m(x) \sin \gamma x]$ ,  $\lambda, \gamma \in \mathbb{R}$  và  $P_n(x), Q_m(x)$  đa thức bậc  $n, m$  tương ứng.

Trường hợp	Dạng nghiệm riêng $y_p$
$\lambda \pm i\gamma$ không trùng với nghiệm của PT đặc trưng	$y_p = e^{\lambda x} \cdot [R_l(x) \cos \gamma x + S_l(x) \sin \gamma x]$
$\lambda \pm i\gamma$ trùng với nghiệm của PT đặc trưng	$y_p = x \cdot e^{\lambda x} \cdot [R_l(x) \cos \gamma x + S_l(x) \sin \gamma x]$

trong đó

$$R_l(x) = A_l x^l + A_{l-1} x^{l-1} + \cdots + A_1 x + A_0$$

$$S_l(x) = B_l x^l + B_{l-1} x^{l-1} + \cdots + B_1 x + B_0$$

là hai đa thức cùng bậc  $l = \max\{m, n\}$ .

**Bước 3:** Tính  $y_p', y_p''$  thế vào phương trình ban đầu, suy ra

hệ số  $A_i, i = \overline{1, n}$  của đa thức  $Q_n(x)$ , hoặc

hệ số  $A_i, i = \overline{1, l}$  và  $B_i, i = \overline{1, l}$  của đa thức  $R_l(x), S_l(x)$

**Bước 4:** Nghiệm  $y = y_0 + y_p$ .

**Ví dụ 5.15.** Tìm nghiệm tổng quát của phương trình vi phân  $y'' - y' - 2y = 4x^2$

*Giải*

Xét phương trình thuần nhất  $y'' - y' - 2y = 0$

Phương trình đặc trưng  $k^2 - k + 2 = 0$  có nghiệm  $\begin{cases} k_1 = 2 \\ k_2 = -1 \end{cases}$ .

Suy ra nghiệm tổng quát của phương trình thuần nhất là  $y_0 = C_1 e^{2x} + C_2 e^{-x}$

Ta có  $f(x) = 4x^2$  có dạng  $e^{\alpha x} P_n(x)$  với  $\alpha = 0, P_2(x) = 4x^2$ .

Vì  $\alpha = 0$  không trùng với nghiệm của PT đặc trưng, ta tìm nghiệm riêng dạng

$$y_p = A_0 + A_1 x + A_2 x^2$$

Suy ra

$$\begin{aligned} y_p' &= A_1 + 2A_2 x, \\ y_p'' &= 2A_2. \end{aligned}$$

Thay vào pt ban đầu, ta có

$$\begin{aligned} 2A_2 - (A_1 + 2A_2 x) - 2(A_0 + A_1 x + A_2 x^2) &= 4x^2 \\ \Rightarrow (-2A_2)x^2 + (-2A_1 - 2A_2)x + (-2A_0 - A_1 + 2A_2) &= 4(x^2) + 0(x) + 0 \end{aligned}$$

Đồng nhất các hệ số tương ứng, ta được

$$\begin{cases} -2A_2 = 4 \\ -2A_2 - 2A_1 = 0 \\ 2A_2 - A_1 - 2A_0 = 0 \end{cases} \Leftrightarrow \begin{cases} A_2 = -2 \\ A_1 = 2 \\ A_0 = -3 \end{cases}$$

Suy ra

$$y_p = -3 + 2x - 2x^2.$$

Vậy, nghiệm tổng quát của phương trình ban đầu là

$$y = y_0 + y_p = C_1 e^{2x} + C_2 e^{-x} - 3 + 2x - 2x^2,$$

trong đó  $C_1, C_2$  là các hằng số tùy ý.

**Ví dụ 5.16.** Tìm nghiệm tổng quát của phương trình vi phân  $y'' - y' - 2y = 2e^{3x}$

*Giải*

Phương trình thuần nhất  $y'' - y' - 2y = 0$  có nghiệm tổng quát  $y_0 = C_1 e^{2x} + C_2 e^{-x}$

Ta có  $f(x) = e^{3x}$  có dạng  $e^{\alpha x} P_n(x)$  với  $\alpha = 3, P_2(x) = 2$ .

Vì  $\alpha = 3$  không trùng với nghiệm của PT đặc trưng, ta tìm nghiệm riêng dạng

$$y_p = A_0 e^{3x}$$

Suy ra

$$\begin{aligned} y_p' &= 3A_0 e^{3x}, \\ y_p'' &= 9A_0 e^{3x}. \end{aligned}$$

Thay vào phương trình ban đầu, ta có

$$\begin{aligned} 9A_0 e^{3x} - 3A_0 e^{3x} - 2A_0 e^{3x} &= 2e^{3x} \\ 4A_0 e^{3x} &= 2e^{3x} \end{aligned}$$

Đồng nhất các hệ số tương ứng, ta được

$$A_0 = \frac{1}{2}$$

Suy ra

$$y_p = \frac{1}{2} e^{3x}.$$

Vậy, nghiệm tổng quát của phương trình ban đầu là

$$y = y_0 + y_p = C_1 e^{2x} + C_2 e^{-x} + \frac{1}{2} e^{3x},$$

trong đó  $C_1, C_2$  là các hằng số.

**Ví dụ 5.17.** Tìm nghiệm của phương trình

1.  $\begin{cases} y'' - 5y' + 6y = e^{2x}(x - 1) \\ y(0) = -1, y'(0) = 2. \end{cases}$
2.  $y'' + y = (x + 2) \cos x$
3.  $y'' + y = (x^2 + 1) e^x$

**Định lý 5.4. Nguyên lý chồng chất nghiệm**

Xét phương trình  $y'' + ay' + b = f_1(x) + f_2(x)$  trong đó  $a, b$  là các hằng số thực,  $f_1(x), f_2(x)$  là những hàm liên tục trên  $I \subset \mathbb{R}$ . Khi đó, nghiệm riêng  $y_p$  của phương trình trên được tìm dưới dạng

$$y_p = y_1^* + y_2^*$$

trong đó  $y_1^*$  là nghiệm riêng của phương trình

$$y'' + ay' + b = f_1(x)$$

và  $y_2^*$  là nghiệm riêng của phương trình

$$y'' + ay' + b = f_2(x)$$

**Ví dụ 5.18.** Tìm nghiệm tổng quát của phương trình

$$y'' + y = (x + 2) \cos x + (x^2 + 1) e^x$$

**5.5 Hệ phương trình vi phân tuyến tính cấp 1 hệ số hằng**

Hệ phương trình vi phân tuyến tính cấp 1 hệ số hằng có dạng

$$\begin{cases} y' + a_1 y + b_1 z = q_1(x) \\ z' + a_2 y + b_2 z = q_2(x) \end{cases}$$

trong đó  $x$  là biến độc lập,  $y, z$  là hàm số theo biến  $x$ ,  $a_1, b_1, a_2, b_2$  là các hằng số,  $q_1(x), q_2(x)$  là hàm số đã biết theo biến  $x$ .

**Ví dụ 5.19.** Tìm nghiệm của hệ phương trình

$$\begin{cases} y' - 4z - 2y = \cos x \\ z' + 2z + y = \sin x \end{cases}$$

*Giải*

Đạo hàm hai về phương trình thứ hai theo  $x$ , ta được

$$z'' + 2z' + y' = \cos x \quad (*)$$

Từ phương trình thứ hai, ta có

$$y = \sin x - z' - 2z$$

Thay  $y$  vừa tìm được vào phương trình thứ nhất, ta có

$$y' = \cos x + 4z + 2(\sin x - z' - 2z) = \cos x + 2\sin x - 2z'$$

Thay  $y'$  vào phương trình (\*), ta được phương trình vi phân cấp 2

$$z'' + 2z' + \cos x + 2\sin x - 2z' = \cos x$$

$$z'' = -2\sin x$$



**Bài tập****Bài tập 5.1.** Giải các phương trình vi phân dạng tách biến sau

1.  $\frac{dy}{dx} = \frac{x+1}{y}$

2.  $\frac{dy}{dx} = y$

3.  $\frac{dy}{dx} = \frac{y}{x^2}$

4.  $y' = \frac{xe^x}{2y}$

5.  $xy' = 2y$

6.  $x dx - y^3 dy = 0$

7.  $(x+1)dx - \frac{1}{y^2}dy = 0$

8.  $\frac{1}{x}dx - \frac{1}{y}dy = 0$

9.  $dx - \frac{1}{y^2 - 6y + 13}dy = 0$

10.  $\sqrt{1-y^2}dx + y\sqrt{1-x^2}dy = 0$

11.  $\frac{x}{\sqrt{1-y^2}}dy + \frac{y}{\sqrt{1-x^2}}dx = 0$

12.  $y' \cos x = y$

13.  $y' \tan x = 1 - y$

14.  $\operatorname{tg} x \sin^2 y dx + \cot y \cos^2 x dy = 0$

15.  $y' + y = 0, \quad y(1) = 1$

16.  $\sin x dx + y dy = 0, \quad y(0) = -2$

17.  $x \cos x = (e^{3y} + 2y)y', \quad y(0) = 0$

18.  $y' \sin x = y \ln y, \quad y\left(\frac{\pi}{2}\right) = 1$

19.  $y' \operatorname{tg} x = y + a, y\left(\frac{\pi}{3}\right) = a, 0 < x < \frac{\pi}{2}$

20.  $y' = e^{x+y} + e^{x-y}, \quad y(0) = 0$

21.  $\frac{dx}{x(y-1)} + \frac{dy}{y(x)+2} = 0, \quad y(1) = 1$

22.  $\frac{dL}{dt} = kL^2 \ln t, \quad L(1) = -1$

**Bài tập 5.2.** Giải các phương trình vi phân đẳng cấp sau

1.  $y' = \frac{y}{x} - 1$

2.  $y' = \frac{x}{y} + \frac{y}{x} + 1$

3.  $y' = \frac{y-x}{x}$

4.  $y' = \frac{2y+x}{x}$

5.  $y' = \frac{x+y}{x-y}$

6.  $y' = \frac{y^2+2x}{xy}$

7.  $y' = \frac{y^2+x^2}{2xy}$

8.  $y' = \frac{4xy}{y^2-x^2}$

9.  $(x + \sqrt{y^2 - xy})dy - ydx = 0$

10.  $y^2 dx + (x\sqrt{y^2 - x^2} - xy)dy = 0$

11.  $(x + \sqrt{xy})dy = ydx$

12.  $x dy - y dx = \sqrt{x^2 + y^2} dx$

13.  $x(y' + e^{\frac{y}{x}}) = y$

14.  $2ye^{\frac{x}{y}} dx + \left(y - 2xe^{\frac{x}{y}}\right) dy = 0$

15.  $xy' \ln\left(\frac{y}{x}\right) = y \ln\left(\frac{y}{x}\right) + x$

16.  $y dx + x \log \frac{y}{x} dy - 2x dy = 0$

**Bài tập 5.3.** Giải các phương trình vi phân tuyến tính cấp 1 sau

1.  $y' + 3x^2 y = 0$

2.  $y' - 3x^4 y = 0$

3.  $y' + \frac{1}{x}y = 0$

4.  $y' - \frac{2}{x^2}y = 0$

5.  $y' - 7y = 14x$

6.  $y' + y = \sin 2x$

7.  $y' - 3y = x^2$

8.  $y' - \frac{3}{x^2}y = \frac{1}{x^2}$

9.  $y' = \sin x$

10.  $y' + 2y = 3e^{-2x}$

11.  $y' + \cos x \cdot y = \frac{1}{2} \sin x$

12.  $xy' + y = x \sin x$

13.  $xy' - y = x^2 \cos x$

14.  $y' + 2xy = xe^{-x^2}$

15.  $\cos x \cdot y' + y = 1 - \sin x$

16.  $y' - y \sin x = \sin x \cdot \cos x$

17.  $y' - \frac{y}{\sin x} = x^2 \operatorname{Intg} \left( \frac{x}{2} \right)$

18.  $y' + \frac{y}{x} = 2 \ln x + 1$

19.  $y' - \frac{2y}{x+1} = e^x(x+1)^2$

20.  $\frac{dy}{dt} + 50y = 0$

21.  $\frac{dN}{dt} = kN$ ,  $k$  là hằng số.

22.  $\frac{dQ}{dt} + \frac{2}{20-t}Q = 4$

23.  $y' - \frac{y}{1-x^2} = 1+x$ ,  $y(0) = 0$

24.  $y' + 6xy = 0$ ,  $y(\pi) = 5$

25.  $y' - 2y = e^x - x$ ,  $y(0) = \frac{1}{4}$

26.  $y' + 3y \operatorname{tg} 3x = \sin 6x$ ,  $y(0) = \frac{1}{3}$

27.  $y' - \operatorname{tg} x \cdot y = \frac{1}{\cos x}$ ,  $y(0) = 0$

28.  $xy' + y = e^x$ ,  $y(1) = 2$

29.  $y' + 2xy = 2x^3$ ,  $y(0) = 1$

30.  $\frac{dv}{dt} + 2v = 32$ ,  $v(0) = 0$

31.  $\frac{dq}{dt} + qy = 4 \cos 2t$ ,  $q(0) = 1$

32.  $\frac{dN}{dt} + \frac{1}{t}N = t$ ,  $N(2) = 8$

**Bài tập 5.4.** Tìm nghiệm tổng quát của các phương trình sau

1.  $y'' - y' + y = 0$ .

2.  $y'' - y' - 2y = 0$ .

3.  $y'' - 5y = 0$ .

4.  $y'' - y' - 12y = 0$ .

5.  $y'' - 2y' + y = 0$ .

6.  $y'' + 6y' + 9y = 0$ .

7.  $y'' - 25y' = 0$ .

8.  $y'' - 25y = 0$ .

9.  $y'' + 16y = 0$ .

10.  $y'' - 7y' + 10y = 0$ .

11.  $y'' - 4y' + 20y = 0$ .

12.  $y'' - y' + \frac{1}{4}y = 0$ .

13.  $y'' - 2y' + 5y = 0$ .

14.  $y'' = 0$ .

15.  $4 \frac{d^2y}{dx^2} - 12 \frac{dy}{dx} + 9y = 0$ .

16.  $\frac{d^2N}{dt^2} - 5 \frac{dN}{dt} + 7N = 0$ .

**Bài tập 5.5.** Tìm nghiệm của các bài toán sau

1.  $y'' = 0$ ,  $y(1) = 2$ ,  $y'(1) = -1$ .

5.  $12y'' + 5y' - 2y = 0$ ,  $y(0) = 1$ ,  $y'(0) =$

2.  $y'' + 5y' + 6y = 0$ ,  $y(0) = 1$ ,  $y'(0) = -6$ .

-1.

3.  $y'' + 2y = 0$ ,  $y(3) = 0$ ,  $y'(3) = 0$ .

6.  $4y'' + 4y' + 5y = 0$ ,  $y(\pi) = 1$ ,  $y'(\pi) = 0$ .

4.  $y'' - 2y' + y = 0$ ,  $y(2) = 1$ ,  $y'(2) = 2$ .

7.  $y'' + 2y = 0$ ,  $y(3) = 0$ ,  $y'(3) = 0$ .

**Bài tập 5.6.** Tìm nghiệm tổng quát của các phương trình không thuần nhất sau

1.  $y'' - 3y' - 10y = -3$ .

7.  $y'' - y = x^2 - x + 1$ .

2.  $y'' + 3y' + 2y = 4$ .

8.  $y'' - 6y' + 9y = 2x^2 - x + 3$ .

3.  $y'' - 3y' - 10y = 2x - 3$ .

9.  $y'' - y' = x^3$ .

4.  $y'' - 2y' + y = x + 1$ .

10.  $y'' - y = e^x$ .

5.  $y'' + 2y' + y = x^2$ .

11.  $y'' - 2y' + y = 3e^{2x}$ .

6.  $y'' - 2y' + y = x^2 - 1$ .

12.  $y'' + 3y' + y = 12e^x$ .

13.  $y'' + 3y' + y = e^{ix}$ .
14.  $y'' + 3y' - 4y = e^{-x}$ .
15.  $y'' - 2y' - 8y = 10e^{-x}$ .
16.  $y'' + 3y' + 2y = e^{-2x}$ .
17.  $y'' - 2y' + y = xe^x$ .
18.  $y'' + 8y' + 16y = 2xe^{4x}$ .
19.  $y'' + y' - 2y = 3xe^x$ .
20.  $y'' - 2y' + y = e^x(x + 1)$ .
21.  $y'' - 3y' + 2y = (4 - 12x)e^x$ .
22.  $y'' - 5y' + 4y = 4x^2e^{2x}$ .
23.  $y'' - y' = \sin x$ .
24.  $y'' + y' = \cos 3x$ .
25.  $y'' - y' - 2y = 20 \cos x$ .
26.  $y'' + 2y' + y = 6 \sin 2x$ .
27.  $y'' + y = 4x \sin x$ .
28.  $y'' + 4y = x \sin 2x$ .
29.  $y'' - 3y' + 2y = x \cos x$ .
30.  $y'' + y = (x + 2) \cos x$ .
31.  $y'' + 9y = x^2 \sin x$ .
32.  $y'' + 2y' + 10y = x^2e^{-x} \cos 3x$ .
33.  $y'' - 2y' + 2y = xe^x \sin x$ .
34.  $y'' - 2y' + 2y = e^x(2 \cos x + 4x \sin x)$ .

**Bài tập 5.7.** Tìm nghiệm tổng quát của các phương trình sau

1.  $y'' - y = e^x + x^2$ .
2.  $y'' + y = 2x + 3e^x$ .
3.  $y'' + y' - 6y = x + e^{2x}$ .
4.  $y'' - 3y' = e^{3x} - 12x$ .
5.  $y'' + 2y' = x^2 - e^x$ .
6.  $y'' + 3y' + 2y = e^{-2x} + x^2$ .
7.  $y'' - 3y' + 2y = e^x - e^{2x}$ .
8.  $y'' - y = xe^{2x} + 1$ .
9.  $y'' + 3y' + 2y = e^{-x} + e^{-2x} - x$ .
10.  $y'' + y = \sin x + e^{-x}$ .
11.  $y'' - y' - 6y = e^{-x} - 7 \cos x$ .
12.  $y'' - y = \sin x + \cos 2x$ .
13.  $y'' + y = \cos x + \cos 2x$ .
14.  $y'' + y = \sin^2 x$ .
15.  $y'' + y = \sin x \sin 2x$ .
16.  $y'' - y = \cos^2 x$ .
17.  $y'' + 4y = \cos^2 x$ .
18.  $y'' + y = \sin x \cos 3x$ .

**Bài tập 5.8.** Một bể chứa 1000L nước muối với 15 kg muối hòa tan. Người ta đổ nước muối có nồng độ 0,03 kg muối/lít vào bể với tốc độ 10 lít/phút. Dung dịch nước muối tiếp tục hòa tan và được tháo ra khỏi bể với tốc độ bằng tốc độ nước đổ vào. Tính lượng muối trong bể

1. Sau t phút.
2. Sau 20 phút.

**Hướng dẫn.** Gọi  $y(t)$  là lượng muối (kg) sau  $t$  phút, ta có  $y(0) = 15$  và

$$\frac{dy}{dt} = (\text{Tốc độ muối đổ vào bể}) - (\text{Tốc độ muối chảy ra khỏi bể})$$

Trong đó

$$(\text{Tốc độ muối đổ vào bể}) = \left(0,03 \frac{\text{kg}}{\text{lít}}\right) \left(10 \frac{\text{lít}}{\text{phút}}\right) = 0,3 \frac{\text{kg}}{\text{phút}}$$

và

$$(\text{Tốc độ muối chảy ra khỏi bể}) = \left(\frac{y(t) \text{ kg}}{1000 \text{ lít}}\right) \left(10 \frac{\text{lít}}{\text{phút}}\right) = \frac{y(t) \text{ kg}}{100 \text{ phút}}$$

Suy ra

$$\frac{dy}{dt} = 0,3 - \frac{y(t)}{100}$$

Giải phương trình trên, ta được  $y(t) =$

**Bài tập 5.9.** Một bể nước chứa 1000 L nước muối với 15 kg muối hòa tan. Người ta đổ nước tinh khiết vào bể với tốc độ 10 L/phút. Dung dịch nước muối tiếp tục hòa tan và được tháo ra khỏi bể với tốc độ bằng tốc độ đổ nước vào. Tính lượng muối trong bể

1. Sau  $t$  phút.
2. Sau 15 phút.

**Bài tập 5.10.** Một cái thùng chứa 500 ga-lông bia có pha 4% cồn (tính theo thể tích). Người ta bơm bia có pha 6% cồn vào thùng với tốc độ 5 ga-lông/phút, và dung dịch hòa tan này lại được bơm ra ngoài với cùng vận tốc bơm vào. Tính phần trăm nồng độ cồn sau nửa giờ.

**Bài tập 5.11.** Một bể chứa 1000L nước tinh khiết. Người ta đổ nước muối có chứa 0,05 kg muối/L nước vào bể với vận tốc 5 L/phút, và đổ nước muối có chứa 0,04 kg muối/L nước vào bể với vận tốc 10 L/phút. Dung dịch này được hòa tan vào nhau và tháo ra khỏi bể với vận tốc 15 L/phút. Tính lượng muối trong bể

1. Sau  $t$  phút.
2. Sau 1 giờ.

**Bài tập 5.12.** Giả sử  $C(t)$  là nồng độ thuốc trong máu. Vì cơ thể đào thải thuốc nên  $C(t)$  giảm dần theo tốc độ tỉ lệ với lượng thuốc có mặt trong cơ thể. Như vậy,  $C'(t) = -kC(t)$ , trong đó  $k$  là hằng số đào thải thuốc ( $k > 0$ ).

1. Nếu  $C_0$  là nồng độ thuốc tại thời điểm  $t = 0$ , tìm nồng độ thuốc tại thời điểm  $t$ .
2. Nếu cơ thể đào thải nửa lượng thuốc trong 30 giờ, sau bao lâu thì 90% lượng thuốc bị đào thải.