

## Chương 2

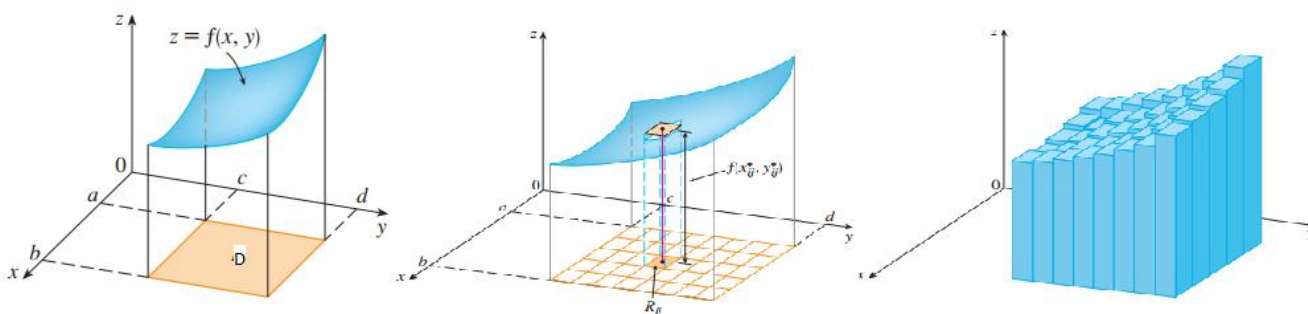
# Tích phân bội

### 2.1 Tích phân bội 2

#### 2.1.1 Ký hiệu

$$\iint_D f(x, y) dx dy,$$

trong đó:  $D \subset \mathbb{R}^2$ ,  $D$  bị chặn.



Tích phân của hàm  $f$  trên miền  $D$  chính là thể tích của hình khối  $S$  nằm dưới đồ thị hàm  $f$  và nằm trên miền  $D$ .

**Tính chất 2.1.** Ta có

- $\iint_D (f \pm g) dx dy = \iint_D f dx dy \pm \iint_D g dx dy,$
- $\iint_D c f dx dy = c \iint_D f dx dy$ , với  $c$  là hằng số,
- Nếu  $D = D_1 \cup D_2$  và  $D_1 \cap D_2 = \emptyset$ , thì
$$\iint_D f dx dy = \iint_{D_1} f dx dy + \iint_{D_2} f dx dy,$$
- Nếu  $f(x, y) \leq g(x, y)$ ,  $\forall (x, y) \in D$ , thì
$$\iint_D f dx dy \leq \iint_D g dx dy.$$

### 2.1.2 Tích phân lặp

Ta có

$$\begin{aligned}\triangleright \int_a^b \int_{g_1(x)}^{g_2(x)} f(x, y) dy dx &= \int_a^b \left( \int_{g_1(x)}^{g_2(x)} f(x, y) dy \right) dx. \\ \triangleright \int_c^d \int_{h_1(x)}^{h_2(x)} f(x, y) dx dy &= \int_c^d \left( \int_{h_1(x)}^{h_2(x)} f(x, y) dx \right) dy.\end{aligned}$$

Chú ý:

- Khi tính tích phân lặp, ta tính từ trong ra ngoài.
- $\int f(x, y) dx$ : tích phân theo  $x$ , xem  $y$  là hằng.
- $\int f(x, y) dy$ : tích phân theo  $y$ , xem  $x$  là hằng.

**Ví dụ 2.1.** Tính tích phân lặp  $\int_0^1 \int_0^2 (4 - x - y) dx dy$ .

Giải

$$\begin{aligned}\int_0^1 \int_0^2 (4 - x - y) dx dy &= \int_0^1 \left( 4x - \frac{x^2}{2} - xy \right)_{x=0}^{x=2} dy \\ &= \int_0^1 (6 - 2y) dy \\ &= (6y - y^2)_{y=0}^{y=1} \\ &= 5.\end{aligned}$$

**Ví dụ 2.2.** Tính tích phân lặp  $\int_{-2}^4 \int_0^y \frac{y^3}{x^2 + y^2} dx dy$ .

Giải

Tính tích phân bên trong theo biến  $x$ , ta có

$$\int_0^y \frac{y^3}{x^2 + y^2} dx = y^3 \int_0^y \frac{1}{x^2 + y^2} dx = y^3 \cdot \frac{1}{y} \arctg \frac{x}{y} \Big|_{x=0}^{x=y} = y^2 \left( \arctg \frac{y}{y} - \arctg \frac{0}{y} \right) = y^2 \frac{\pi}{4}.$$

Suy ra

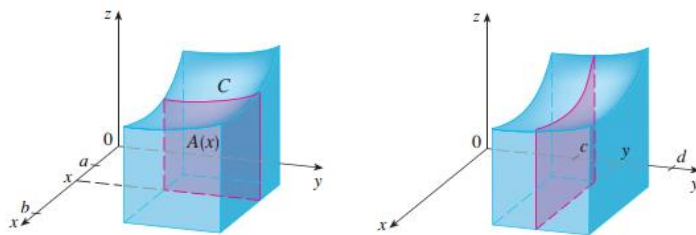
$$\int_{-2}^4 \int_0^y \frac{y^3}{x^2 + y^2} dx dy = \int_{-2}^4 \frac{\pi y^2}{4} dy = \frac{\pi y^3}{12} \Big|_{y=-2}^{y=4} = 6\pi.$$

**Định lý 2.2.** (Định lý Fubini) Nếu hàm  $f$  liên tục trên hình chữ nhật

$$D = \{(x, y) \in \mathbb{R}^2 | a \leq x \leq b, c \leq y \leq d\},$$

thì

$$\iint_D f(x, y) dx dy = \int_a^b \int_c^d f(x, y) dy dx = \int_c^d \int_a^b f(x, y) dx dy.$$



**Chú ý:** Nếu  $f(x, y) = h(x) \cdot g(y)$ , thì

$$\iint_D f(x, y) dx dy = \left( \int_a^b h(x) dx \right) \left( \int_c^d g(y) dy \right).$$

**Ví dụ 2.3.** Tính  $\iint_D (x - y)^2 dx dy$ , trong đó  $D$  là hình chữ nhật  $[0, 1] \times [0, 2]$ .

*Giải*

*Cách 1:*

$$\begin{aligned} \iint_D (x - y)^2 dx dy &= \int_0^1 \int_0^2 (x - y)^2 dy dx \\ &= \int_0^1 \left( -\frac{(x - y)^3}{3} \right)_{y=0}^{y=2} dx \\ &= \int_0^1 \left( \frac{x^3}{3} - \frac{(x - 2)^3}{3} \right) dx \\ &= \left( \frac{x^4}{12} - \frac{(x - 2)^4}{12} \right)_{x=0}^{x=1} = \frac{4}{3}. \end{aligned}$$

*Cách 2:*

$$\begin{aligned} \iint_D (x - y)^2 dx dy &= \int_0^2 \int_0^1 (x - y)^2 dx dy \\ &= \int_0^2 \left( \frac{(x - y)^3}{3} \right)_{x=0}^{x=1} dy \\ &= \frac{1}{3} \int_0^2 (1 - 3y + 3y^2) dy = \frac{4}{3}. \end{aligned}$$

*Cách 3:*

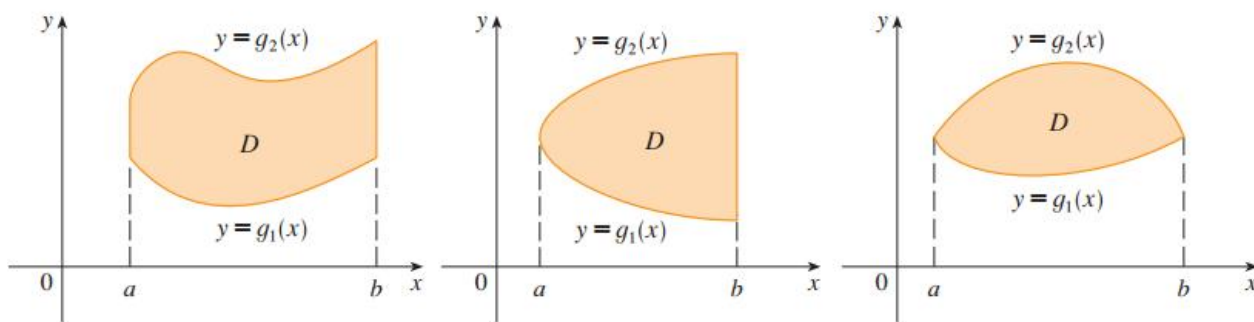
$$\begin{aligned} \iint_D (x - y)^2 dx dy &= \iint_{[0,1] \times [0,2]} x^2 dx dy - \iint_{[0,1] \times [0,2]} 2xy dx dy + \iint_{[0,1] \times [0,2]} y^2 dx dy \\ &= \left( \int_0^1 x^2 dx \right) \left( \int_0^2 dy \right) - 2 \left( \int_0^1 x dx \right) \left( \int_0^2 y dy \right) + \left( \int_0^1 dx \right) \left( \int_0^2 y^2 dy \right) \\ &= 2 \cdot \frac{1}{3} - 2 \cdot \frac{1}{2} \cdot \frac{8}{4} + 1 \cdot \frac{8}{3} = \frac{4}{3}. \end{aligned}$$

### 2.1.3 Biểu diễn miền

**A. Miền loại I:** Miền  $D$  được gọi là miền loại 1 nếu nó nằm giữa đồ thị của hai hàm liên tục theo biến  $x$ , nghĩa là

$$D = \{(x, y) \in \mathbb{R}^2 | a \leq x \leq b, g_1(x) \leq y \leq g_2(x)\}$$

trong đó,  $g_1, g_2$  là hai hàm liên tục trên đoạn  $[a, b]$ .



Nếu hàm  $f$  liên tục trên miền loại 1  $D$ , thì

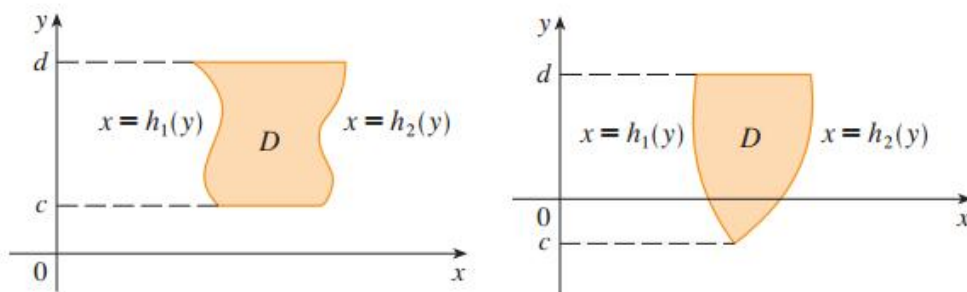
$$\iint_D f(x, y) dx dy = \int_a^b \int_{g_1(x)}^{g_2(x)} f(x, y) dy dx.$$

*Chú ý:* miền loại 1 nhìn theo hướng Oy.

**B. Miền loại II:** Miền  $D$  được gọi là miền loại 2 nếu nó nằm giữa đồ thị của hai hàm liên tục theo biến  $y$ , nghĩa là

$$D = \{(x, y) \in \mathbb{R}^2 | c \leq y \leq d, h_1(y) \leq x \leq h_2(y)\}$$

trong đó,  $h_1, h_2$  là hai hàm liên tục trên đoạn  $[c, d]$ .



Nếu hàm  $f$  liên tục trên miền loại 2  $D$ , thì

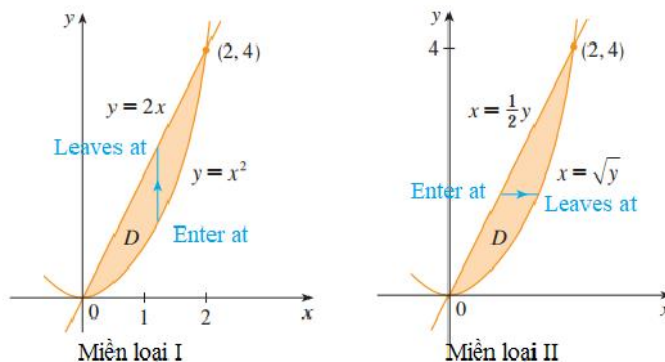
$$\iint_D f(x, y) dx dy = \int_c^d \int_{h_1(y)}^{h_2(y)} f(x, y) dx dy.$$

*Chú ý:* miền loại 2 nhìn theo hướng Ox.

**Ví dụ 2.4.** Tính tích phân  $\iint_D (2x + y) dx dy$ , trong đó  $D$  là miền giới hạn bởi các đường  $y = 2x$  và  $y = x^2$ .

*Giải*

Phương trình hoành độ giao điểm:  $2x = x^2 \Leftrightarrow x = 0 \vee x = 2$ .



*Cách 1:* Viết  $D$  theo dạng miền loại I:  $D = \{(x, y) \mid 0 \leq x \leq 2, x^2 \leq y \leq 2x\}$ .

Ta có

$$\begin{aligned} \iint_D (2x + y) dx dy &= \int_0^2 \int_{x^2}^{2x} (2x + y) dy dx \\ &= \int_0^2 \left( 2xy + \frac{y^2}{2} \right)_{y=x^2}^{y=2x} dx \\ &= \int_0^2 \left( 6x^2 - 2x^3 - \frac{x^4}{2} \right) dx \\ &= \left( -\frac{x^4}{2} + 2x^3 - \frac{x^5}{10} \right)_{x=0}^{x=2} \\ &= \frac{24}{5}. \end{aligned}$$

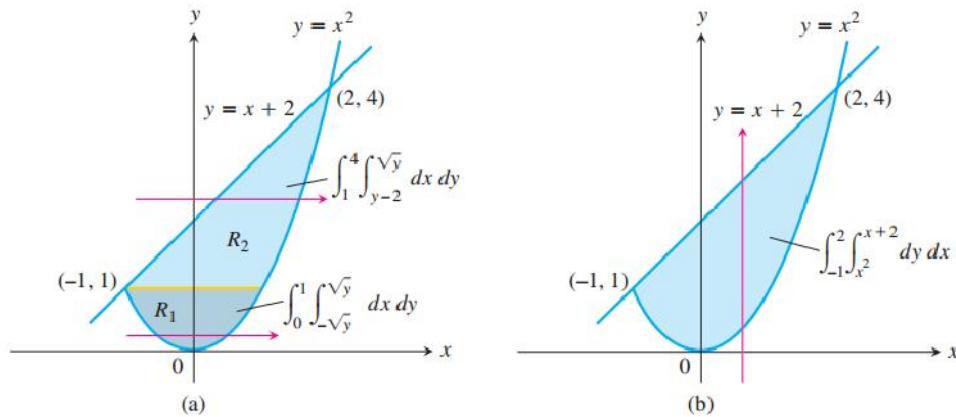
*Cách 2:* Viết  $D$  theo dạng miền loại II:  $D = \{(x, y) \mid 0 \leq y \leq 4, \frac{y}{2} \leq x \leq \sqrt{y}\}$ .

Ta có

$$\begin{aligned} \iint_D (2x + y) dx dy &= \int_0^4 \int_{\frac{y}{2}}^{\sqrt{y}} (2x + y) dx dy \\ &= \int_0^4 \left( x^2 + xy \right)_{x=\frac{y}{2}}^{x=\sqrt{y}} dy \\ &= \int_0^4 \left( y - \frac{3}{4}y^3 + y\sqrt{y} \right) dy \\ &= \left( \frac{y^2}{2} - \frac{y^3}{4} + \frac{2y^{\frac{5}{2}}}{5} \right)_{y=0}^{y=4} = \frac{24}{5}. \end{aligned}$$

**Ví dụ 2.5.** Tính diện tích miền  $D$  giới hạn bởi parabol  $y = x^2$  và đường thẳng  $y = x + 2$ .

*Giải*



**Cách 1:** Viết  $D$  theo dạng miền loại I:  $D = \{(x, y) \mid -1 \leq x \leq 2, x^2 \leq y \leq x + 2\}$ .

Ta có

$$\begin{aligned} \iint_D dx dy &= \int_{-1}^2 \int_{x^2}^{x+2} 1 dy dx = \int_{-1}^2 (y)_{x^2}^{x+2} dx \\ &= \int_{-1}^2 (x + 2 - x^2) dx \\ &= \left( \frac{x^2}{2} + 2x - \frac{x^3}{3} \right)_{-1}^2 \\ &= \frac{9}{2}. \end{aligned}$$

**Cách 2:** Viết  $D$  theo dạng miền loại II:  $D = D_1 \cup D_2$ , trong đó

$$D_1 = \{(x, y) \mid 0 \leq y \leq 1, -\sqrt{y} \leq x \leq \sqrt{y}\},$$

$$D_2 = \{(x, y) \mid 1 \leq y \leq 4, y - 2 \leq x \leq \sqrt{y}\}.$$

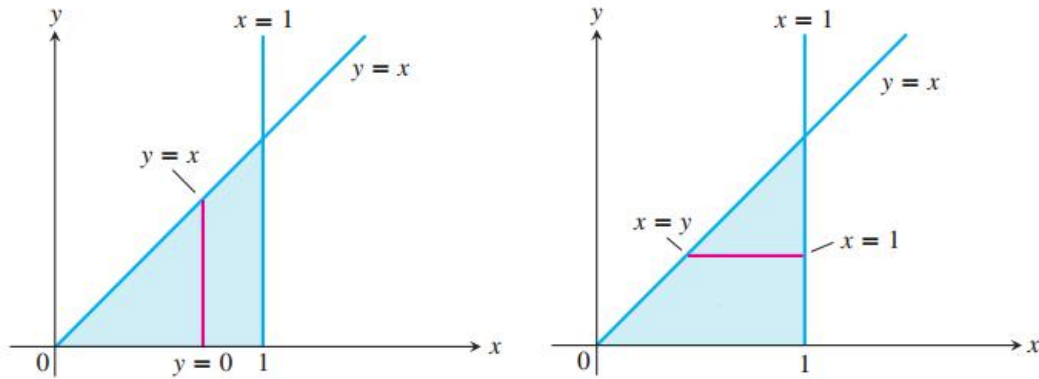
Ta có

$$\begin{aligned} \iint_D dx dy &= \iint_{D_1} dx dy + \iint_{D_2} dx dy \\ &= \int_0^1 \int_{-\sqrt{y}}^{\sqrt{y}} 1 dx dy + \int_1^4 \int_{y-2}^{\sqrt{y}} 1 dx dy \\ &= \int_0^1 (x)_{x=-\sqrt{y}}^{x=\sqrt{y}} dy + \int_1^4 (x)_{x=y-2}^{x=\sqrt{y}} dy \\ &= \int_0^1 2\sqrt{y} dy + \int_1^4 (\sqrt{y} - y + 2) dy \\ &= \left( \frac{2}{3} x^{\frac{3}{2}} \right)_0^1 + \left( \frac{2}{3} x^{\frac{3}{2}} - \frac{1}{2} x^2 + 2x \right)_1^4 \\ &= \frac{9}{2}. \end{aligned}$$

**Nhận xét:** trong bài này nên chọn cách 1.

**Ví dụ 2.6.** Tính  $\iint_D e^{-x^2} dx dy$ , trong đó  $D$  là miền giới hạn bởi  $x = 1, y = 0, y = x$ .

*Giải*



*Cách 1:* Viết  $D$  theo dạng miền loại I:  $D = \{(x, y) | 0 \leq x \leq 1, 0 \leq y \leq x\}$

Ta có

$$\iint_D e^{-x^2} dx dy = \int_0^1 \int_0^x e^{-x^2} dy dx = \int_0^1 \left( ye^{-x^2} \right)_{y=0}^{y=x} dx = \int_0^1 xe^{-x^2} dx = \frac{1}{2} - \frac{1}{2e}.$$

*Cách 2:* Viết  $D$  theo dạng miền loại II:  $D = \{(x, y) | 0 \leq y \leq 1, y \leq x \leq 1\}$

Ta có

$$\iint_D e^{-x^2} dx dy = \int_0^1 \int_y^1 e^{-x^2} dx dy \quad \text{không tính được. !!!}$$

*Nhận xét:* không phải bài nào ta cũng giải được bằng 2 cách.

## 2.1.4 Phương pháp đổi biến tổng quát

Dấu hiệu: miền lấy tích phân, hoặc hàm lấy tích phân phức tạp.

**Bước 1:** đặt

$$\begin{cases} u = u(x, y) \\ v = v(x, y) \end{cases} (*)$$

**Bước 2:** đổi miền từ  $D_{xy} \Rightarrow D_{uv}$  (tìm điều kiện của  $u, v$ )

**Bước 3:** tính  $|J|$  (trị tuyệt đối), với  $J = \frac{\partial(x, y)}{\partial(u, v)} = \underbrace{\begin{vmatrix} \frac{\partial x}{\partial u} & \frac{\partial x}{\partial v} \\ \frac{\partial y}{\partial u} & \frac{\partial y}{\partial v} \end{vmatrix}}_{\text{định thức}} \neq 0.$

Cách 1: Từ (\*)  $\Rightarrow \begin{cases} x = x(u, v) \\ y = y(u, v) \end{cases} \Rightarrow \frac{\partial(x, y)}{\partial(u, v)}.$

Cách 2: từ (\*)  $\Rightarrow \frac{\partial(u, v)}{\partial(x, y)} = \underbrace{\begin{vmatrix} \frac{\partial u}{\partial x} & \frac{\partial u}{\partial y} \\ \frac{\partial v}{\partial x} & \frac{\partial v}{\partial y} \end{vmatrix}}_{\text{định thức}} \neq 0 \Rightarrow \frac{\partial(x, y)}{\partial(u, v)} = \frac{1}{\frac{\partial(u, v)}{\partial(x, y)}}.$

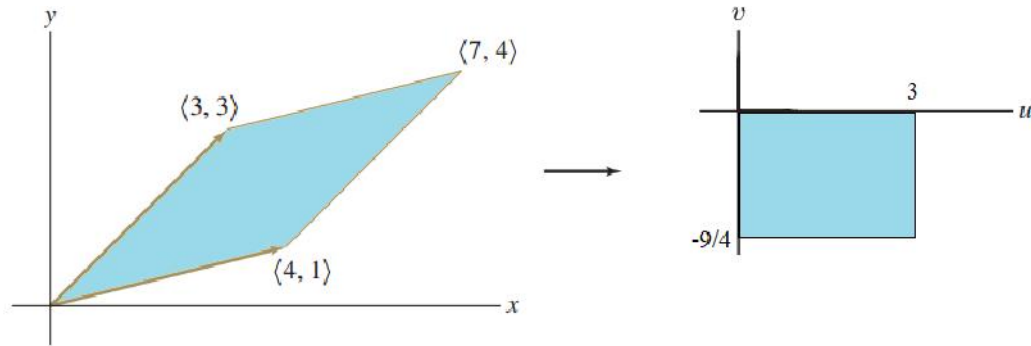
**Bước 4:** áp dụng công thức

$$\iint_{D_{xy}} f(x, y) dx dy = \iint_{D_{uv}} f(x(u, v), y(u, v)) \cdot |J| \cdot du dv$$

**Ví dụ 2.7.** Tính tích phân  $\iint_D e^{4x-y} dx dy$ , trong đó  $D$  là hình bình hành tạo bởi 2 vectơ

$$\vec{a} = (3, 3); \vec{b} = (4, 1).$$

*Giải*



Phương trình các đường của hình bình hành.

$$y = x; \quad y = x - 3; \quad y = \frac{1}{4}x; \quad y = \frac{1}{4}x + \frac{9}{4}$$

*Nhận xét:*

- Nếu viết  $D$  theo miền loại I, ta phải tách  $D$  thành 3 miền.
- Nếu viết  $D$  theo miền loại II ta phải tách  $D$  thành 2 miền  $\Rightarrow$  dài.
- Nhìn vào phương trình đường (của miền), ta thấy có 2 yếu tố  $(x - y)$  và  $(\frac{1}{4}x - y)$  được

lắp lại  $\Rightarrow$  dấu hiệu đổi biến.

$$\text{Đặt } \begin{cases} u = x - y \\ v = \frac{1}{4}x - y \end{cases} \quad (*)$$

Ta có

$$\left. \begin{aligned} x - y = 0 &\Rightarrow u = 0 \\ x - y = 3 &\Rightarrow u = 3 \end{aligned} \right\} \Rightarrow 0 \leq u \leq 3,$$

$$\left. \begin{aligned} \frac{1}{4}x - y = 0 &\Rightarrow v = 0 \\ \frac{1}{4}x - y = -\frac{9}{4} &\Rightarrow v = -\frac{9}{4} \end{aligned} \right\} \Rightarrow -\frac{9}{4} \leq v \leq 0.$$

$$\text{Suy ra } D = \left\{ (u, v) \mid 0 \leq u \leq 3, -\frac{9}{4} \leq v \leq 0 \right\}$$

Ta lại có

$$\begin{cases} u = x - y \\ v = \frac{1}{4}x - y \end{cases} \Rightarrow \begin{cases} x = \frac{4}{3}u - \frac{4}{3}v \\ y = \frac{1}{3}u - \frac{4}{3}v \end{cases}$$

$$\Rightarrow J = \frac{\partial(x, y)}{\partial(u, v)} = \begin{vmatrix} \frac{\partial x}{\partial u} & \frac{\partial x}{\partial v} \\ \frac{\partial y}{\partial u} & \frac{\partial y}{\partial v} \end{vmatrix} = \begin{vmatrix} \frac{4}{3} & -\frac{4}{3} \\ \frac{1}{3} & -\frac{4}{3} \end{vmatrix} = -\frac{4}{3} \neq 0.$$

$$\text{Suy ra } |J| = \frac{4}{3}$$

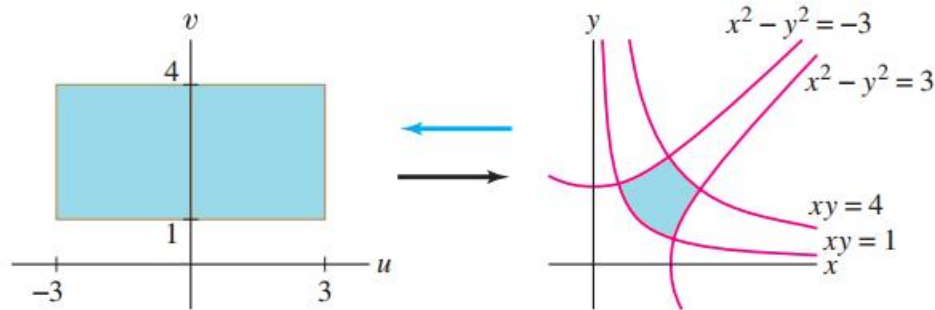


Vậy

$$\begin{aligned}
 \iint_{D_{xy}} e^{4x-y} dx dy &= \iint_{D_{uv}} e^{4\left(\frac{4}{3}u - \frac{4}{3}v\right) - \left(\frac{1}{3}u - \frac{4}{3}v\right)} \cdot \frac{4}{3} du dv \\
 &= \frac{4}{3} \iint_{D_{uv}} e^{5u-4v} du dv \\
 &= \frac{4}{3} \int_0^3 \int_{-9/4}^0 e^{5u-4v} dv du \\
 &= \dots = \frac{1}{15} (e^{15} - 1) (e^9 - 1).
 \end{aligned}$$

**Ví dụ 2.8.** Tính tích phân  $\iint_D xy(x^2 + y^2) dx dy$ , trong đó  $D = -3 \leq x^2 - y^2 \leq 3; 1 \leq xy \leq 4$ .

*Giải*




Dành cho Sinh viên.

**Ví dụ 2.9.** Tính  $\iint_D e^{\frac{x-y}{x+y}} dx dy$ , trong đó  $D$  là miền xác định bởi  $x \geq 0, y \geq 0, x + y \leq 1$ .

*Nhận xét.* Ta thấy hàm bên trong dấu tích phân có 2 lượng  $(x - y)$  và  $(x + y)$  gây khó khăn cho việc lấy nguyên hàm  $\Rightarrow$  dấu hiệu đổi biến.

*Giải*



Đặt  $\begin{cases} u = x - y \\ v = x + y \end{cases} (*)$

Ta có

$$Ox : y = 0, \text{ từ } (*) \Rightarrow \begin{cases} u = x \\ v = x \end{cases} \Rightarrow u = v.$$

$$Oy : x = 0, \text{ từ } (*) \Rightarrow \begin{cases} u = -y \\ v = y \end{cases} \Rightarrow u = -v.$$

$$x + y = 1 \Rightarrow v = 1.$$

$$\text{Vậy } D_{uv} = \{(u, v) \mid 0 \leq v \leq 1, -v \leq u \leq v\}.$$

$$\text{Từ } (*), \text{ ta có } \begin{cases} x = \frac{u+v}{2} \\ y = \frac{v-u}{2} \end{cases}, \text{ suy ra}$$

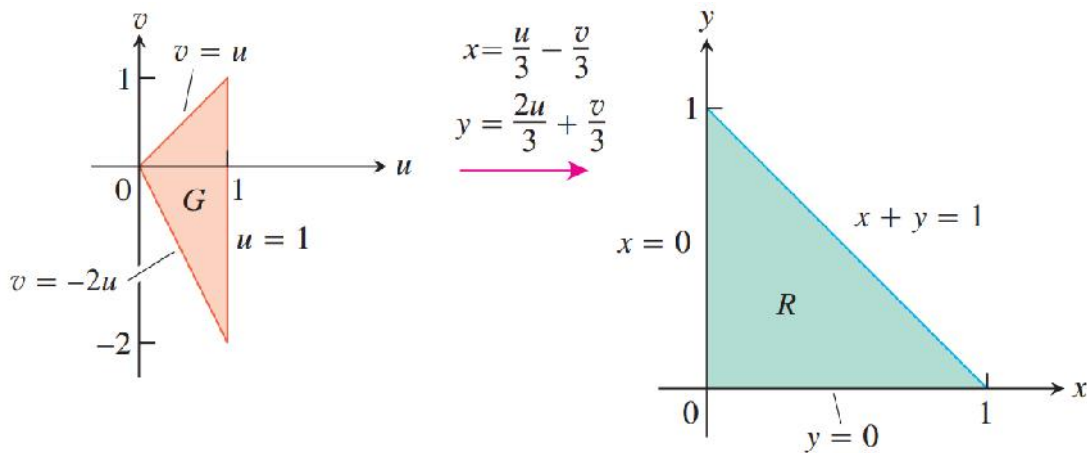
$$J = \frac{\partial(x, y)}{\partial(u, v)} = \begin{vmatrix} \frac{1}{2} & \frac{1}{2} \\ \frac{1}{2} & -\frac{1}{2} \end{vmatrix} = -\frac{1}{2} \Rightarrow |J| = \frac{1}{2}.$$

Vậy

$$\iint_D e^{\frac{x-y}{x+y}} dx dy = \iint_{D_{uv}} e^{\frac{u}{v}} \cdot \frac{1}{2} du dv = \frac{1}{2} \int_0^1 \int_{-v}^v e^{\frac{u}{v}} du dv = \frac{1}{2} (e - e^{-1}) \int_0^1 v dv = \frac{1}{4} (e - e^{-1}).$$

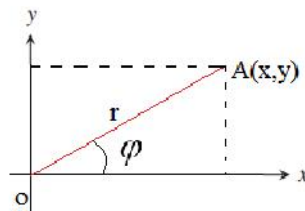
**Ví dụ 2.10.** Tính tích phân  $\int_0^1 \int_0^{1-x} \sqrt{x+y} (y-2x)^2 dy dx.$

*Giải*



### 2.1.5 Đổi biến trong tọa độ cực

Dấu hiệu: miền có "dạng" tròn (có  $x^2 + y^2$ ) hoặc elip ( $\frac{x^2}{a^2} + \frac{y^2}{b^2}$ ).



**Bước 1:** Đặt  $\begin{cases} x = r \cos \varphi \\ y = r \sin \varphi \end{cases}$

**Bước 2:** đổi miền  $D_{xy} \Rightarrow D_{r\varphi}$

$\varphi$ : "quét" miền.

$r$ : tìm  $r$  vào, ra miền.

**Bước 3:**  $|J| = r$ .

**Bước 4:**

$$\iint_{D_{xy}} f(x, y) dx dy = \iint_{D_{r\varphi}} f(r \cos \varphi, r \sin \varphi) \cdot r \cdot dr d\varphi. \quad (2.1)$$

*Chú ý:*

1. Với đường tròn tâm  $I(a, b) \neq O(0, 0)$ :  $(x - a)^2 + (y - b)^2 = r^2$ , ta đặt

$$\begin{cases} x = a + r \cos \varphi \\ y = b + r \sin \varphi \end{cases}$$

khi đó  $|J| = r$  và  $r, \varphi$  xác định theo góc  $I(a, b)$ .

2. Với miền elip:  $\frac{x^2}{a^2} + \frac{y^2}{b^2} = 1$ , ta đặt

$$\begin{cases} x = ar \cos \varphi \\ y = br \sin \varphi \end{cases}$$

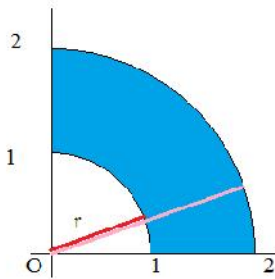
khi đó  $|J| = abr$ .

3. Trong công thức 2.1 các cận của tích phân ở bên trong nói chung là hàm số của  $\varphi$ , các cận này chỉ là hằng số khi miền lấy tích phân là hình quạt tròn hoặc hình tròn, hay hình vành khăn giới hạn bởi các đường tròn đồng tâm. Thực chất việc tìm cận trong công thức 2.1 là nhằm quét hết miền  $D$ .

4. Khi thay  $\begin{cases} x = r \cos \varphi \\ y = r \sin \varphi \end{cases}$  vào phương trình liên hệ giữa  $x, y$  ta được phương trình liên hệ giữa  $r, \varphi$ .

**Ví dụ 2.11.** Tính  $\iint_D (3x + 4y^2) dx dy$ , trong đó  $D$  là miền giới hạn bởi  $x^2 + y^2 = 1, x^2 + y^2 = 4$  và nằm trong góc phần tư thứ nhất.

*Giải*



Ta có  $D_{xy} = \{(x, y) \mid x, y \geq 0; 1 \leq x^2 + y^2 \leq 2\}$ .

$$\text{Đặt } \begin{cases} x = r \cos \varphi \\ y = r \sin \varphi \end{cases}$$

Ta có

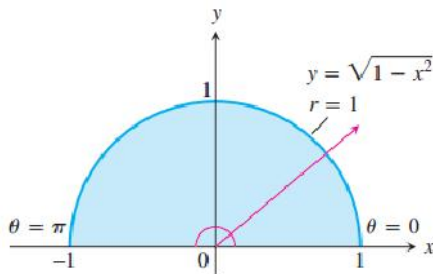
$$\begin{aligned} & \bullet |J| = r, \\ & \bullet D_{r\varphi} = \left\{ (r, \varphi) \mid 0 \leq \varphi \leq \frac{\pi}{2}, 1 \leq r \leq 2 \right\}. \end{aligned}$$

Vậy

$$\begin{aligned}
\iint_{D_{xy}} (3x + 4y^2) dx dy &= \iint_{D_{r\varphi}} (3r \cos \varphi + 4r^2 \sin^2 \varphi) \cdot r \cdot dr d\varphi \\
&= \int_0^{\frac{\pi}{2}} \int_1^2 (3r^2 \cos \varphi + 4r^3 \sin^2 \varphi) dr d\varphi \\
&= \int_0^{\frac{\pi}{2}} \left( r^3 \cos \varphi + r^4 \sin^2 \varphi \right)_{r=1}^{r=2} d\varphi \\
&= \int_0^{\frac{\pi}{2}} (7 \cos \varphi + 15 \sin^2 \varphi) d\varphi \\
&= \left( 7 \sin \varphi + \frac{15\varphi}{2} - \frac{15}{4} \sin 2\varphi \right)_0^{\frac{\pi}{2}} = 7 + \frac{15}{4} \pi.
\end{aligned}$$

**Ví dụ 2.12.** Tính tích phân  $\iint_D \frac{1}{\sqrt{1+x^2+y^2}} dx dy$  với  $D$  là nửa trên hình tròn đơn vị.

*Giải*



Ta có  $D_{xy} = \{(x, y) \mid y \geq 0; x^2 + y^2 \leq 1\}$ .

Đặt  $\begin{cases} x = r \cos \varphi \\ y = r \sin \varphi \end{cases}$

Ta có

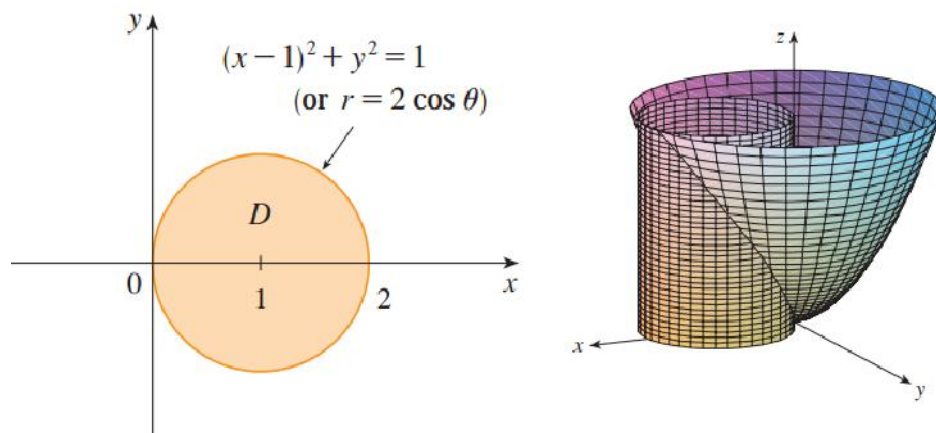
- $|J| = r$ ,
- $D_{r\varphi} = \{(r, \varphi) \mid 0 \leq \varphi \leq \pi, 0 \leq r \leq 1\}$ .

Vậy

$$\begin{aligned}
\iint_{D_{xy}} \frac{1}{\sqrt{1+x^2+y^2}} dx dy &= \iint_{D_{r\varphi}} \frac{1}{\sqrt{1+r^2}} \cdot r \cdot dr d\varphi \\
&= \int_0^{\pi} \int_0^1 \frac{r}{\sqrt{1+r^2}} dr d\varphi \\
&= \left( \int_0^{\pi} d\varphi \right) \left( \int_0^1 \frac{r}{\sqrt{1+r^2}} dr \right) \\
&= (\varphi|_0^{\pi}) \cdot \left( \sqrt{1+r^2} \Big|_0^1 \right) \\
&= \pi (\sqrt{2} - 1).
\end{aligned}$$

**Ví dụ 2.13.** Tính tích phân  $\iint_D (x^2 + y^2) dx dy$ , với  $D$  là hình tròn  $x^2 + y^2 = 2x$ .

Giải



Ta có  $D_{xy} = \{(x, y) \mid x^2 + y^2 = 2x\} = \{(x, y) \mid (x-1)^2 + y^2 = 1\}$ .

Cách 1:

Đặt  $\begin{cases} x = r \cos \varphi \\ y = r \sin \varphi \end{cases} \quad (*)$

Ta có

- $|J| = r$ ,
- $-\frac{\pi}{2} \leq \varphi \leq \frac{\pi}{2}$

thay (\*) vào  $x^2 + y^2 = 2x$ , ta có

$$r^2 \cos^2 \varphi + r^2 \sin^2 \varphi = 2r \cos \varphi$$

$$r^2 = 2r \cos \varphi$$

$$r = 2 \cos \varphi.$$

$$\Rightarrow D_{r\varphi} = \left\{ (r, \varphi) \mid -\frac{\pi}{2} \leq \varphi \leq \frac{\pi}{2}, 0 \leq r \leq 2 \cos \varphi \right\}.$$

Vậy

$$\begin{aligned} \iint_{D_{xy}} (x^2 + y^2) dx dy &= \iint_{D_{r\varphi}} r^2 \cdot r \cdot dr d\varphi = \int_{-\frac{\pi}{2}}^{\frac{\pi}{2}} \int_0^{2 \cos \varphi} r^3 dr d\varphi \\ &= 4 \int_{-\frac{\pi}{2}}^{\frac{\pi}{2}} \cos^4 \varphi d\varphi = \frac{3}{2} \pi. \end{aligned}$$

Cách 2:

Đặt  $\begin{cases} x = 1 + r \cos \varphi \\ y = r \sin \varphi \end{cases} \quad (*)$

Ta có

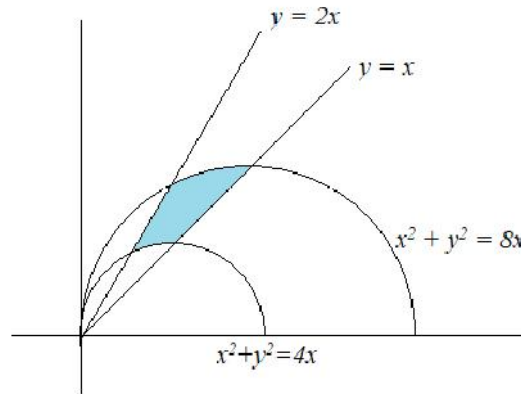
- $|J| = r$ ,
- $D_{r\varphi} = \{(r, \varphi) \mid 0 \leq \varphi \leq 2\pi, 0 \leq r \leq 1\}$ .

Vậy

$$\begin{aligned} \iint_{D_{xy}} (x^2 + y^2) dx dy &= \iint_{D_{r\varphi}} ((1 + r \cos \varphi)^2 + r^2 \sin^2 \varphi) \cdot r \cdot dr d\varphi \\ &= \int_0^{2\pi} \int_0^1 (r + 2r^2 \cos \varphi + r^3) dr d\varphi = \frac{3}{2} \pi. \end{aligned}$$

**Ví dụ 2.14.** Tính tích phân  $\iint_D dx dy$ , biết  $D$  là miền giới hạn bởi các đường tròn  $x^2 + y^2 = 4x$ ,  $x^2 + y^2 = 8x$  và các đường thẳng  $y = x$ ,  $y = 2x$ .

*Giải*



Đặt  $\begin{cases} x = r \cos \varphi \\ y = r \sin \varphi \end{cases} \quad (*)$

Tìm  $r$ , ta có

$$\begin{aligned} x^2 + y^2 &= 4x \\ r^2 \cos^2 \varphi + r^2 \sin^2 \varphi &= 4r \cos \varphi \\ r^2 (\cos^2 \varphi + \sin^2 \varphi) &= 4r \cos \varphi \\ r &= 4 \cos \varphi \end{aligned}$$

và

$$\begin{aligned} x^2 + y^2 &= 8x \\ r^2 \cos^2 \varphi + r^2 \sin^2 \varphi &= 8r \cos \varphi \\ r^2 (\cos^2 \varphi + \sin^2 \varphi) &= 8r \cos \varphi \\ r &= 8 \cos \varphi \end{aligned}$$

Tìm  $\varphi$ , ta có

$$y = x \Rightarrow r \sin \varphi = r \cos \varphi \Rightarrow \tan \varphi = 1 \Rightarrow \varphi = \frac{\pi}{4},$$

$$y = 2x \Rightarrow r \sin \varphi = 2r \cos \varphi \Rightarrow \tan \varphi = 2 \Rightarrow \varphi = \arctan 2.$$

Suy ra  $D = \left\{ (r, \varphi) \mid \frac{\pi}{4} \leq \varphi \leq \arctan 2, 4 \cos \varphi \leq r \leq 8 \cos \varphi \right\}$

Vậy

$$\iint_D dx dy = \int_{\frac{\pi}{4}}^{\arctan 2} \int_{4 \cos \varphi}^{8 \cos \varphi} r \cdot dr d\varphi = 4 \cos(x) \left( \arctan(2) - \frac{\pi}{4} \right).$$

## 2.1.6 Ứng dụng của tích phân bội 2

### A. Tính diện tích hình phẳng $D \subset \mathbb{R}^2$

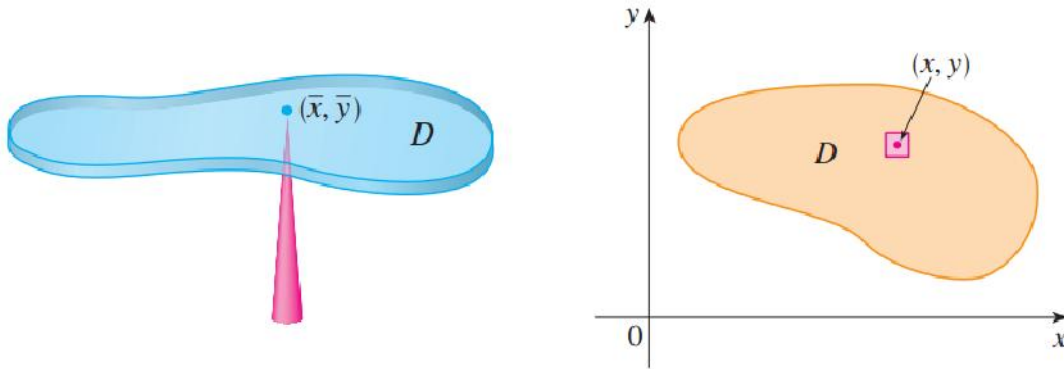
$$S = \iint_D 1 \cdot dx dy.$$

### B. Tính diện tích mặt cong $S \subset \mathbb{R}^3$

Cho mặt cong  $S : z = z(x, y), (x, y) \in D \subset \mathbb{R}^2$ , khi đó

$$S = \iint_D \sqrt{1 + \left(z'_x\right)^2 + \left(z'_y\right)^2} dx dy.$$

### C. Ứng dụng cơ học



Cho bản phẳng mỏng  $D \subset \mathbb{R}^2$ , có khối lượng riêng là  $\rho(x, y)$ , ta có

Khối lượng bản  $D : m = \iint_D \rho(x, y) dx dy,$

Tọa độ trọng tâm  $G(x_G, y_G)$ : 
$$\begin{cases} x_G = \frac{1}{m} \iint_D x \rho(x, y) dx dy \\ y_G = \frac{1}{m} \iint_D y \rho(x, y) dx dy \end{cases}$$

Momen tĩnh đối với trục Ox:  $M_x = \iint_D y \rho(x, y) dx dy,$

Momen tĩnh đối với trục Oy:  $M_y = \iint_D x \rho(x, y) dx dy,$

Momen quán tính quay quanh trục Ox:  $I_x = \iint_D y^2 \rho(x, y) dx dy,$

Momen quán tính quay quanh trục Oy:  $I_y = \iint_D x^2 \rho(x, y) dx dy,$

Momen quán tính đối với gốc O:  $I_O = \iint_D (x^2 + y^2) \rho(x, y) dx dy.$

**Ví dụ 2.15.** Tính diện tích của miền  $D$  giới hạn bởi parabol  $y^2 = 2x$  và đường thẳng  $y = x - 4$ .

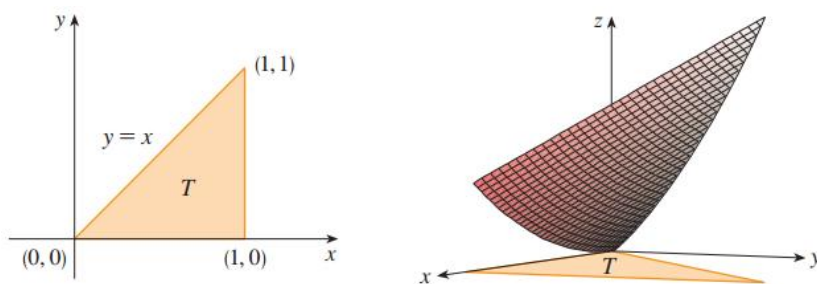
*Giải*

Ta có  $D = \left\{ (x, y) \mid -2 \leq y \leq 4, \frac{y^2}{2} \leq x \leq y + 4 \right\}.$

Suy ra  $S_D = \iint_D 1 dx dy = \int_{-2}^4 \int_{\frac{y^2}{2}}^{y+4} 1 dx dy = \dots = 18.$

**Ví dụ 2.16.** Tính diện tích của một phần mặt phẳng  $z = x^2 + 2y$  nằm trên tam giác  $T$  trong mặt phẳng Oxy với các đỉnh là  $(0, 0)$ ,  $(1, 0)$ ,  $(1, 1)$ .

*Giải*



Ta có:

- $T = \{(x, y) | 0 \leq x \leq 1; 0 \leq y \leq x\}$
- $f(x, y) = x^2 + 2y \Rightarrow \begin{cases} f_x = 2x \\ f_y = 2 \end{cases}$

Suy ra

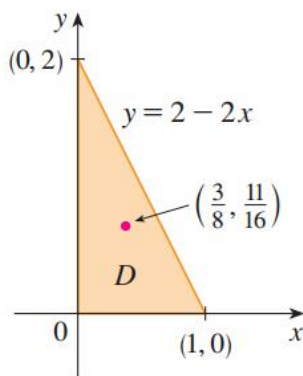
$$\begin{aligned} A &= \iint_T \sqrt{(2x)^2 + (2)^2 + 1} dx dy = \int_0^1 \int_0^x \sqrt{4x^2 + 5} dy dx \\ &= \int_0^1 x \sqrt{4x^2 + 5} dx = \frac{1}{8} \cdot \frac{2}{3} (4x^2 + 5)^{\frac{3}{2}} \Big|_0^1 = \frac{1}{12} (27 - 5\sqrt{5}). \end{aligned}$$

**Ví dụ 2.17.** Một bản phẳng  $D$  hình tam giác có các đỉnh  $(0, 0)$ ,  $(1, 0)$  và  $(0, 2)$  và khối lượng riêng là  $\rho(x, y) = 1 + 3x + y$ .

Tìm

1. Khối lượng và tâm của bản.
2. Momen tĩnh, momen quán tính quay quanh trục Ox.

*Giải*



$$\begin{aligned} m &= \iint_D \rho(x, y) dx dy = \int_0^1 \int_0^{2-2x} (1 + 3x + y) dy dx \\ &= 4 \int_0^1 (1 - x^2) dx = \frac{8}{3} \end{aligned}$$



$$x_G = \frac{1}{m} \iint_D x \rho(x, y) dx dy = \frac{3}{8} \int_0^1 \int_0^{2-2x} (x + 3x^2 + yx) dy dx = \dots = \frac{3}{8}.$$

$$y_G = \frac{1}{m} \iint_D y \rho(x, y) dx dy = \frac{3}{8} \int_0^1 \int_0^{2-2x} (y + 3xy + y^2) dy dx = \dots = \frac{11}{6}.$$

## 2.2 Tích phân bội ba

### 2.2.1 Ký hiệu

$$\iiint_{\Omega} f(x, y, z) dx dy dz,$$

trong đó:  $\Omega \subset \mathbb{R}^3$ ,  $\Omega$  bị chặn.

**Định lý 2.3.** (Định lý Fubini) Nếu  $f$  liên tục trên hình hộp chữ nhật  $B = [a, b] \times [c, d] \times [r, s]$ , thì

$$\iiint_B f(x, y, z) dx dy dz = \int_r^s \int_c^d \int_a^b f(x, y, z) dx dy dz.$$

$$\text{Chú ý: } \int_r^s \int_c^d \int_a^b h(x) g(y) k(z) dx dy dz = \left( \int_a^b h(x) dx \right) \left( \int_c^d g(y) dy \right) \left( \int_r^s k(z) dz \right).$$

**Ví dụ 2.18.** Tính  $\iiint_B xyz^2 dx dy dz$  trong đó  $B$  là hình hộp chữ nhật  
 $B = \{(x, y, z) | 0 \leq x \leq 1, -1 \leq y \leq 2, 0 \leq z \leq 3\}.$

*Giải*

$$\begin{aligned} \iiint_B xyz^2 dx dy dz &= \int_0^3 \int_{-1}^2 \int_0^1 xyz^2 dx dy dz = \int_0^3 \int_{-1}^2 \left[ \frac{x^2 y z^2}{2} \right]_{x=0}^{x=1} dy dz \\ &= \int_0^3 \int_{-1}^2 \frac{y z^2}{2} dy dz \\ &= \int_0^3 \left[ \frac{y^2 z^2}{4} \right]_{y=-1}^{y=2} dz = \int_0^3 \frac{3z^2}{4} dz \\ &= \frac{27}{4}. \end{aligned}$$

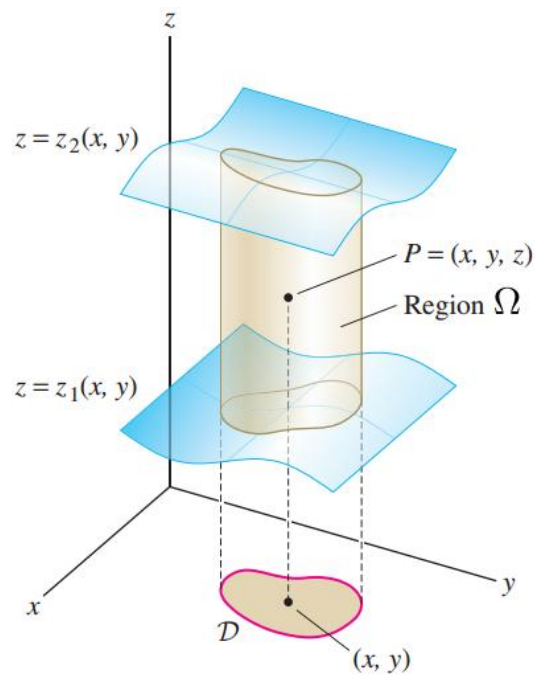
### 2.2.2 Biểu diễn miền

#### A. Miền loại I (nhìn theo hướng Oz)

Miền  $\Omega$  được gọi là miền loại 1 nếu nó nằm giữa đồ thị của 2 hàm liên tục của biến  $x, y$

$$\Omega = \{(x, y, z) | (x, y) \in D, z_1(x, y) \leq z \leq z_2(x, y)\}$$

trong đó,  $D$  là miền trong mặt phẳng  $Oxy$



Khi đó

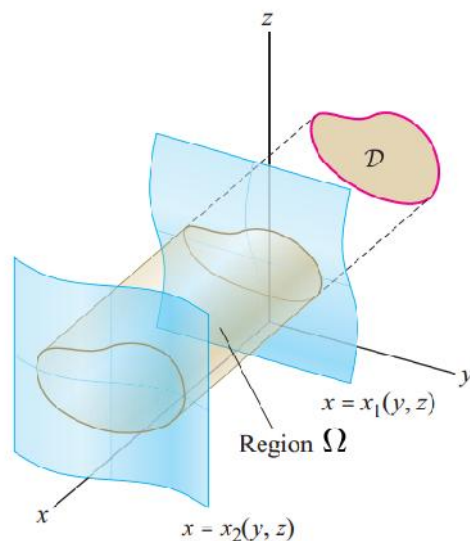
$$\iiint_{\Omega} f(x, y, z) dx dy dz = \iint_D \int_{z_1(x, y)}^{z_2(x, y)} f(x, y, z) dz dx dy.$$

### B. Miền loại II (nhìn theo hướng Ox)

Miền  $\Omega$  được gọi là miền loại 2 nếu nó nằm giữa đồ thị của 2 hàm liên tục của biến  $y, z$

$$\Omega = \{(x, y, z) \mid (y, z) \in D, x_1(y, z) \leq x \leq x_2(y, z)\}$$

trong đó,  $D$  là miền trong mặt phẳng  $Oyz$



Khi đó

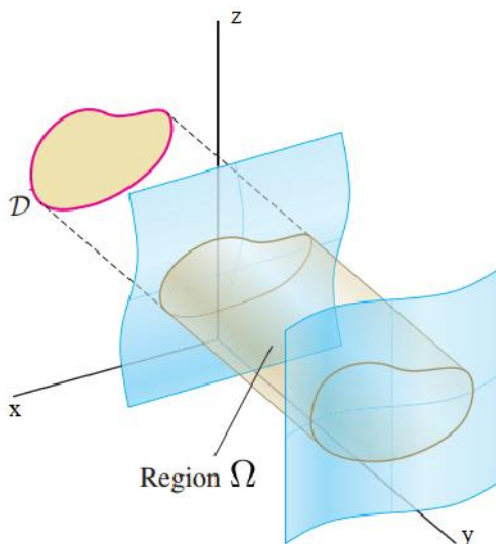
$$\iiint_{\Omega} f(x, y, z) dx dy dz = \iint_D \int_{x_1(y, z)}^{x_2(y, z)} f(x, y, z) dx dy dz.$$

### C. Miền loại III (nhìn theo hướng Oy)

Miền  $\Omega$  được gọi là miền loại 3 nếu nó nằm giữa đồ thị của 2 hàm liên tục của biến  $x, z$

$$\Omega = \{(x, y, z) \mid (x, z) \in D, y_1(x, z) \leq y \leq y_2(x, z)\}$$

trong đó,  $D$  là miền trong mặt phẳng  $Oxz$



Khi đó

$$\iiint_{\Omega} f(x, y, z) dx dy dz = \iint_D \int_{y_1(x, z)}^{y_2(x, z)} f(x, y, z) dy dx dz.$$

Chú ý:

1. Miền  $D$  trong các trường hợp trên là *hình chiếu* của  $\Omega$  lên mặt phẳng tương ứng.
2. Việc tính tích phân bội ba được đưa về việc tính tích phân lặp, và ta *thường phải* vẽ miền lấy tích phân, tuy nhiên, việc vẽ miền lấy tích phân không phải lúc nào cũng dễ dàng.
3. Cần chú ý trường hợp miền  $\Omega$  chỉ gồm hai mặt giới hạn  $z = g(x, y)$  và  $z = h(x, y)$ .

Khi đó, mục tiêu là chuyển về tích phân bội 2 với

$$g(x, y) \leq z \leq h(x, y) \text{ hoặc } h(x, y) \leq z \leq g(x, y)$$

**Bước 1:** xác định miền  $D_{xy}$

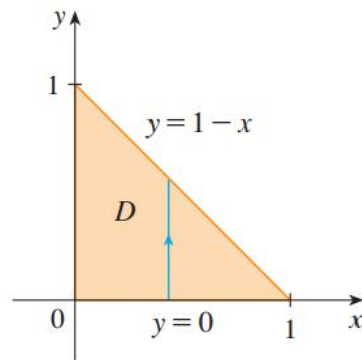
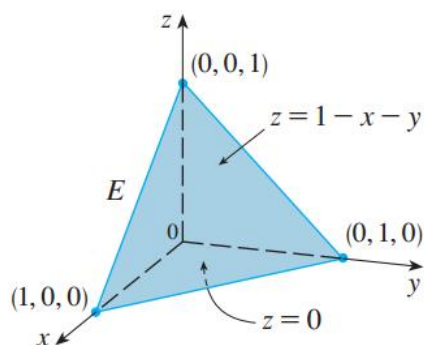
$$\begin{cases} \text{giải } g(x, y) = h(x, y) \\ \text{kiểm tra các phương trình không chứa } z \end{cases} \Rightarrow \text{biên } D_{xy} \text{ (biên phải kín)}$$

Vẽ miền  $D_{x,y}$ .

**Bước 2:** Lấy điểm  $(x_0, y_0) \in D_{x,y} \Rightarrow g < h$  hoặc  $g > h$ .

**Ví dụ 2.19.** Tính  $\iiint_{\Omega} z dx dy dz$ , trong đó  $\Omega$  là khối lập phương giới hạn bởi các mặt  $x = 0, y = 0, z = 0, x + y + z = 1$ .

*Giải*



Ta có

$$\Omega = \{(x, y, z) \mid (x, y) \in D, 0 \leq z \leq 1 - x - y\},$$

trong đó

$$D = \{(x, y) \mid 0 \leq x \leq 1, 0 \leq y \leq 1 - x\}.$$

Suy ra

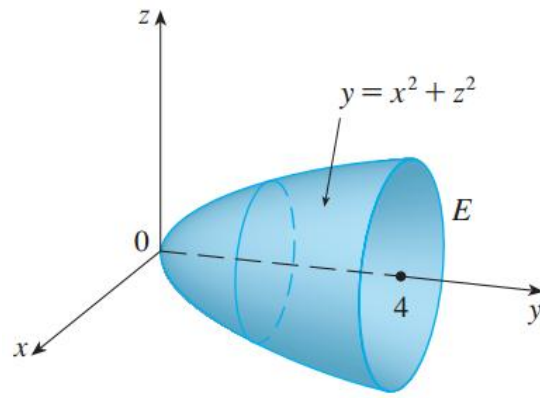
$$\Omega = \{(x, y, z) \mid 0 \leq x \leq 1, 0 \leq y \leq 1 - x, 0 \leq z \leq 1 - x - y\}.$$

Vậy

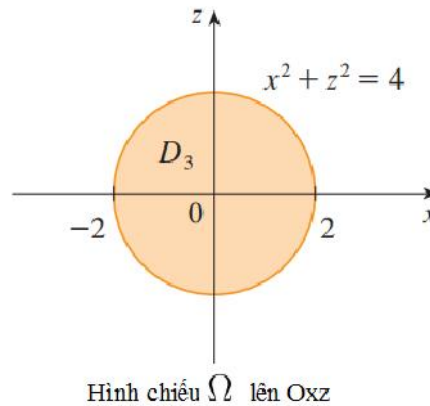
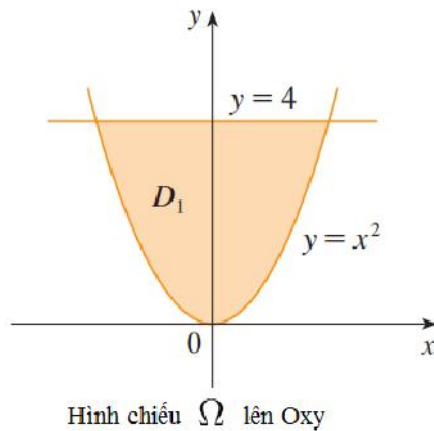
$$\begin{aligned} \iiint_{\Omega} z dx dy dz &= \int_0^1 \int_0^{1-x} \int_0^{1-x-y} z dz dy dx \\ &= \int_0^1 \int_0^{1-x} \left[ \frac{z^2}{2} \right]_{z=0}^{z=1-x-y} dy dz = \frac{1}{2} \int_0^1 \int_0^{1-x} (1-x-y)^2 dy dz \\ &= \frac{1}{2} \int_0^1 \left[ -\frac{(1-x-y)^3}{3} \right]_{y=0}^{y=1-x} dz = \frac{1}{6} \int_0^1 (1-x)^3 dz \\ &= \frac{1}{6} \left[ -\frac{(1-x)^4}{4} \right]_{x=0}^{x=1} = \frac{1}{24}. \end{aligned}$$

**Ví dụ 2.20.** Tính tích phân  $\iiint_{\Omega} \sqrt{x^2 + z^2} dx dy dz$ , trong đó  $\Omega$  là miền giới hạn bởi parabol  $y = x^2 + z^2$  và mặt phẳng  $y = 4$ .

*Giải*



Cách 1: Viết  $\Omega$  theo dạng miền loại 1



Ta có:  $\Omega = \left\{ (x, y, z) \mid -2 \leq x \leq 2, x^2 \leq y \leq 4, -\sqrt{y-x^2} \leq z \leq \sqrt{y-x^2} \right\}$ .

Vậy

$$\iiint_{\Omega} \sqrt{x^2 + z^2} dx dy dz = \int_{-2}^2 \int_{x^2}^4 \int_{-\sqrt{y-x^2}}^{\sqrt{y-x^2}} \sqrt{x^2 + z^2} dz dy dx.$$

(ta thấy tích phân trên tính khó !!!)

Cách 2: Viết  $\Omega$  theo dạng miền loại 3

Ta có:

$$\Omega = \left\{ (x, y, z) \mid (x, z) \in D_{xz}, x^2 + z^2 \leq y \leq 4 \right\},$$

trong đó  $D_{xz} = \left\{ (x, z) \mid x^2 + z^2 \leq 4 \right\}$

Vậy

$$I = \iiint_{\Omega} \sqrt{x^2 + z^2} dx dy dz = \iint_{D_{xz}} \int_{x^2+z^2}^4 \sqrt{x^2 + z^2} dz dx dy = \iint_{D_{xz}} (4 - x^2 - z^2) \sqrt{x^2 + z^2} dx dy.$$

Đổi biến,  $\begin{cases} x = r \cos \varphi \\ y = r \sin \varphi \end{cases}$

Ta có

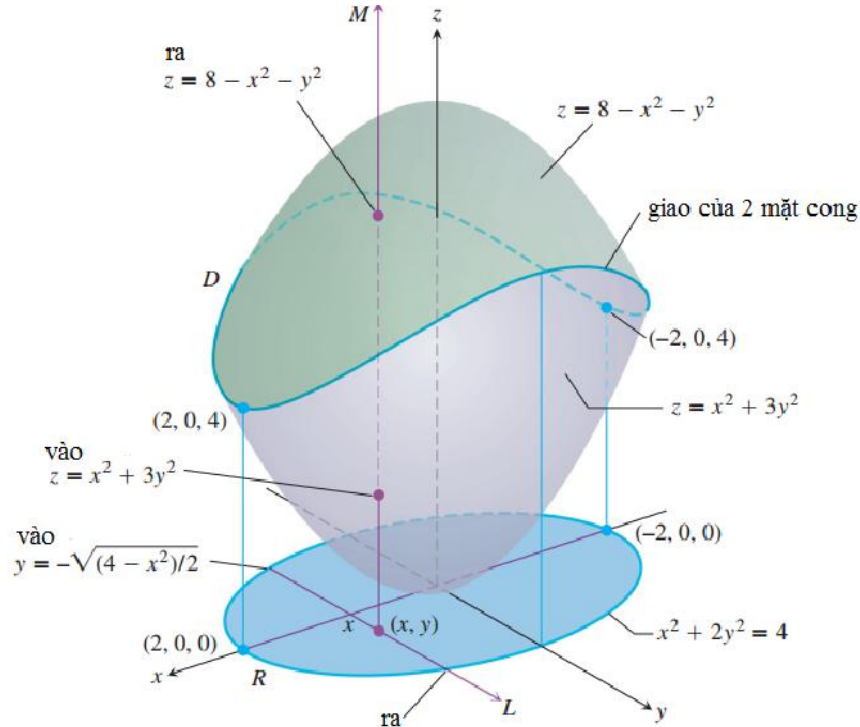
- $|J| = r$ ,
- $D_{r\varphi} = \{(r, \varphi) \mid 0 \leq \varphi \leq 2\pi, 0 \leq r \leq 2\}$ .

Suy ra

$$I = \int_0^{2\pi} \int_0^2 (4 - r^2) r dr d\varphi = \frac{128}{15} \pi.$$

**Ví dụ 2.21.** Tìm thể tích miền  $\Omega$  giới hạn bởi 2 mặt  $z = x^2 + y^2$  và  $z = 8 - x^2 - y^2$ .

*Giải*



Ta có  $8 - x^2 - y^2 = x^2 + 3y^2 \Rightarrow x^2 + 2y^2 = 4$  suy ra

$$D_{xy} = \{(x, y) | x^2 + 2y^2 \leq 4\}.$$

Lấy  $(x, y) \in D$ , ta thấy  $z = 8 - x^2 - y^2 \geq z = x^2 + 3y^2$ , nên ta có

$$\Omega = \{(x, y, z) | (x, y) \in D_{xy}, x^2 + 3y^2 \leq z \leq 8 - x^2 - y^2\}.$$

Suy ra

$$V_{\Omega} = \iiint_{D_{xy}} \int_{x^2+3y^2}^{8-x^2-y^2} 1 dz dx dy = \iint_{D_{xy}} (8 - 2x^2 - 4y^2) dx dy = \dots = 8\pi\sqrt{2}.$$

### 2.2.3 Phương pháp đổi biến tổng quát

**Bước 1:** Đặt  $\begin{cases} x = x(u, v, w) \\ y = y(u, v, w) \\ z = z(u, v, w) \end{cases}$

**Bước 2:** Đổi miền  $\Omega_{xyz} \Rightarrow \Omega_{uvw}$

**Bước 3: Tính**

$$J = \frac{\partial(x, y, z)}{\partial(u, v, w)} = \begin{vmatrix} \frac{\partial x}{\partial u} & \frac{\partial x}{\partial v} & \frac{\partial x}{\partial w} \\ \frac{\partial y}{\partial u} & \frac{\partial y}{\partial v} & \frac{\partial y}{\partial w} \\ \frac{\partial z}{\partial u} & \frac{\partial z}{\partial v} & \frac{\partial z}{\partial w} \end{vmatrix} \neq 0.$$

**Bước 4:**

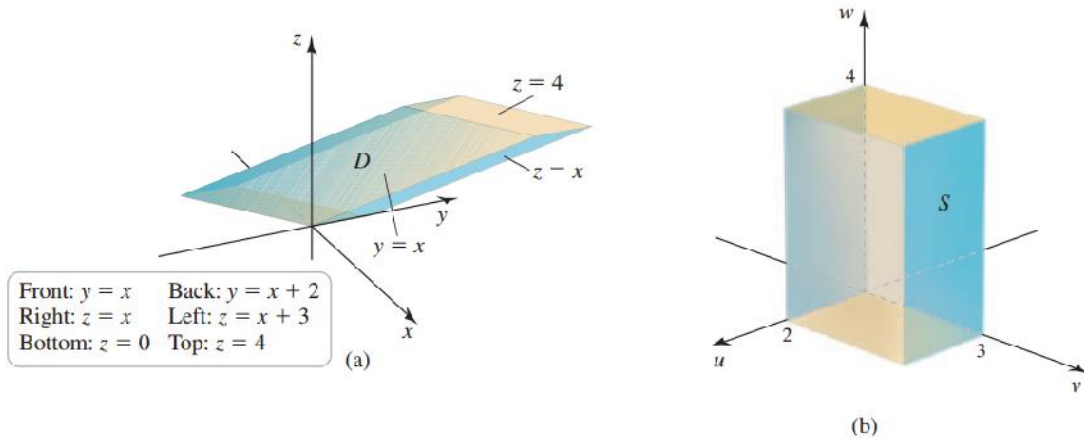
$$\iiint_{\Omega_{xyz}} f(x, y, z) dx dy dz = \iiint_{\Omega_{uvw}} f(x(u, v, w), y(u, v, w), z(u, v, w)) |J| du dv dw.$$

Chú ý: Nếu đặt  $\begin{cases} u = u(x, y, z) \\ v = v(x, y, z) \\ w = w(x, y, z) \end{cases}$ , thì  $J = \frac{1}{\frac{\partial(u, v, w)}{\partial(x, y, z)}}$ .

**Ví dụ 2.22.** Tính tích phân  $\iiint_{\Omega} (xz) dx dy dz$ , với  $\Omega$  là miền giới hạn bởi các mặt

$$y = x, \quad y = x + 2; \quad z = x; \quad z = x + 3; \quad z = 0; \quad z = 4$$

*Giải*



*Nhận xét:* ta thấy

- $y - x = 0$  và  $y - x = 2$
- $z - x = 0$  và  $z - x = 3$
- $z = 0$  và  $z = 4$ .

Đặt

$$\begin{cases} u = y - x \\ v = z - x \\ w = z \end{cases} (*) \Rightarrow \begin{cases} 0 \leq u \leq 2 \\ 0 \leq v \leq 3 \\ 0 \leq w \leq 4 \end{cases}$$

Vậy  $\Omega_{uvw} = \{(u, v, w) | 0 \leq u \leq 2, 0 \leq v \leq 3, 0 \leq w \leq 4\}$

Từ (\*), ta có

$$\begin{cases} x = w - v \\ y = u - v - w \\ z = w \end{cases}$$

Suy ra

$$J = \frac{\partial(x, y, z)}{\partial(u, v, w)} = \begin{vmatrix} 0 & -1 & 1 \\ 1 & -1 & -1 \\ 0 & 0 & 1 \end{vmatrix} = 1 \neq 0.$$

Vậy

$$\begin{aligned}
\iiint_{\Omega_{xyz}} xz dx dy dz &= \iiint_{\Omega_{uvw}} (w^2 - vw) \cdot |J| \cdot du dv dw \\
&= \int_0^4 \int_0^3 \int_0^2 (w^2 - vw) \cdot 1 \cdot du dv dw \\
&= \dots = 56.
\end{aligned}$$

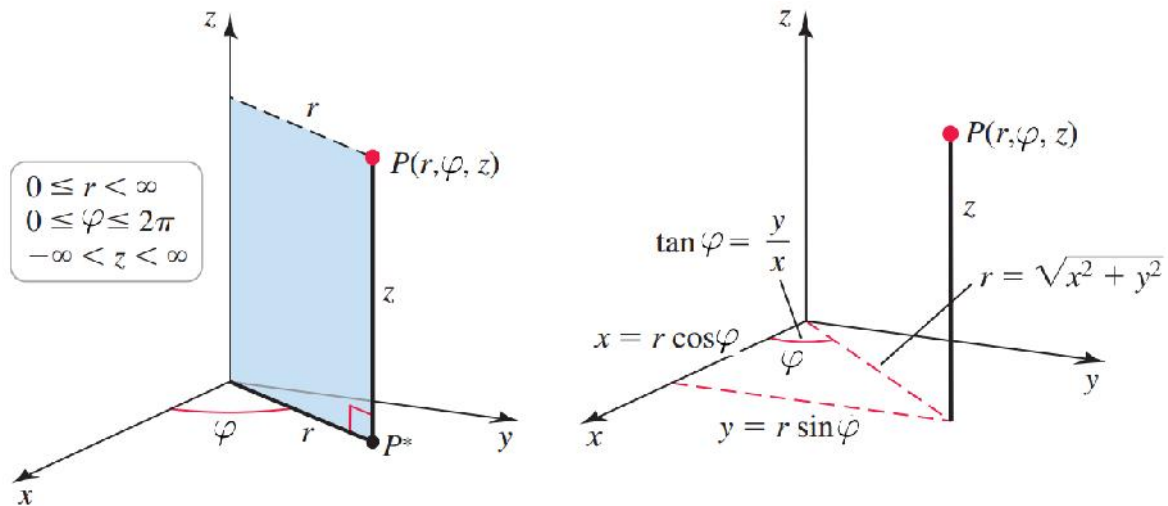
## 2.2.4 Đổi biến trong tọa độ trụ

### ▷ Tọa độ trụ

Trong hệ tọa độ trụ, điểm  $P$  trong  $\mathbb{R}^3$  được mô tả bởi 3 tọa độ  $(r, \varphi, z)$ , trong đó

$r$  là độ dài hình chiếu của  $OP$  lên mặt  $Oxy$ ,

$\varphi$  là góc tạo bởi hình chiếu của  $OP$  lên mặt  $Oxy$  với tia  $Ox$ , chiều dương ngược chiều kim đồng hồ.



*Biến đổi giữa hệ tọa độ trụ và Descartes*

$$\begin{array}{c|c}
\text{Descartes} \Rightarrow \text{Tọa độ trụ} & \text{Tọa độ trụ} \Rightarrow \text{Descartes} \\
\left\{ \begin{array}{l} r^2 = x^2 + y^2 \\ \tan \varphi = y/x \\ z = z \end{array} \right. & \left\{ \begin{array}{l} x = r \cos \varphi \\ y = r \sin \varphi \\ z = z \end{array} \right.
\end{array}$$

### ▷ Đổi biến

#### Bước 1: Đặt

$$\left\{ \begin{array}{l} x = r \cos \varphi \\ y = r \sin \varphi \\ z = z \end{array} \right. \quad 0 \leq r < +\infty, 0 \leq \varphi < 2\pi, -\infty < z < +\infty$$

#### Bước 2: Đổi miền $\Omega_{xyz} \Rightarrow \Omega_{r\varphi z}$

$\varphi$ : quét đáy,

$r$ : tìm  $r$  "vào, ra" đáy,

$z$ : tìm  $z$  trên, dưới.



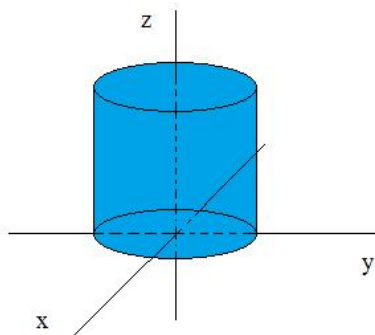
**Bước 3:** ta có  $|J| = r$ .

**Bước 4:**

$$\iiint_{\Omega_{xyz}} f(x, y, z) dx dy dz = \iiint_{\Omega_{r\varphi z}} f(r \cos \varphi, r \sin \varphi, z) \cdot r \cdot dr d\varphi dz.$$

**Ví dụ 2.23.** Tính  $\iiint_{\Omega} (x^2 + y^2) z dx dy dz$ , với  $\Omega$  được giới hạn bởi các mặt  $x^2 + y^2 = 1, z = 0, z = 2$ .

*Giải*



$$\text{Đặt } \begin{cases} x = r \cos \varphi \\ y = r \sin \varphi \\ z = z \end{cases}$$

Đổi miền  $\Omega_{xyz} \Rightarrow \Omega_{r\varphi z}$

- $0 \leq \varphi \leq 2\pi$
- $0 \leq r \leq 1$
- $0 \leq z \leq 2$

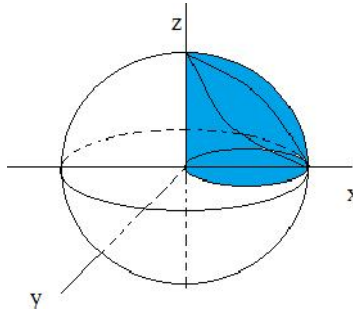
Ta có  $|J| = r$ .

Vậy

$$\begin{aligned} \iiint_{\Omega_{xyz}} (x^2 + y^2) z dx dy dz &= \iiint_{\Omega_{r\varphi z}} (r^2 \cos^2 \varphi + r^2 \sin^2 \varphi) r dr d\varphi dz \\ &= \int_0^1 \int_0^{2\pi} \int_0^2 r^3 dz d\varphi dr \\ &= \dots \\ &= \pi(???) . \end{aligned}$$

**Ví dụ 2.24.** Tính  $\iiint_{\Omega} dx dy dz$ , trong đó  $\Omega$  là miền giới hạn bởi  $z \geq 0, z = \sqrt{4 - x^2 - y^2}$  nằm trong hình trụ  $x^2 + y^2 = 2x$ .

*Giải*



Đặt  $\begin{cases} x = r \cos \varphi \\ y = r \sin \varphi \\ z = z \end{cases} \quad (*)$

Đổi miền  $\Omega_{xyz} \Rightarrow \Omega_{r\varphi z}$

- $-\frac{\pi}{2} \leq \varphi \leq \frac{\pi}{2}$
- Thay (\*) vào  $x^2 + y^2 = 2x$ , ta được  $r = 2\cos\varphi$ , ruy ra  $0 \leq r \leq 2\cos\varphi$
- Thay (\*) vào  $z = \sqrt{4 - x^2 - y^2}$ , ta được  $z = \sqrt{4 - r^2}$ , ruy ra  $0 \leq z \leq \sqrt{4 - r^2}$

Ta có  $|J| = r$ .

Vậy

$$\begin{aligned} \iiint_{\Omega_{xyz}} dx dy dz &= \iiint_{\Omega_{r\varphi z}} r dr d\varphi dz \\ &= \int_{-\frac{\pi}{2}}^{\frac{\pi}{2}} \int_0^{2\cos\varphi} \int_0^{\sqrt{4-r^2}} r dz dr d\varphi \\ &= \dots \\ &= \frac{8}{3} \left( \pi - \frac{4}{3} \right) (???) . \end{aligned}$$

*Chú ý:* việc đổi biến trong tọa độ trụ "giống" việc ta đưa tích phân bội 3 về bội 2 và dùng đổi biến trong tọa độ cực.

### 2.2.5 Đổi biến trong tọa độ cầu

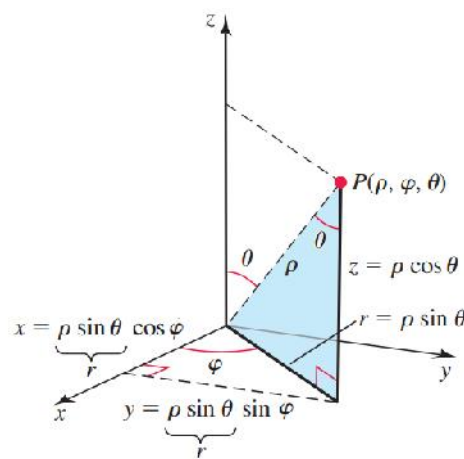
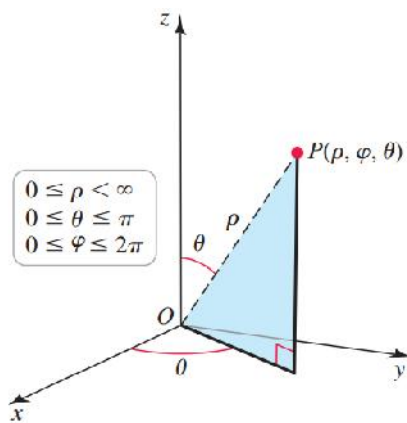
#### ▷ Tọa độ cầu

Trong tọa độ cầu, điểm  $P$  trong  $\mathbb{R}^3$  được mô tả bởi 3 tọa độ  $(p, \varphi, \theta)$ , trong đó

$p$  là khoảng cách từ  $P$  đến gốc tọa độ  $O$ ,

$\varphi$  là góc tạo bởi hình chiếu của  $OP$  lên mặt  $Oxy$  với tia  $Ox$ , chiều dương ngược chiều kim đồng hồ.

$\theta$  góc giữa tia  $Oz$  và  $OP$ .



*Biến đổi giữa hệ tọa cầu và Descartes*

Descartes  $\Rightarrow$  Tọa độ cầu

$$\begin{cases} p^2 = x^2 + y^2 + z^2 \\ \cos \theta = z/p \\ \cos \varphi = \frac{x}{p \cdot \sin \theta} \end{cases}$$

Tọa độ cầu  $\Rightarrow$  Descartes

$$\begin{cases} x = p \sin \theta \cos \varphi \\ y = p \sin \theta \sin \varphi \\ z = p \cos \theta \end{cases}$$

▷ **Đổi biến**

**Bước 1:** Đặt

$$\begin{cases} x = p \sin \theta \cos \varphi \\ y = p \sin \theta \sin \varphi \\ z = p \cos \theta \end{cases} \quad 0 \leq p < +\infty, 0 \leq \varphi < 2\pi, 0 \leq \theta < \pi$$

**Bước 2:** Đổi miền  $\Omega_{xyz} \Rightarrow \Omega_{p\varphi\theta}$

$\varphi$ : quét đáy,

$\theta$ : quét thẳng đứng từ trên xuống,

$p$ : tìm  $p$  "vào", "ra" khỏi.

**Bước 3:** ta có  $|J| = p^2 \sin \theta$ .

**Bước 4;**

$$\iiint_{\Omega_{xyz}} f(x, y, z) dx dy dz = \iiint_{\Omega_{p\varphi\theta}} f(p \sin \theta \cos \varphi, p \sin \theta \sin \varphi, p \cos \theta) \cdot \mathbf{p^2 \sin \theta} \cdot dp d\theta d\varphi.$$

Chú ý:

1. Nếu  $\Omega$  có dạng ellipsoid  $\frac{x^2}{a^2} + \frac{y^2}{b^2} + \frac{z^2}{c^2}$  ta đặt

$$\begin{cases} x = ap \sin \theta \cos \varphi \\ y = bp \sin \theta \sin \varphi \\ z = cp \cos \theta \end{cases}$$

khi đó  $|J| = abcp^2 \sin \theta$ .

2. Nếu  $\Omega$  có dạng mặt cầu  $(x - a)^2 + (y - b)^2 + (z - c)^2 = R^2$ , ta đặt

$$\begin{cases} x = a + p \sin \theta \cos \varphi \\ y = b + p \sin \theta \sin \varphi \\ z = c + p \cos \theta \end{cases}$$

khi đó  $|J| = p^2 \sin \theta$ ,  $p, \varphi, \theta$  xác định theo  $I(a, b, c)$ .

**Ví dụ 2.25.** Tính  $\iiint_{\Omega} e^{(x^2+y^2+z^2)^{3/2}} dx dy dz$ , với  $\Omega = \{(x, y, z) | x^2 + y^2 + z^2 \leq 1\}$

*Giải*

Đặt

$$\begin{cases} x = p \sin \theta \cos \varphi \\ y = p \sin \theta \sin \varphi \\ z = p \cos \theta \end{cases} \quad (*)$$

Đổi miền  $\Omega_{xyz} \Rightarrow \Omega_{p\varphi\theta} = \{(p, \varphi, \theta) | 0 \leq p \leq 1, 0 \leq \varphi < 2\pi, 0 \leq \theta < \pi\}$

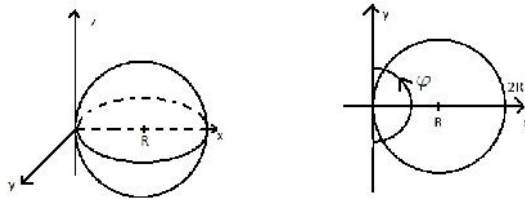
Ta có  $|J| = p^2 \sin \theta$

Vậy

$$\begin{aligned} \iiint_{\Omega_{xyz}} e^{(x^2+y^2+z^2)^{3/2}} dx dy dz &= \iiint_{\Omega_{p\varphi\theta}} e^{(p^2)^{3/2}} \cdot p^2 \sin \theta \cdot dp d\varphi d\theta \\ &= \int_0^\pi \int_0^{2\pi} \int_0^1 p^2 e^{p^3} \sin \theta dp d\varphi d\theta \\ &= \left( \int_0^\pi \sin \theta d\theta \right) \left( \int_0^{2\pi} d\varphi \right) \left( \int_0^1 p^2 e^{p^3} dp \right) \\ &= \frac{4}{3} \pi (e - 1). \end{aligned}$$

**Ví dụ 2.26.** Tính  $\iiint_{\Omega} dx dy dz$ , với  $\Omega$  là hình cầu tâm  $I(R, 0, 0)$ , bán kính  $R$ .

*Giải*



Phương trình hình cầu tâm  $(R, 0, 0)$  bán kính  $R$  là

$$(x - R)^2 + y^2 + z^2 = R^2,$$

hay

$$x^2 + y^2 + z^2 = 2Rx.$$

Đặt  $\begin{cases} x = p \sin \theta \cos \varphi \\ y = p \sin \theta \sin \varphi \\ z = p \cos \theta \end{cases}$

Ta có  $|J| = p^2 \sin \theta$ .

Tìm  $p, \varphi, \theta$

- $0 \leq \theta \leq \pi$ ,
- $-\frac{\pi}{2} \leq \varphi \leq \frac{\pi}{2}$ ,

- Thay  $x, y, z$  vào  $x^2 + y^2 + z^2 = 2Rx$   
 $(p \sin \theta \cos \varphi)^2 + (p \sin \theta \sin \varphi)^2 + (p \cos \theta)^2 = 2Rp \sin \theta \cos \varphi$   
 $p = 2R \sin \theta \cos \varphi$

Suy ra  $0 \leq p \leq 2R \sin \theta \cos \varphi$

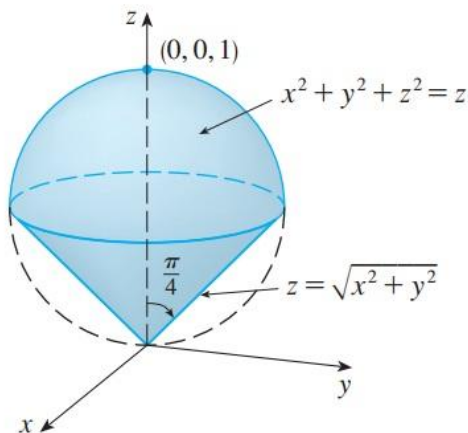
Vậy  $\Omega = \left\{ (p, \varphi, \theta) \mid 0 \leq \theta \leq \pi, -\frac{\pi}{2} \leq \varphi \leq \frac{\pi}{2}, 0 \leq p \leq 2R \sin \theta \cos \varphi \right\}$

Suy ra

$$\begin{aligned} \iiint_{\Omega_{xyz}} dx dy dz &= \iiint_{\Omega_{p\varphi\theta}} (p^2 \sin \theta) dp d\varphi d\theta \\ &= \int_0^\pi \int_{-\frac{\pi}{2}}^{\frac{\pi}{2}} \int_0^{2R \sin \theta \cos \varphi} p^2 \sin \theta dp d\varphi d\theta \\ &= \frac{4}{3} \pi R^3. \end{aligned}$$

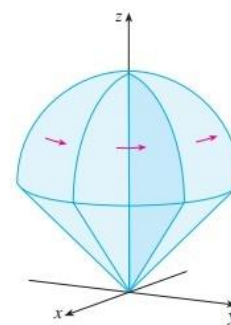
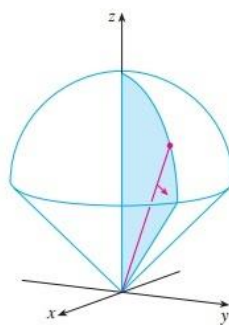
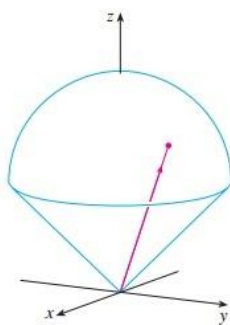
**Ví dụ 2.27.** Tính  $\iiint_{\Omega} \sqrt{x^2 + y^2 + z^2} dx dy dz$  với  $\Omega$  nằm trên nón  $z = \sqrt{x^2 + y^2}$  và bên dưới mặt cầu  $x^2 + y^2 + z^2 = z$ .

*Giải*



Đặt  $\begin{cases} x = p \sin \theta \cos \varphi \\ y = p \sin \theta \sin \varphi \\ z = p \cos \theta \end{cases}$

Ta có  $|J| = p^2 \sin \theta$



Tìm  $p, \varphi, \theta$

- $0 \leq \varphi \leq 2\pi$

- $0 \leq \theta,$

$$z = \sqrt{x^2 + y^2} \Rightarrow z^2 = x^2 + y^2$$

$$\Rightarrow (p \cos \theta)^2 = (p \sin \theta \cos \varphi)^2 + (p \sin \theta \sin \varphi)^2$$

$$\Rightarrow \theta = \frac{\pi}{4}$$

$$\Rightarrow 0 \leq \theta \leq \frac{\pi}{4}$$

- $0 \leq p,$

$$x^2 + y^2 + z^2 = z \Rightarrow (p \sin \theta \cos \varphi)^2 + (p \sin \theta \sin \varphi)^2 + (p \cos \theta)^2 = p \cos \theta$$

$$\Rightarrow p = \cos \theta$$

$$\Rightarrow 0 \leq p \leq \cos \theta$$

Vậy  $D = \left\{ (p, \varphi, \theta) \mid 0 \leq \varphi < 2\pi, 0 \leq \theta < \frac{\pi}{4}, 0 \leq p \leq \cos \theta \right\}$

Suy ra

$$\iiint_{\Omega} \sqrt{x^2 + y^2 + z^2} dx dy dz = \int_0^{2\pi} \int_0^{\frac{\pi}{4}} \int_0^{\cos \theta} p \cdot p^2 \sin \theta dp d\theta d\varphi = \left( \frac{1}{10} - \frac{\sqrt{2}}{80} \right) \pi.$$

### 2.2.6 Ứng dụng của tích phân bội 3

#### A. Tính thể tích vật $\Omega \subset \mathbb{R}^3$

$$V_{\Omega} = \iiint_{\Omega} dx dy dz.$$

#### B. Ứng dụng cơ học Cho vật $\Omega \subset \mathbb{R}^3$ , có khối lượng riêng là $\rho(x, y, z)$ , ta có

Khối lượng vật  $\Omega$  :  $m = \iiint_{\Omega} \rho(x, y, z) dx dy dz,$

Momen quán tính đối với Ox:  $M_x = \iiint_{\Omega} (y^2 + z^2) \rho(x, y, z) dx dy dz,$

Momen quán tính đối với Oy:  $M_y = \iiint_{\Omega} (x^2 + z^2) \rho(x, y, z) dx dy dz,$

Momen quán tính đối với Oz:  $M_z = \iiint_{\Omega} (x^2 + y^2) \rho(x, y, z) dx dy dz,$

Momen quán tính đối với Oxz:  $M_{Oxz} = \iiint_{\Omega} y^2 \rho(x, y, z) dx dy dz,$

Momen quán tính đối với Oyz:  $M_{Oyz} = \iiint_{\Omega} x^2 \rho(x, y, z) dx dy dz,$

Momen quán tính đối với Oxy:  $M_{Oxy} = \iiint_{\Omega} z^2 \rho(x, y, z) dx dy dz,$

Momen quán tính đối với gốc O:  $M_O = \iiint_{\Omega} (x^2 + y^2 + z^2) \rho(x, y, z) dx dy dz,$

Momen tĩnh đối với Oxz:  $M_{Oxz} = \iiint_{\Omega} y \rho(x, y, z) dx dy dz,$

Momen tĩnh đối với Oyz:  $M_{Oyz} = \iiint_{\Omega} x\rho(x, y, z) dx dy dz,$

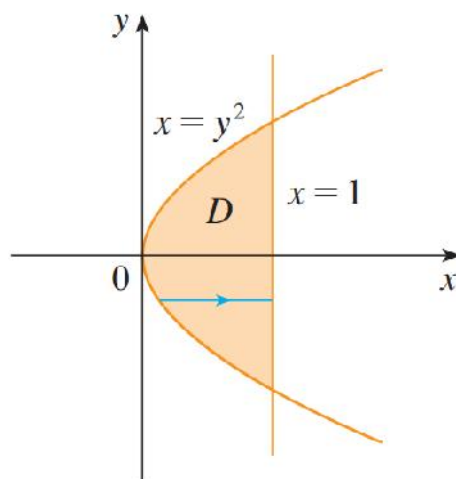
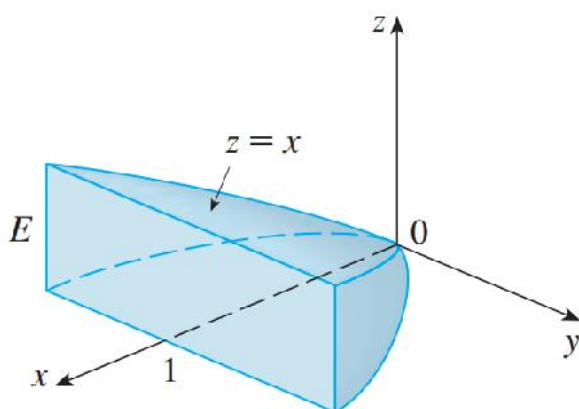
Momen tĩnh đối với Oxy:  $M_{Oxy} = \iiint_{\Omega} z\rho(x, y, z) dx dy dz,$

$$\text{Tọa độ trọng tâm } G(x_G, y_G): \begin{cases} x_G = \frac{1}{m} \iiint_{\Omega} x\rho(x, y, z) dx dy dz \\ y_G = \frac{1}{m} \iiint_{\Omega} y\rho(x, y, z) dx dy dz \\ z_G = \frac{1}{m} \iiint_{\Omega} z\rho(x, y, z) dx dy dz \end{cases}.$$

**Ví dụ 2.28. .**

Tìm khối tâm của hình khối có mật độ không đổi, bị giới hạn bởi mặt trụ  $x = y^2$  và các mặt phẳng  $x = z$ ,  $z = 0$ , và  $x = 1$ .

*Giải.* Dành cho sinh viên.



## 2.3 Bài tập

**Bài tập 2.1.** Biểu diễn các miền  $D$  sau dưới dạng đơn giản, tính diện tích miền  $D$  và tích phân  $\iint_D f(x, y) dx dy$  với

1.  $D$  là hình chữ nhật giới hạn bởi  $x = 2, x = 3, y = 4, y = 6, f(x, y) = x + y$ .
2.  $D$  giới hạn bởi  $y = 2x, x = 0, y = 4, f(x, y) = x$ .
3.  $D$  giới hạn bởi  $x = 4 - y^2, x = 0, -1 \leq y \leq 1, f(x, y) = xy^2$ .
4.  $D$  là hình thang giới hạn bởi  $x = 0, y = 0, y = 3, x + y = 4, f(x, y) = x$ .
5.  $D$  là tam giác giới hạn bởi  $x = 0, y = 0, x + y = 2, f(x, y) = x(x - 1)e^{xy}$ .
6.  $D$  giới hạn bởi  $y = x + 5, y = 7 - x, x = 10, f(x, y) = 3x - 5$ .
7.  $D$  là miền  $|x| + |y| \leq 1, f(x, y) = x$ .
8.  $D$  là hình tròn  $x^2 + y^2 \leq 16$  nằm trong góc phần tư thứ hai,  $f(x, y) = x$ .
9.  $D$  là miền nằm phía trên đường  $y = \frac{1}{2}$  và nằm trong vòng tròn  $x^2 + y^2 = 1, f(x, y) = x\sqrt{y^2 + 1}$ .
10.  $D = [0, 4] \times [1, 3], f(x, y) = xy$ .
11.  $D = [-2, 2] \times [0, 1], f(x, y) = x - y$ .
12.  $D$  là hình tròn  $x^2 + y^2 = 4$  nằm trong góc phần tư thứ nhất,  $f(x, y) = x^2 + y$ .

**Bài tập 2.2.** Tính tích phân  $\int_0^5 f(x, y) dx$  và  $\int_0^1 f(x, y) dy$

1.  $f(x, y) = 12x^2y^3$
2.  $f(x, y) = y + xe^y$

**Bài tập 2.3.** Tính các tích phân sau

1.  $\int_1^3 \int_0^1 (1 + 4xy) dx dy$
2.  $\int_0^3 \int_0^2 (4 - y^2) dy dx$
3.  $\int_{-1}^0 \int_{-1}^1 (x + y + 1) dx dy$
4.  $\int_\pi^{2\pi} \int_0^\pi (\sin x + \cos y) dy dx$
5.  $\int_0^1 \int_1^2 \frac{xe^x}{y} dy dx$
6.  $\int_0^1 \int_0^3 e^{x+3y} dx dy$



$$\begin{aligned}
7. & \int_1^4 \int_1^2 \left( \frac{x}{y} + \frac{y}{x} \right) dy dx \\
8. & \int_0^1 \int_0^1 xy \sqrt{x^2 + y^2} dy dx \\
9. & \int_0^\pi \int_0^x x \sin(y) dy dx \\
10. & \int_0^\pi \int_0^{\sin(x)} y dy dx \\
11. & \int_1^2 \int_y^{y^2} dx dy \\
12. & \int_0^1 \int_0^{y^2} 3y^3 e^{xy} dx dy
\end{aligned}$$

**Bài tập 2.4.** Hãy đổi thứ tự lấy tích phân trong các tích phân kép sau

$$\begin{aligned}
1. & \int_{-2}^2 \int_{x^2}^4 f(x, y) dy dx \\
2. & \int_1^3 \int_0^{2y} f(x, y) dx dy \\
3. & \int_0^1 \int_y^{\sqrt{y}} f(x, y) dx dy \\
4. & \int_{-1}^1 \int_0^{\sqrt{1-x^2}} f(x, y) dy dx \\
5. & \int_{-6}^2 \int_{\frac{x^2}{4}-1}^{2-x} f(x, y) dy dx \\
6. & \int_1^2 \int_{2-x}^{\sqrt{2x-x^2}} f(x, y) dy dx \\
7. & \int_1^e \int_0^{\ln(x)} f(x, y) dy dx
\end{aligned}$$

**Bài tập 2.5.** Tính các tích phân sau

$$1. \iint_D \frac{x}{1+xy} dx dy, D = [0, 1] \times [0, 1]$$

2.  $\iint_D x \sin(x+y) dx dy, D = \left[0, \frac{\pi}{6}\right] \times \left[0, \frac{\pi}{3}\right]$
3.  $\iint_D (6x^2y^3 - 5y^4) dx dy, D = \{(x, y) | 0 \leq x \leq 3, 0 \leq y \leq 1\}$
4.  $\iint_D \cos(x+2y) dx dy, D = \left\{(x, y) | 0 \leq x \leq \pi, 0 \leq y \leq \frac{\pi}{2}\right\}$
5.  $\iint_D \frac{xy^2}{x^2+1} dx dy, D = \{(x, y) | 0 \leq x \leq 1, -3 \leq y \leq 3\}$
6.  $\iint_D \frac{1+x^2}{1+y^2} dx dy, D = \{(x, y) | 0 \leq x \leq 1, 0 \leq y \leq 1\}$

**Bài tập 2.6.** Tính các tích phân sau

1.  $\iint_D x dx dy, D = \{(x, y) | 0 \leq x \leq \pi, 0 \leq y \leq \sin(x)\}$
2.  $\iint_D x^3 dx dy, D = \{(x, y) | 0 \leq x \leq e, 0 \leq y \leq \ln(x)\}$
3.  $\iint_D x\sqrt{y^2 - x^2} dx dy, D = \{(x, y) | 0 \leq y \leq 1, 0 \leq x \leq y\}$
4.  $\iint_D y^3 dx dy, D$  là hình tam giác có đỉnh  $(0, 2), (1, 1), (3, 2)$
5.  $\iint_D 2xy dx dy, D$  là hình tam giác có đỉnh  $(0, 0), (1, 2), (0, 3)$
6.  $\iint_D (x+y)(x-y) dx dy, D$  là hình vuông có đỉnh  $(0, 2), (1, 1), (2, 2), (1, 3)$
7.  $\iint_D xy dx dy, D$  là hình vuông có đỉnh  $(0, 0), (1, 1), (2, 0), (1, -1)$
8.  $\iint_D x \cos(y) dx dy, D$  là miền giới hạn bởi  $y = 0, y = x^2, x = 1$
9.  $\iint_D (x+y) dx dy, D$  là miền giới hạn bởi  $y = \sqrt{x}, y = x^2$
10.  $\iint_D xy^2 dx dy, D$  là miền giới hạn bởi  $x = 0, x = \sqrt{1-y^2}$
11.  $\iint_D (\cos(2x) + \sin(y)) dx dy, D$  là miền giới hạn bởi  $x = 0, y = 0, 4x + 4y - \pi = 0$
12.  $\iint_D (x+y) dx dy, D$  là miền giới hạn bởi  $|x| + |y| \leq 2$
13.  $\iint_D (|x| + |y|) dx dy, D$  là miền giới hạn bởi  $|x| + |y| \leq 1$
14.  $\iint_D \sqrt{|y-x^2|} dx dy, D$  là miền giới hạn bởi  $|x| \leq 1, 0 \leq y \leq 2$
15.  $\iint_D x dx dy, D$  là hình thang giới hạn bởi  $x = 0, y = 0, x+y = 2$
16.  $\iint_D (3x-5) dx dy, D$  là miền giới hạn bởi  $y = x+5, y = -x+7, x = 10$
17.  $\iint_D x\sqrt{y^2+1} dx dy, D$  là miền phía trên đường  $y = 1/2$  và nằm trong đường tròn  $x^2 + y^2 = 1$
18.  $\iint_D (x^2+y) dx dy, D$  là miền giới hạn bởi  $x^2 + y^2 = 4$  và nằm trong góc phần tư thứ nhất

19.  $\iint_D x dx dy$ ,  $D$  là miền nằm trong đường tròn  $x^2 + y^2 = 16$  và nằm trong góc phần tư thứ hai
20.  $\iint_D (2x^2 y^2) dx dy$ ,  $D$  là miền giới hạn bởi các miền  $y = x, y = -x, y = 2 - x^2$

**Bài tập 2.7.** Tính các tích phân sau (đổi biến)

- $\iint_D \frac{y}{x} dx dy$ ,  $D$  là miền giới hạn bởi các đường cong  $xy = 1, xy = 2, y = x, y = 3x$  (lấy trong miền  $x, y \geq 0$ )
- $\iint_D (x + y)^3 (x - y)^2 dx dy$ ,  $D$  là miền giới hạn bởi các đường  $x + y = 1, x - y = 1, x + y = 3, x - y = -1$
- $\iint_D \sqrt{xy} dx dy$ ,  $D$  là miền giới hạn bởi các đường  $y^2 = x, y^2 = 2x, xy = 1, xy = 4$
- $\iint_D xy dx dy$ ,  $D$  là miền giới hạn bởi các đường  $y^2 = x, y^2 = 2x, x = y, y = 2x$
- $\iint_D \arcsin \sqrt{x + y} dx dy$ ,  $D$  giới hạn bởi các đường  $x + y = 0, x + y = 1, y = -1, y = 1$
- $\iint_D \sqrt{4 - x^2 - y^2} dx dy$ ,  $D = \{(x, y) | x^2 + y^2 \leq 4, x \geq 0\}$
- $\iint_D \sqrt{4 - x^2 - y^2} dx dy$ ,  $D = \{(x, y) | x^2 + y^2 \leq 2x, y \geq 0\}$
- $\iint_D xy dx dy$ ,  $D$  là miền giới hạn bởi đường tròn tâm là gốc tọa độ, bán kính 3.
- $\iint_D (x + y) dx dy$ ,  $D$  là miền nằm bên trái Oy, và nằm trong hình vành khăn  $x^2 + y^2 = 1$  và  $x^2 + y^2 = 4$
- $\iint_D \cos(x^2 + y^2) dx dy$ ,  $D$  là miền nằm bên trên Ox và bên trong đường tròn  $x^2 + y^2 = 9$
- $\iint_D ye^x dx dy$ ,  $D$  là miền nằm bên trong góc phần tư thứ nhất và bên trong đường tròn  $x^2 + y^2 = 25$
- $\iint_D e^{-x^2 - y^2} dx dy$ ,  $D$  là miền giới hạn bởi  $x = \sqrt{4 - y^2}$  và trục Oy
- $\iint_D x dx dy$ ,  $D$  là miền nằm trong góc phần tư thứ nhất và nằm giữa đường tròn  $x^2 + y^2 = 4$  và  $x^2 + y^2 = 2x$
- $\iint_D \arctan(y/x) dx dy$ ,  $D = \{(x, y) | 0 \leq x^2 + y^2 \leq 4, 0 \leq y \leq x\}$
- $\iint_D \sqrt{4 - \frac{x^2}{a^2} - \frac{y^2}{b^2}} dx dy$ ,  $D$  giới hạn bởi  $\frac{x^2}{a^2} + \frac{y^2}{b^2} = 1, \frac{x^2}{4a^2} + \frac{y^2}{4b^2} = 1$
- $\iint_D \frac{\sin \sqrt{x^2 + y^2}}{\sqrt{x^2 + y^2}} dx dy$ ,  $D = \{(x, y) | \frac{\pi^2}{16} \leq x^2 + y^2 \leq \frac{\pi^2}{9}\}$
- $\int_{-1 - \sqrt{1 - x^2}}^0 \int_0^0 \frac{2}{1 + \sqrt{x^2 + y^2}} dy dx$

$$18. \int_{-1}^1 \int_{-\sqrt{1-y^2}}^0 \frac{4\sqrt{x^2+y^2}}{1+x^2+y^2} dx dy$$

$$19. \int_0^{\ln 2} \int_0^{\sqrt{(\ln 2)^2 - y^2}} e^{\sqrt{x^2+y^2}} dx dy$$

$$20. \int_0^2 \int_0^{\sqrt{1-(x-1)^2}} \frac{x+y}{x^2+y^2} dy dx$$

$$21. \int_{-1}^1 \int_{-\sqrt{1-y^2}}^{\sqrt{1-y^2}} \ln(x^2+y^2+1) dy dx$$

**Bài tập 2.8.** Tính diện tích miền  $D$  giới hạn bởi các đường cong sau

1.  $x = y^2 - 2y, x + y = 0$
2.  $y = \ln x, x = y + 1, y = -1$
3.  $x^2 = y, x^2 = 2y, y^2 = x, y^2 = 4x$
4.  $y = -x^2 + 4x, y = 2x^2 - 5x$

**Bài tập 2.9.** 1. Tính diện tích phần mặt parabol  $x = 1 - y^2 - z^2$  nằm phía trong hình trụ  $y^2 + z^2 = 1$

2. Tính diện tích phần mặt phẳng  $\frac{x}{a} + \frac{y}{b} + \frac{z}{c} = 1$  bị chặn bởi các mặt phẳng tọa độ
3. Tính diện tích phần mặt cầu nằm giữa hai mặt phẳng  $z = \frac{\sqrt{3}y}{3}$  và  $z = y$
4. Tính diện tích phần mặt trụ  $y^2 = 2x$  nằm trong mặt cầu  $x^2 + y^2 + z^2 = 5x$
5. Tính diện tích của phần mặt nón  $z^2 = x^2 + y^2, z \geq 0$  nằm trong mặt trụ  $x^2 + y^2 = 1$

**Bài tập 2.10.** Tìm khối lượng và trọng tâm của bản phẳng đồng chất

1.  $D$  là tam giác giới hạn bởi  $x = 0, y = x, 2x + y = 6$  và  $\rho(x, y) = x^2$
2.  $D$  giới hạn bởi  $y = e^x, y = 0, x = 0, x = 1$  và  $\rho(x, y) = y$
3.  $D$  giới hạn bởi  $y = \sqrt{x}, y = 0, x = 1$  và  $\rho(x, y) = x$
4.  $D$  giới hạn bởi parabol  $y = x^2, x = y^2$  và  $\rho(x, y) = \sqrt{x}$

**Bài tập 2.11.** Tính tích phân lặp

$$1. \int_0^1 \int_0^z \int_0^{x+z} 6xyz dy dx dz$$

$$2. \int_0^1 \int_x^{2x} \int_0^y 2xyz dz dy dx$$

$$3. \int_0^1 \int_0^z \int_0^y ze^{-y^2} dx dy dz$$

4.  $\int_0^{\frac{\pi}{2}} \int_0^y \int_0^x \cos(x+y+z) dy dx dz$
5.  $\iiint_{\Omega} \sin^{100} x \cdot \ln(y+z) dx dy dz, \Omega = \{(x, y, z) | 0 \leq x \leq 2\pi, 1 \leq y \leq e, 1 \leq z \leq e\}$
6.  $\iiint_{\Omega} (x^3 y e^z) dx dy dz, \Omega = \{(x, y, z) | 1 \leq x \leq 2, 1 \leq y \leq 1, 0 \leq z \leq \ln 2\}$
7.  $\iiint_{\Omega} (x+y+z) dx dy dz$ , trong đó  $\Omega$  giới hạn bởi các mặt  $x=0, x=1, y=0, y=1, z=0, z=1$ .

**Bài tập 2.12.** Tính tích phân sau

1.  $\iiint_{\Omega} 2x dx dy dz$ , trong đó  $E = \{(x, y, z) | 0 \leq y \leq 2, 0 \leq x \leq \sqrt{4-y^2}, 0 \leq z \leq y\}$
2.  $\iiint_{\Omega} yz \cos(x^5) dx dy dz$ , trong đó  $E = \{(x, y, z) | 0 \leq x \leq 1, 0 \leq y \leq x, x \leq z \leq 2x\}$
3.  $\iiint_{\Omega} 6xy dx dy dz$ , trong đó  $\Omega$  nằm bên dưới mặt  $z = 1+x+y$  và bên trên miền thuộc mặt phẳng  $Oxy$  giới hạn bởi các đường cong  $y = \sqrt{x}, y = 0$  và  $x = 1$
4.  $\iiint_{\Omega} y dx dy dz$ , trong đó  $\Omega$  giới hạn bởi các mặt  $x=0, y=0, z=0$  và  $2x+2y+z=4$
5.  $\iiint_{\Omega} x^2 e^y dx dy dz$ , trong đó  $\Omega$  giới hạn bởi các mặt  $z = 1-y^2, z=0, x=1$  và  $x=-1$
6.  $\iiint_{\Omega} xy dx dy dz$ , trong đó  $\Omega$  giới hạn bởi các mặt  $y = x^2, x = y^2$  và  $z=0, z=c+y$
7.  $\iiint_{\Omega} x^2 dx dy dz$ , trong đó  $\Omega$  là tứ diện có các đỉnh  $(0,0,0), (1,0,0), (0,1,0)$  và  $(0,0,1)$
8.  $\iiint_{\Omega} xyz dx dy dz$ , trong đó  $\Omega$  là tứ diện có các đỉnh  $(0,0,0), (1,0,0), (1,1,0)$  và  $(1,0,1)$
9.  $\iiint_{\Omega} x dx dy dz$ , trong đó  $\Omega$  giới hạn bởi  $x = 4y^2 + 4z^2$  và mặt  $x = 4$
10.  $\iiint_{\Omega} z dx dy dz$ , trong đó  $\Omega$  giới hạn bởi mặt trụ  $y^2 + z^2 = 9, x=0, y=3x$  và  $z=0$  trong góc phần tám thứ nhất.

**Bài tập 2.13.** Dùng tích phân bội 3, tính thể tích

1. Tứ diện giới hạn bởi các mặt tọa độ và mặt  $2x+y+z=4$
2. Khối giới hạn bởi  $y = x^2$  và các mặt  $z=0, z=4, y=9$
3. Khối giới hạn bởi  $x^2 + y^2 = 9$  và mặt  $y+z=5$  và  $z=1$
4. Khối giới hạn bởi  $x = y^2 + z^2$  và  $x = 16$

**Bài tập 2.14.** Dùng tọa độ trụ, tính

1.  $\iiint_{\Omega} \sqrt{x^2 + y^2} dx dy dz$ , trong đó  $\Omega$  là miền nằm trong mặt trụ  $x^2 + y^2 = 16$  và nằm giữa mặt  $z = -5$  và  $z = 4$

2.  $\iiint_{\Omega} (x^3 + xy^2) dx dy dz$ , trong đó  $\Omega$  là miền trong góc phần tám thứ nhất và nằm bên dưới parabol  $z = 1 - x^2 - y^2$
3.  $\iiint_{\Omega} e^z dx dy dz$ , trong đó  $\Omega$  là miền giới hạn bởi  $z = 1 + x^2 + y^2$ , mặt trụ  $x^2 + y^2 = 5$  và mặt phẳng  $Oxy$
4.  $\iiint_{\Omega} x dx dy dz$ , trong đó  $\Omega$  là miền giới hạn bởi mặt  $z = 0$ ,  $z = x + y + 5$  và mặt trụ  $x^2 + y^2 = 4$  và  $x^2 + y^2 = 9$
5.  $\iiint_{\Omega} x^2 dx dy dz$ , trong đó  $\Omega$  là miền nằm trong hình trụ  $x^2 + y^2 = 1$ , nằm trên  $z = 0$ , nằm dưới  $z^2 = 4x^2 + 4y^2$
6. Tính thể tích khối nằm trong cả hai khối  $x^2 + y^2 = 1$  và khối cầu  $x^2 + y^2 + z^2 = 4$

**Bài tập 2.15.** Dùng tọa độ cầu, tính

1.  $\iiint_{\Omega} (x^2 + y^2 + z^2)^2 dx dy dz$ , trong đó  $\Omega$  là quả cầu tâm  $O$  bán kính 5.
2.  $\iiint_{\Omega} (9 - x^2 - y^2) dx dy dz$ , trong đó  $\Omega$  là bán cầu rỗng  $x^2 + y^2 + z^2 \leq 9$  và  $z \geq 0$
3.  $\iiint_{\Omega} z dx dy dz$ , trong đó  $\Omega$  nằm giữa các mặt  $x^2 + y^2 + z^2 = 1$  và  $x^2 + y^2 + z^2 = 4$  và trong góc phần tám thứ nhất
4.  $\iiint_{\Omega} e^{\sqrt{x^2 + y^2 + z^2}} dx dy dz$ , trong đó  $\Omega$  giới hạn bởi mặt  $x^2 + y^2 + z^2 = 9$  trong góc phần tám thứ nhất
5.  $\iiint_{\Omega} x^2 dx dy dz$ , trong đó  $\Omega$  giới hạn bởi mặt  $Oxz$  và  $y = \sqrt{9 - x^2 - y^2}$  và  $y = \sqrt{16 - x^2 - z^2}$
6. Thể tích của khối nằm trong mặt cầu  $x^2 + y^2 + z^2 = 4$ , trên mặt  $Oxy$ , dưới nón  $z = \sqrt{x^2 + y^2}$

**Bài tập 2.16.** Tìm thể tích khối

1. Giới hạn bởi mặt  $y = x^2$ , và các mặt phẳng  $z = 0$ ,  $z = 0$  và  $y = 9$ .
2. Nằm trong hình trụ  $x^2 + y^2 = 9$  và nằm giữa hai mặt  $z = 0$ ,  $z = 2x + 1$ , ( $x \geq 0$ ).
3. Giới hạn bởi Parabol  $x = y^2 + z^2$  và  $x = 16$ .
4. Nằm trong hình trụ  $x^2 + y^2 = 9$  và nằm giữa mặt  $z = 0$ ,  $z = x^2 + y^2$
5. Giới hạn bởi các mặt  $z = x^2 + y^2$ ,  $z = 0$ ,  $x^2 + y^2 = x$  và  $x^2 + y^2 = 2x$ .

**Bài tập 2.17.** Tìm

1. Tọa độ trọng tâm của vật giới hạn bởi  $2x + 3y - 12 = 0$ ,  $x = 0$ ,  $y = 0$ ,  $z = 0$ ,  $z = \frac{y^2}{2}$  và  $\rho = 1$ .
2. Tọa độ trọng tâm và moment quán tính của  $V$  giới hạn bởi  $z = 0$  và  $z = 1 - x^2 - 2y^2$ .
3. Khối lượng hình lập phương  $0 \leq x \leq 2$ ,  $0 \leq y \leq 2$ ,  $0 \leq z \leq 2$  biết  $\rho(x, y, z) = x + y + z$ .