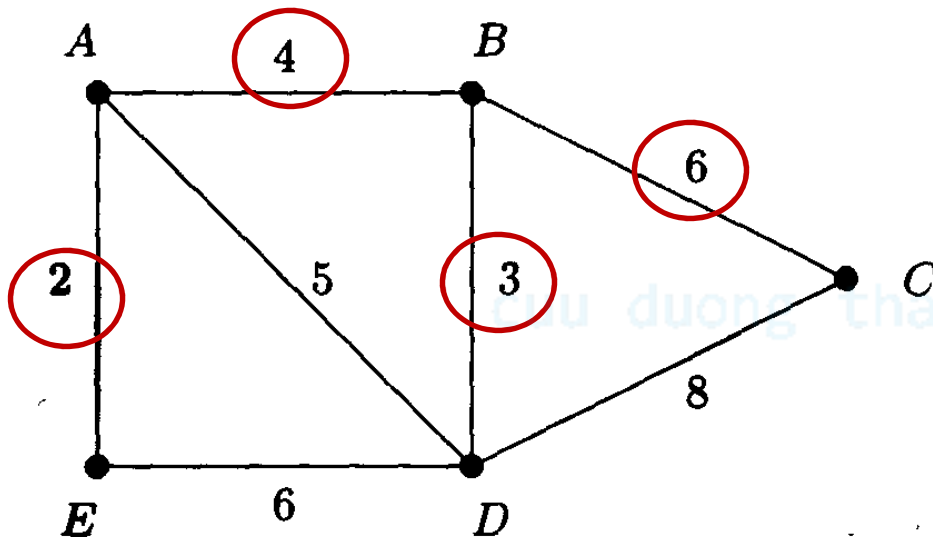


Cây khung ngắn nhất Đường đi ngắn nhất

cuu duong than cong, com

Cây khung tối thiểu

ĐN: Cho G là đồ thị có trọng lượng, các cạnh e có trọng lượng $w(e)$ dương. Tồn tại cây khung có tổng trọng lượng các cạnh là nhỏ nhất \rightarrow *cây khung tối thiểu (minimum spanning tree)*.

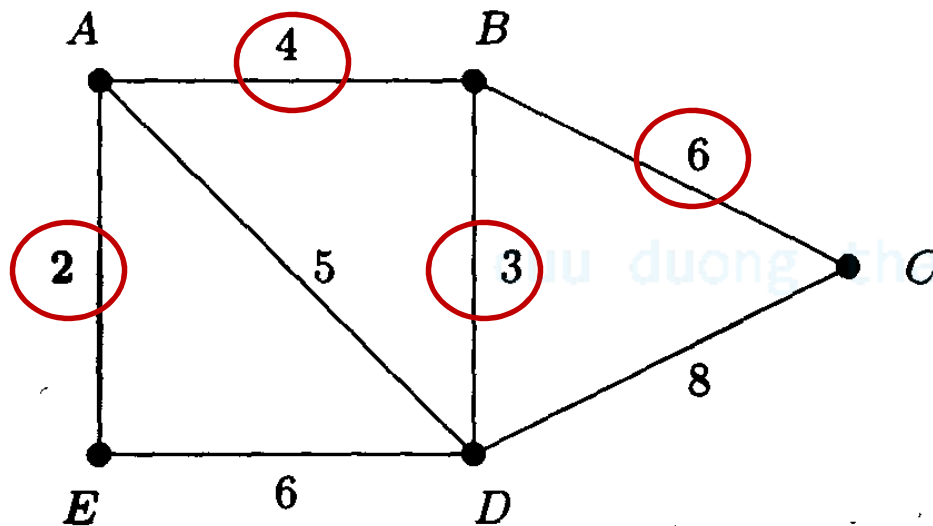


Cây khung tối thiểu $T = \{AE, AB, BD, BC\}$

$$w(T) = 2 + 4 + 3 + 6 = 15.$$

Thuật toán Kruskal tìm cây khung tối thiểu

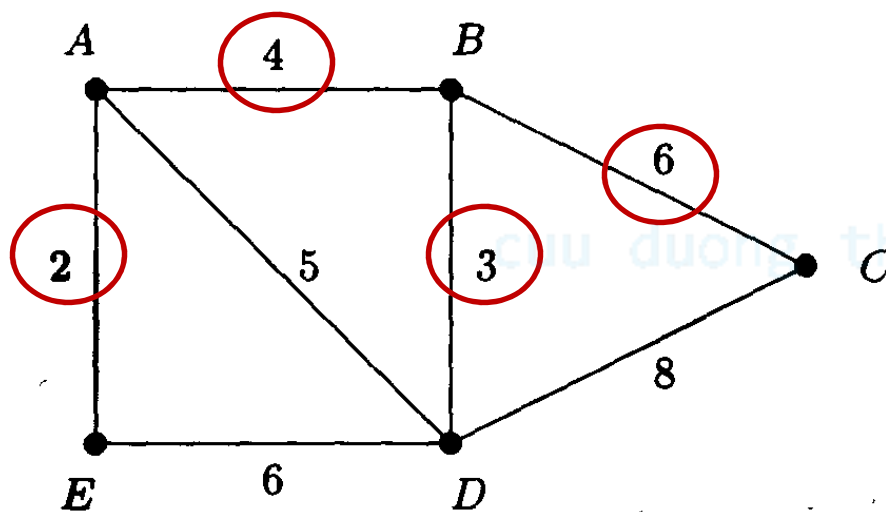
1. Đặt $T = \emptyset$.
2. Đưa vào T cạnh có $w(e)$ nhỏ nhất trong số các cạnh chưa chọn sao cho T không tạo thành chu trình.
3. Nếu T có đủ $n - 1$ cạnh thì dừng. Còn không thì tiếp tục bước 2.



1. $T = \emptyset$.
2. $T = \{AE\}$
3. $T = \{AE, BD\}$
4. $T = \{AE, BD, AB\}$
5. $T = \{AE, BD, AB, BC\}$

Thuật toán Prim tìm cây khung tối thiểu

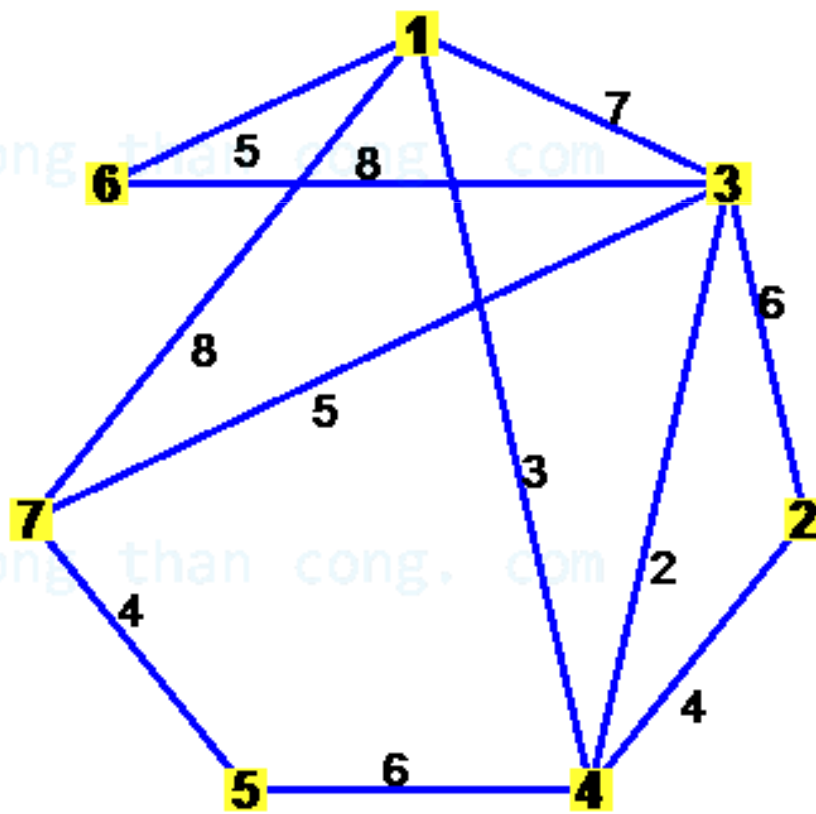
1. $X = \{x_0\}$. $T = \emptyset$.
2. Thêm vào T cạnh có $w(e)$ nhỏ nhất nối một đỉnh x trong X và một đỉnh y ngoài X sao cho T không thành chu trình. $X = X + \{y\}$; $T = T + \{xy\}$.
3. Nếu X đủ n đỉnh thì dừng. Còn không thì tiếp tục bước 2.



1. $X = \{A\}$; $T = \emptyset$.
2. $X = \{A, E\}$; $T = \{AE\}$.
3. $X = \{A, E, B\}$; $T = \{AE, AB\}$.
4. $X = \{A, E, B, D\}$; $T = \{AE, AB, BD\}$.
5. $X = \{A, E, B, D, C\}$; $T = \{AE, AB, BD, BC\}$.


Bài tập

- Tìm cây khung tối thiểu của đồ thị sau bằng hai cách:
 - Prim
 - Kruskal



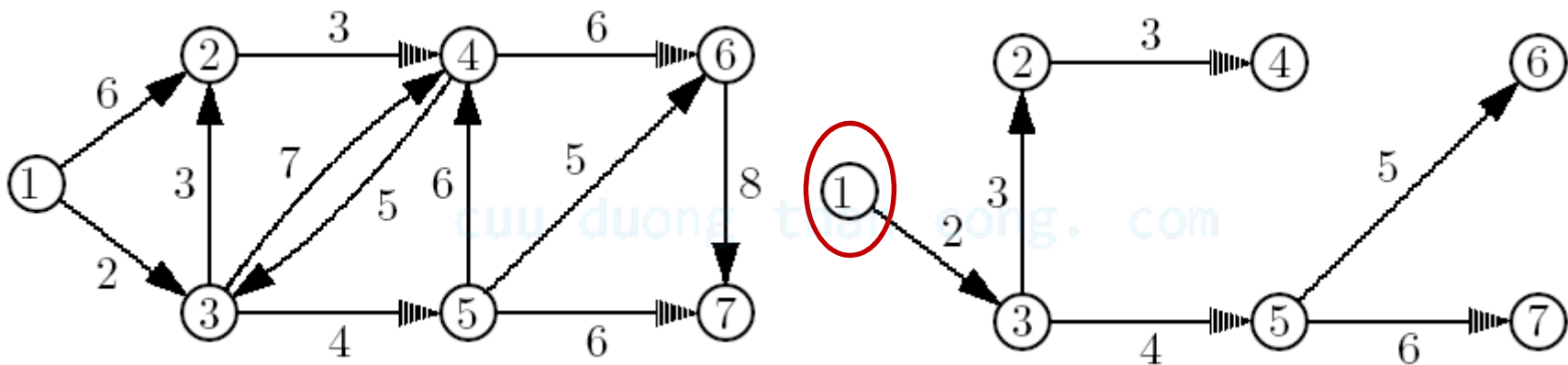
Đường đi ngắn nhất

- Trong đồ thị có trọng lượng, có thể có nhiều con đường đi giữa hai đỉnh a, b bất kỳ.
- Trong thực tế ta thường muốn tìm phương án tối ưu → đường đi ngắn nhất



Thuật toán Dijkstra tìm đường đi ngắn nhất

- **Input**: đồ thị G không có trọng lượng âm, đỉnh xuất phát x_0 .
- **Output**: đường đi ngắn nhất từ x_0 đến các đỉnh còn lại



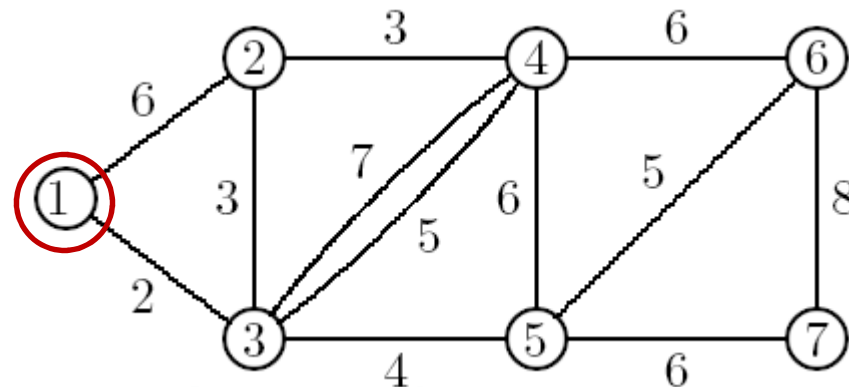
Nguồn: ThS. Trịnh Thanh Đèo

Thuật toán Dijkstra

1. Khởi tạo: $T = V$; $p(x_0) = 0$. Với mọi đỉnh $i \neq x_0$, đặt $p(i) = \infty$, đánh dấu đỉnh i là $(\infty, -)$.
2. Tìm $i \in T$ sao cho $p(i) = \min\{p(j), j \in T\}$.
Cập nhật $T := T - \{i\}$. Nếu $T = \emptyset$ thì dừng. Ngược lại đến bước 3.
3. Nếu $Kề(i) \cap T \neq \emptyset$ thì trong các đỉnh $j \in Kề(i) \cap T$, chọn $p(j) = \min\{p(j), p(i) + D_{ij}\}$. Nếu $p(j)$ được chọn là $p(i) + D_{ij}$ thì đánh dấu j là $(p(j), i)$. Quay lại bước 2.

Đỉnh i có nhãn (x, y) nghĩa là trên đường đi ngắn nhất từ x_0 đến i , trước khi đến i thì qua y , tổng độ dài là x .

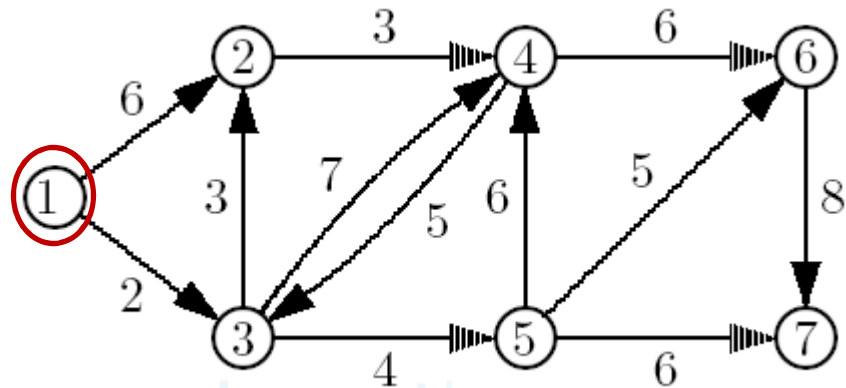
Ví dụ trên đồ thị vô hướng



Bước	đỉnh 2	đỉnh 3	đỉnh 4	đỉnh 5	đỉnh 6	đỉnh 7	đỉnh chọn
1	$(\infty, -)$	$(\infty, -)$	$(\infty, -)$	$(\infty, -)$	$(\infty, -)$	$(\infty, -)$	1
2	$(6, 1)$	$(2, 1)^*$	$(\infty, -)$	$(\infty, -)$	$(\infty, -)$	$(\infty, -)$	3
3	$(5, 3)^*$	—	$(7, 3)$	$(6, 3)$	$(\infty, -)$	$(\infty, -)$	2
4	—	—	$(7, 3)$	$(6, 3)^*$	$(\infty, -)$	$(\infty, -)$	5
5	—	—	$(7, 3)^*$	—	$(11, 5)$	$(12, 5)$	4
6	—	—	—	—	$(11, 5)^*$	$(12, 5)$	6
7	—	—	—	—	—	$(12, 5)^*$	7
KL	$(5, 3)$	$(2, 1)$	$(7, 3)$	$(6, 3)$	$(11, 5)$	$(12, 5)$	

Nguồn: ThS. Trịnh Thanh Đào

Ví dụ trên đồ thị có hướng

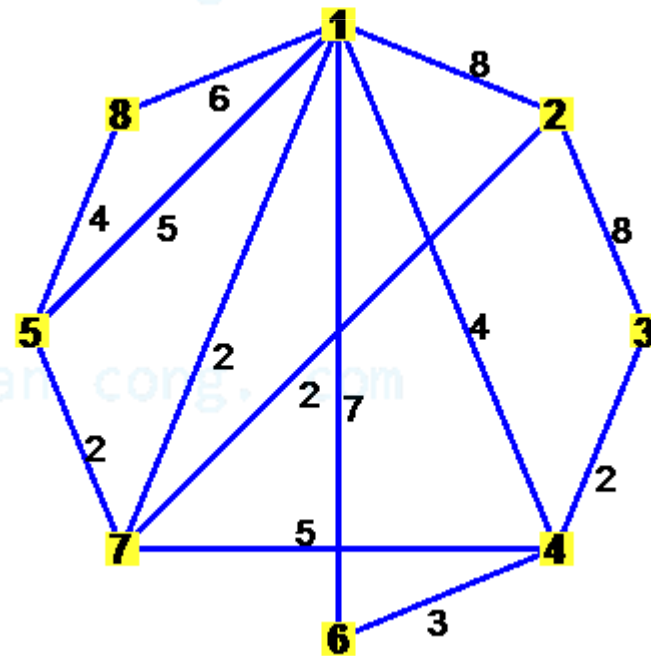


Bước	đỉnh 2	đỉnh 3	đỉnh 4	đỉnh 5	đỉnh 6	đỉnh 7	đỉnh chọn
1	$(\infty, -)$	$(\infty, -)$	$(\infty, -)$	$(\infty, -)$	$(\infty, -)$	$(\infty, -)$	1
2	$(6, 1)$	$(2, 1)^*$	$(\infty, -)$	$(\infty, -)$	$(\infty, -)$	$(\infty, -)$	3
3	$(5, 3)^*$	—	$(9, 3)$	$(6, 3)$	$(\infty, -)$	$(\infty, -)$	2
4	—	—	$(8, 2)$	$(6, 3)^*$	$(\infty, -)$	$(\infty, -)$	5
5	—	—	$(8, 2)^*$	—	$(11, 5)$	$(12, 5)$	4
6	—	—	—	—	$(11, 5)^*$	$(12, 5)$	6
7	—	—	—	—	—	$(12, 5)^*$	7
KL	$(5, 3)$	$(2, 1)$	$(8, 2)$	$(6, 3)$	$(11, 5)$	$(12, 5)$	

Nguồn: ThS. Trịnh Thanh Đào

Bài tập

1. Cho một ví dụ đồ thị Euler nhưng không Hamilton.
2. Cho một ví dụ đồ thị Hamilton nhưng không Euler.
3. Cho một ví dụ đồ thị vừa Euler vừa Hamilton.
4. Tìm đường đi ngắn nhất của đồ thị sau, xuất phát từ đỉnh 3.



5. Cho đồ thị G sau. Tìm đường đi ngắn nhất từ đỉnh 2 đến các đỉnh còn lại.

